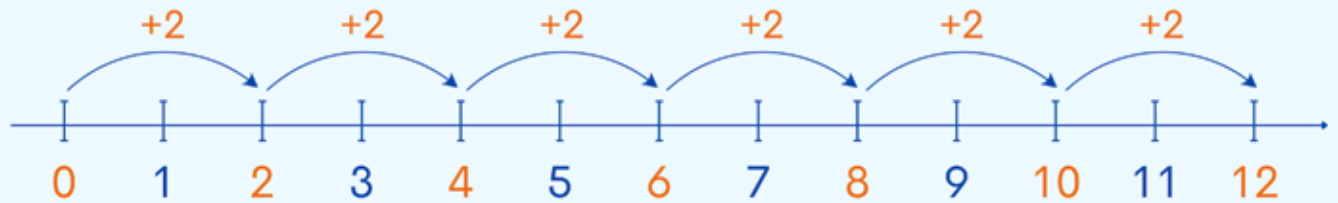


סדרות

לומדים

סדרה היא רצף מספרים, עם חלק קבוע כדי לעבור ממספר למספר הבא. דגמה לסדרה: 0, 2, 4, 6, 8. בסדרה זו, החלק הוא: "הוסף 2".



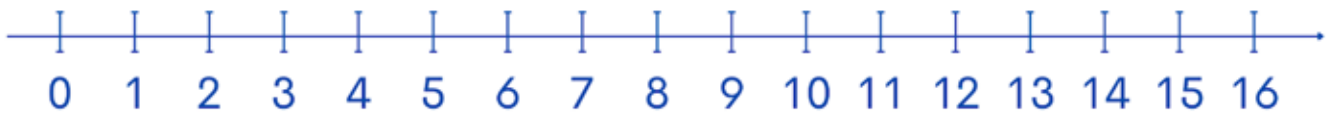
לכן המספר הבא בסדרה זו הוא 12, כי $10+2=12$

מתרגלים

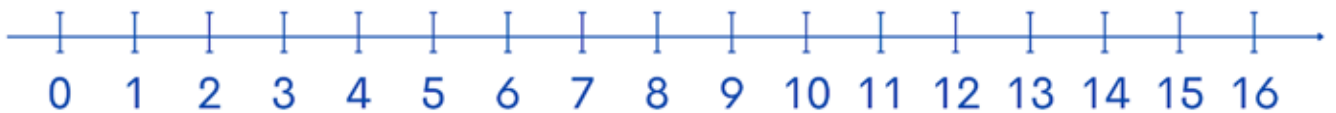


1 השלימו (אפשר להעזר בציר המספרים)

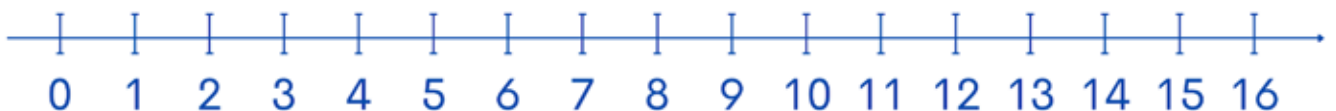
- א בסדרה 1, 3, 5, 7, 9 החלק הוא: הוסף ____ .
לכן המספר הבא בסדרה הוא: ____ .



- ב בסדרה 9, 8, 7, 6, 5 החלק הוא: החסר ____ .
לכן המספר הבא בסדרה הוא: ____ .



- ג בסדרה 0, 3, 6, 9, 12 החלק הוא: ____ .
לכן המספר הבא בסדרה הוא: ____ .



2 מצאו את החק והשלימו את המספרים החסרים בסדרה.

א 5, 7, 9, __, __, 15, __

!צוגי

החק הוא: _____

ב 10, 20, __, __, 50, __, __

החק הוא: _____

ג 30, 29, 28, __, __, __, 24

החק הוא: _____

ד 100, 90, 80, __, __, __, 40

החק הוא: _____



3 השלימו את מספרי הבתים.



4 מצאו את החק והשלימו.

+ _

5 — 10 — [] — [] — [] — [] — []

א

- _

80 — 75 — [] — [] — [] — [] — []

ב



5 עֵינֵנו בְּלוֹחַ הַ 100 וְהַשְּׁלִימוּ לְפִי הַדְּגָמָה.

1	2	3	4	5	6	7	8	9	10
11	12	13	14	15	16	17	18	19	20
21	22	23	24	25	26	27	28	29	30
31	32	33	34	35	36	37	38	39	40
41	42	43	44	45	46	47	48	49	50
51	52	53	54	55	56	57	58	59	60
61	62	63	64	65	66	67	68	69	70
71	72	73	74	75	76	77	78	79	80
81	82	83	84	85	86	87	88	89	90
91	92	93	94	95	96	97	98	99	100



א בסדרה $1, 2, 3, 4, \dots$ המספר הבא הוא 5. החק הוא +1.
 החק בלוח ה 100 הוא: עבר משבצת אחת ימינה.

ב בסדרה $1, 3, 5, 7, \dots$ המספר הבא הוא . החק הוא .
 החק בלוח ה 100 הוא:

ג בסדרה $6, 16, 26, 36, \dots$ המספר הבא הוא . החק הוא .
 החק בלוח ה 100 הוא:

ד בסדרה $70, 68, 66, 64, \dots$ המספר הבא הוא . החק הוא .
 החק בלוח ה 100 הוא:

ה בסדרה $97, 87, 77, 67, \dots$ המספר הבא הוא . החק הוא .
 החק בלוח ה 100 הוא: