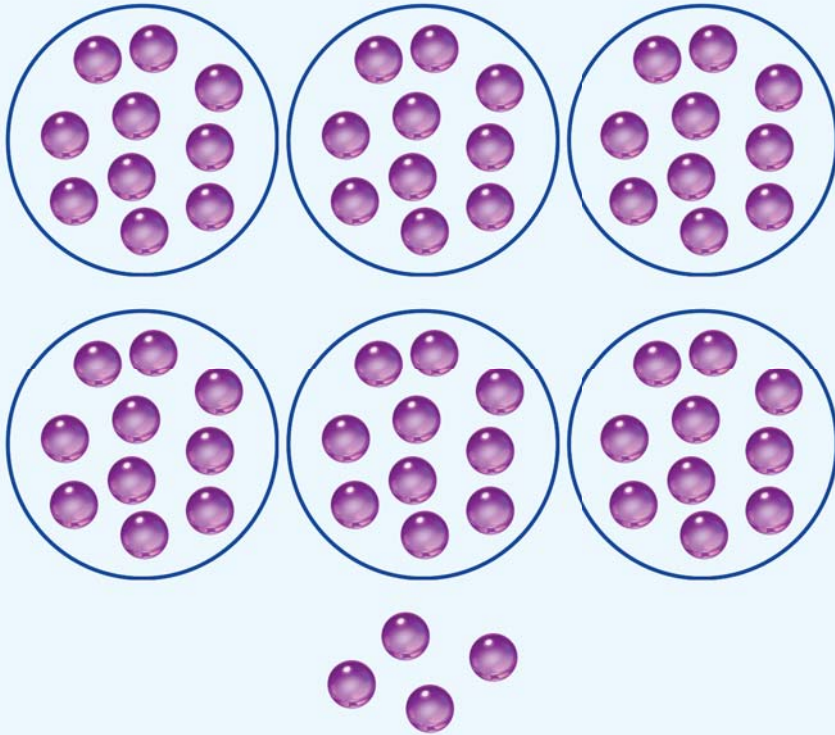


מְנִיָּה וְסִפִּירָה עַד 100, הַמְבִּנָּה הָעֶשְׂרוֹנִי

לומדים




כמה גלות יש בסך הכל?
יש 6 עשרות ו 4 יחידות.
קוראים: **ששים וארבע**
תשובה: יש **64** גלות.

עשרות	יחידות
6	4

מתרגלים


1 מנו את מספר הגלות (העזרו בבניית קבוצות של 10 גלות).



א יש ___ קבוצות של 10 גלות ועוד ___ גלות בודדות.
לכן יש ___ עשרות ו ___ יחידות.

כותבים: בסך הכל, יש ___ גלות.

עשרות	יחידות



ב יש ___ קבוצות של 10 גלות ועוד ___ גלות בודדות.
לכן יש ___ עשרות ו ___ יחידות.

כותבים: בסך הכל, יש ___ גלות.

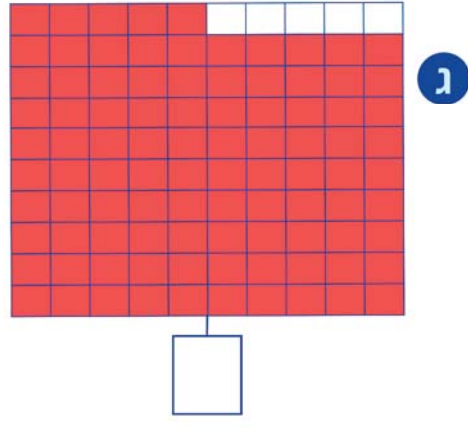
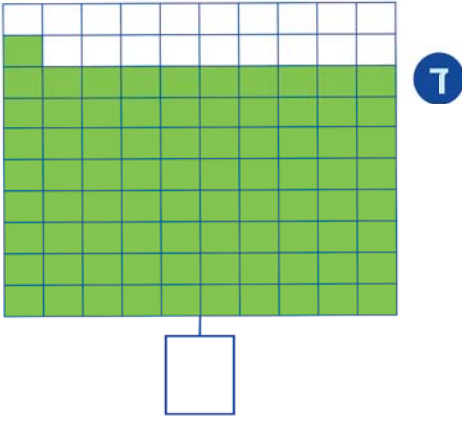
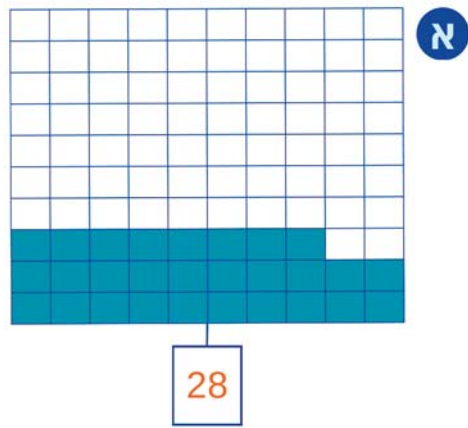
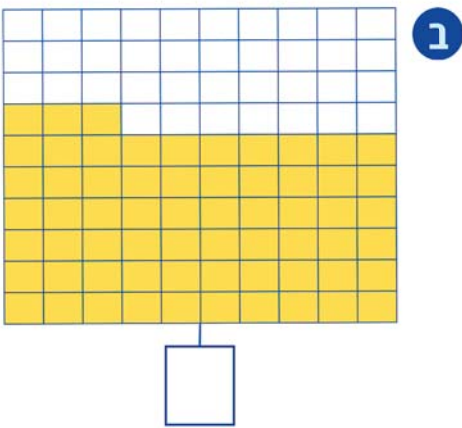
עשרות	יחידות



2

יצוגי

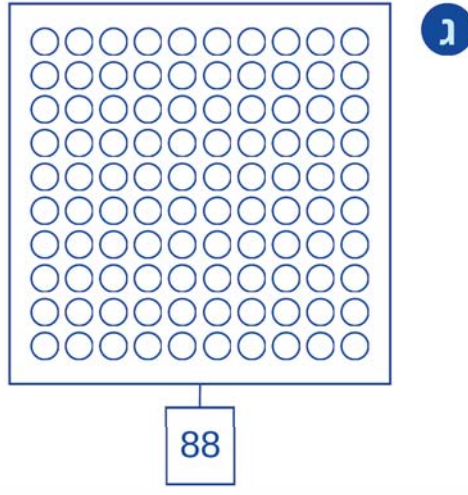
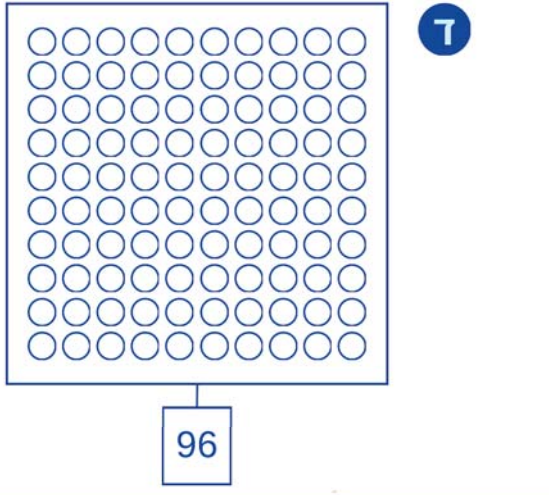
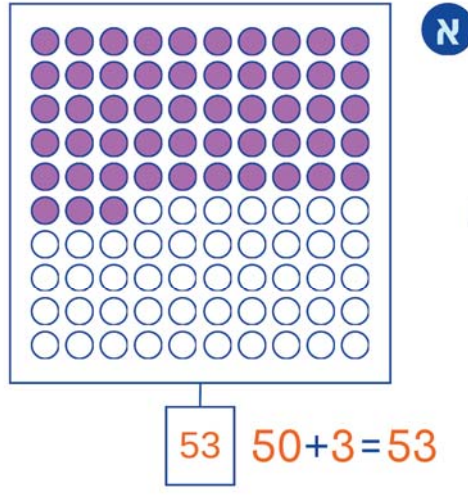
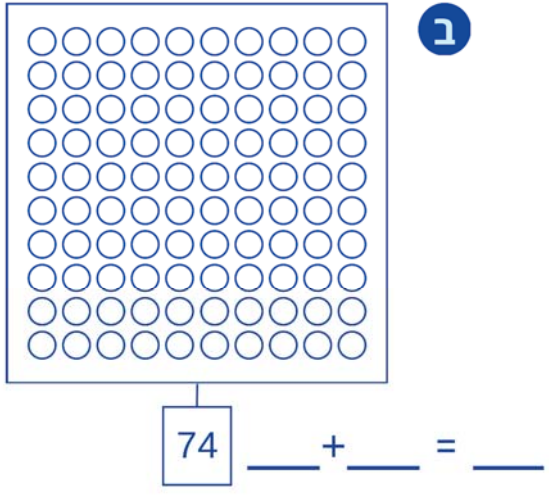
השלימו עם
המספר
המתאים, לפי
הדגמה.



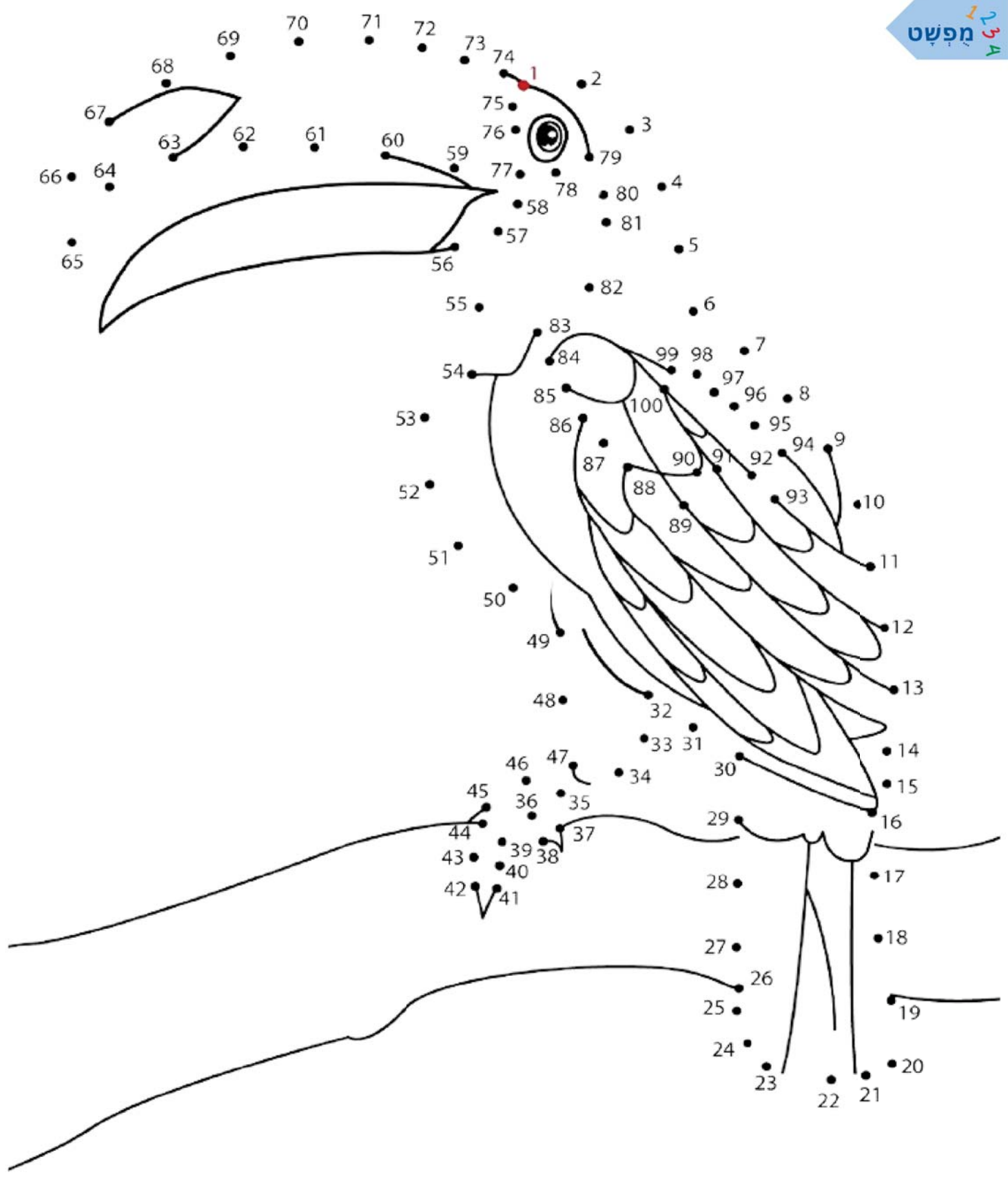
3

יצוגי

צבעו עגולים לפי
המספר
והשלימו, לפי
הדגמה.



4 חִבְרוּ אֶת הַנְּקֻדּוֹת לְפִי הַסֵּדֵר הָעוֹלָה, מִ 1 עַד 100.



פיתוח וכתיבה



דפי הלמידה ע"ש קלווד קדוש ז"ל מחולקים לכולם ללא עלות ע"י עמותת נגבה.
עמותת נגבה מפעילה מסגרות אחר הצהריים לילדים ונערים בדרום ובמרכז הארץ.

לפרטים נוספים: negba.org

© כל הזכויות שמורות לעמותת אבינה ולעמותת נגבה.



5 השלימו, לפי הדגמה.

$79 = \underline{\quad} + \underline{\quad}$ ב

$64 = 60 + 4$ א

מפשט

$99 = \underline{\quad} + \underline{\quad}$ ד

$82 = \underline{\quad} + \underline{\quad}$ ג

6 השלימו, לפי הדגמה.

$70 + 1 = \underline{\quad}$ ב

$90 + 3 = 93$ א

מפשט

$80 + 8 = \underline{\quad}$ ד

$50 + 9 = \underline{\quad}$ ג



אלוף

7 השלימו

$70 + \underline{\quad} = 76$ ג

$9 + 50 = \underline{\quad}$ ב

$6 + 90 = \underline{\quad}$ א

מפשט

$\underline{\quad} + \underline{\quad} = 90$ ד

$\underline{\quad} + \underline{\quad} = 84$ ה

$\underline{\quad} + 5 = 95$ ב



אלוף

8 חשבו.

$50 + 10 + 30 = \underline{\quad}$ ב

$40 + 20 + 10 = \underline{\quad}$ א

מפשט

$8 + 20 + 40 = \underline{\quad}$ ד

$70 + 10 + 5 = \underline{\quad}$ ג

$\underline{\quad} + 20 + \underline{\quad} = 86$ ד

$60 + 20 + \underline{\quad} = 87$ ה

