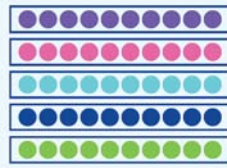


# העשרות עד 100

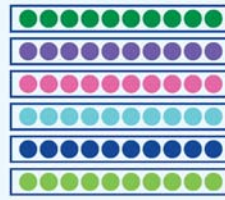
## לומדים

חמש עשרות



50  
חמשים

שש עשרות




60  
ששים

שבע עשרות



70  
שבעים

שמונה עשרות




80  
שמונים

תשע עשרות



90  
תשעים

עשר עשרות




100  
מאה


## מתרגלים

1 השלימו לפי הדגמה

!צוגי



ב



א


40

4 עשרות, ארבעים




עשרות, \_\_\_\_\_

ג



\_\_\_\_\_ עשרות, \_\_\_\_\_

ד



\_\_\_\_\_ עשרות, \_\_\_\_\_

2 השלימו, לפי הדגמה.

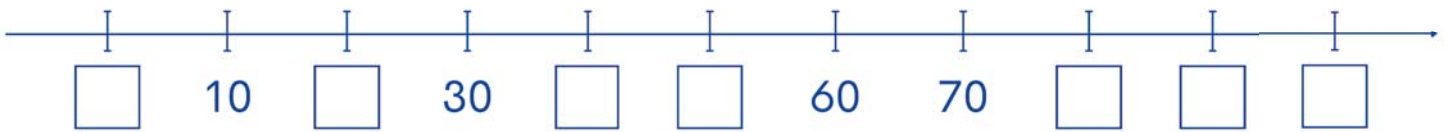


7 ○ 9 <sup>ג</sup>  
70 ○ 90

5 ○ 5 <sup>ב</sup>  
50 ○ 50

6 > 4 <sup>א</sup>  
60 > 40

3 הציבו את המספרים על ציר המספרים.



4 חברו, לפי הדגמה.

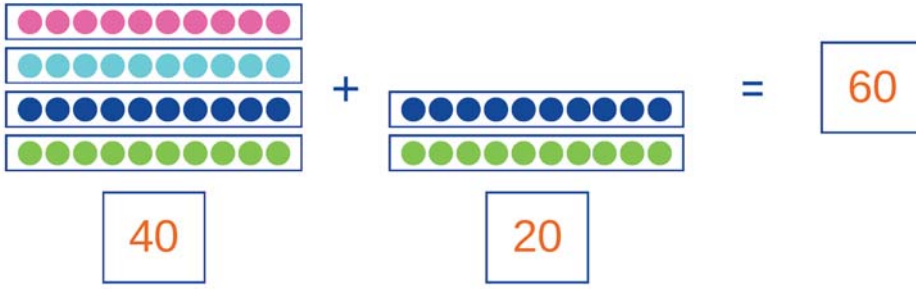


שבעים	3 עשרות	40
שלושים	4 עשרות	70
ארבעים	7 עשרות	30
עשר	10 עשרות	100
מאה	1 עשרת	10

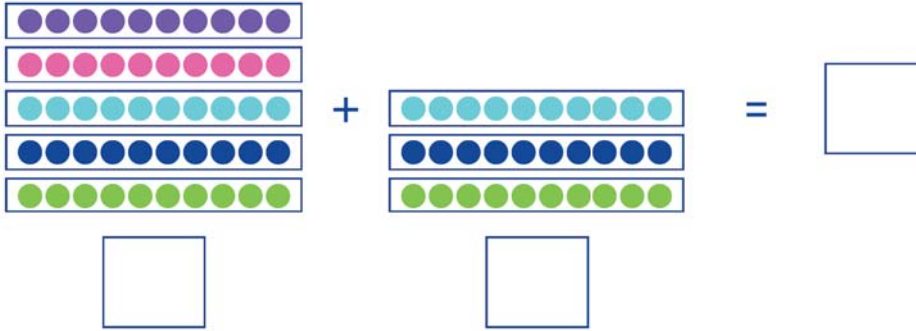


5 השלימו, לפי הדגמה.

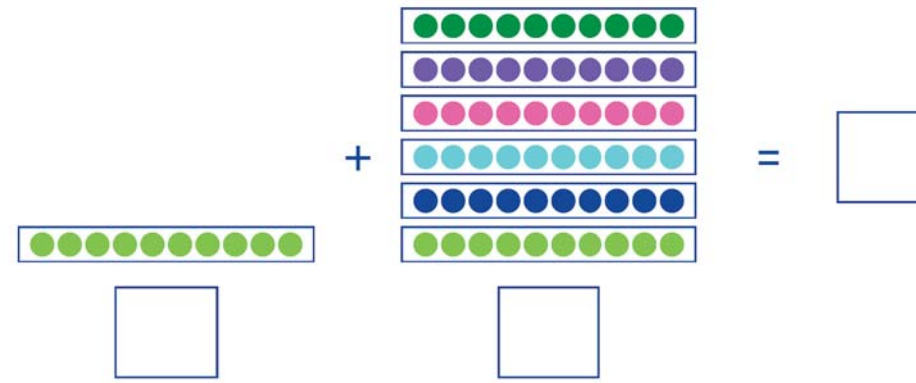
מפשט



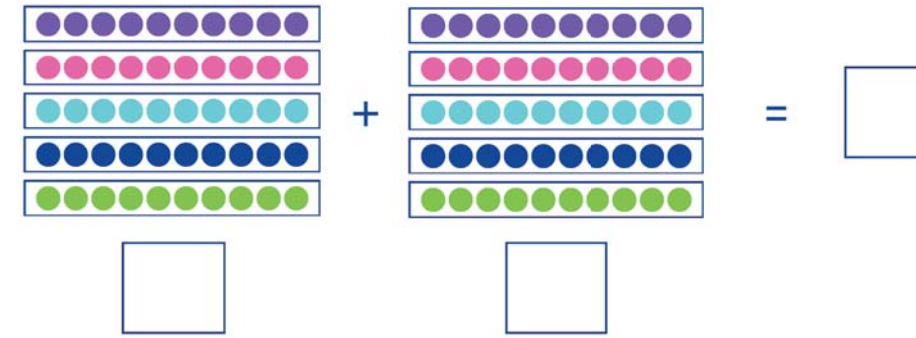
א



ב



ג



ד

$4+4 = \square$	ג	$1+5 = \square$	ב	$2+3 = 5$	א
$40+40 = \square$		$10+50 = \square$		$20+30 = 50$	
$1+6 = \square$	ו	$6+3 = \square$	ה	$3+7 = \square$	ד
$10+60 = \square$		$60+30 = \square$		$30+70 = \square$	

6 מפשט

השלימו, לפי הדגמה.

