

# המבנה העשרוני עד 50

## לומדים

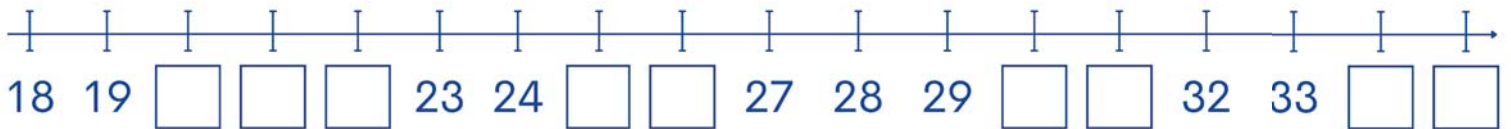
המספרים מסודרים על ציר המספרים, מהקטן לגדול, משמאל לימין.  
המספר 35 נמצא באמצע הקטע שבין המספר 30 והמספר 40.



המספר הקודם של 30 הוא 29.  
המספר העוקב של 30 הוא 31.

## מתרגלים

1 השלימו את המספרים החסרים על ציר המספרים.



2 סמנו את המקום של המספר 20 על ציר המספרים, וכתבו אותו.



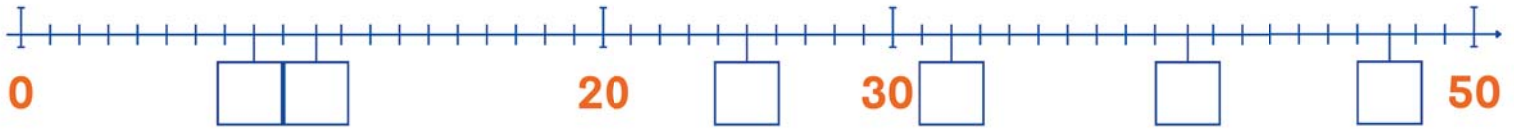
3 סמנו בערך את המקום של המספר 43 על ציר המספרים, וכתבו אותו.



4 כתבו את המספרים הבאים במקומם על ציר המספרים.

25 10 47 32 40 8

מפשט 1 2 3 4

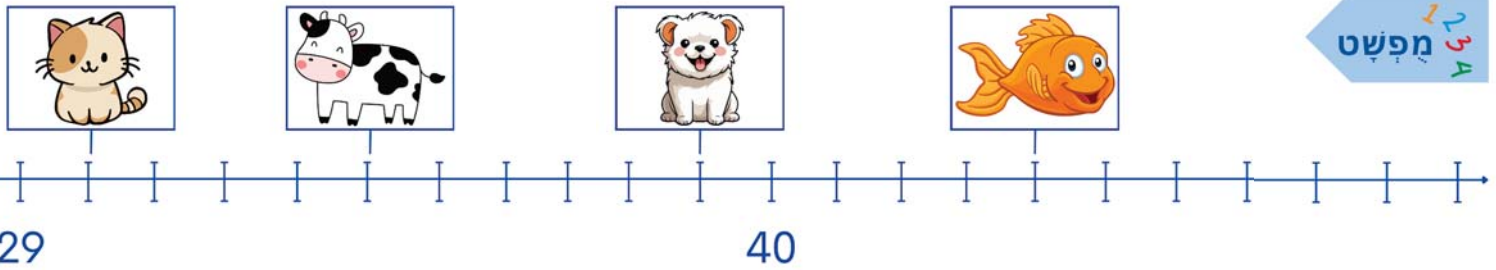


5 כתבו את המספר הקודם ואת המספר העוקב של כל אחד מהמספרים הבאים (העזרו בציר המספרים).

___, 29, ___	ג	___, 40, ___	ב	___, 42, ___	א
				הקודם	העוקב
___, 28, ___	ו	___, 30, ___	ה	___, 49, ___	ד

מפשט 1 2 3 4

5 חברו קטע בין כל חיה וההגדרה המתאימה למקום שלה על ציר המספרים.



מפשט 1 2 3 4

אני במספר 44.



אני במספר העוקב של 29.



אני במספר הקודם של 40.



אני בין המספר 33 והמספר 35.

