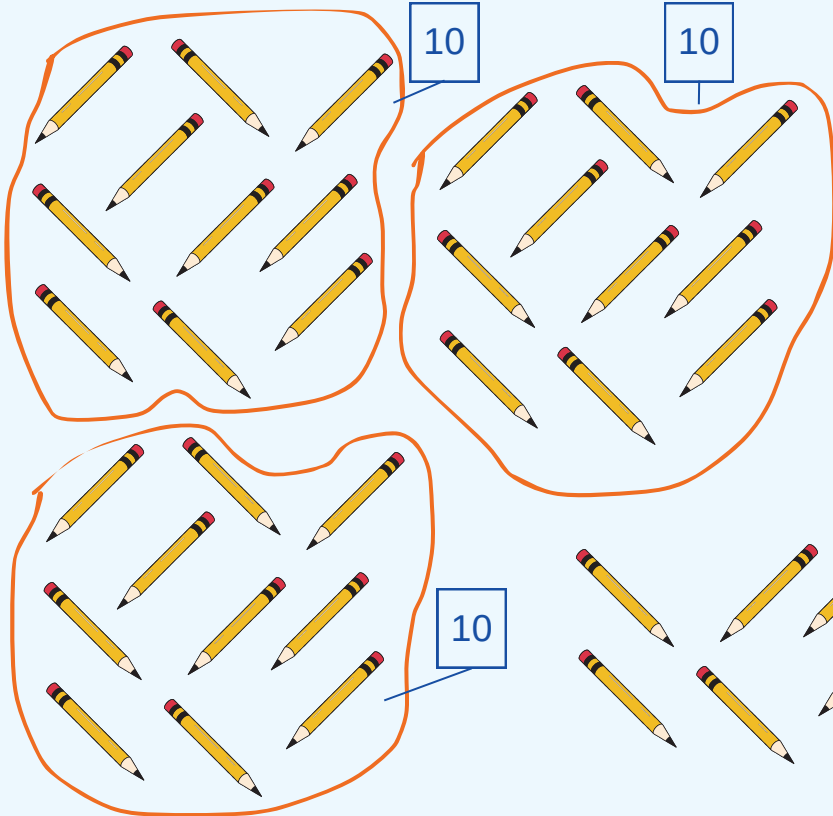


# מְנִיָּה וְסִפִּירָה עַד 50, הַמְבָּנָה הָעֶשְׂרוֹנִי

## לומדים




כמה עפרונות יש בסך הכל?  
יש 3 עשרות ו 6 יחידות.  
קוראים "שלושים ושש"  
תשובה: יש 36 עפרונות.

עשרות	יחידות
3	6

## מתרגלים

1 מנו את מספר העפרונות (העזרו בבניית קבוצות של 10 עפרונות) והשלימו.




יש \_\_\_ קבוצות של 10 עפרונות ועוד \_\_\_ עפרונות בודדים.  
לכן יש \_\_\_ עשרות ו \_\_\_ יחידות.



עשרות	יחידות

בסך הכל, יש \_\_\_ עפרונות.

ב 1 יש \_\_\_ קבוצות של 10 עפרונות ועוד \_\_\_ עפרונות בודדים.



לכן יש \_\_\_ עשרות ו \_\_\_ יחידות.

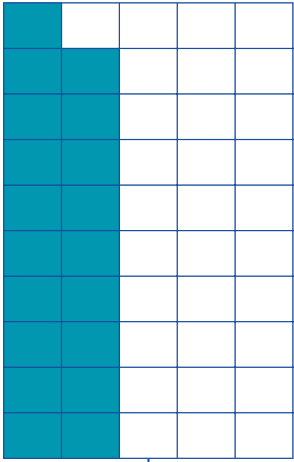
עשרות	יחידות

בסך הכל, יש \_\_\_ עפרונות.




2 השלימו עם המספר המתאים, לפי הדגמה.

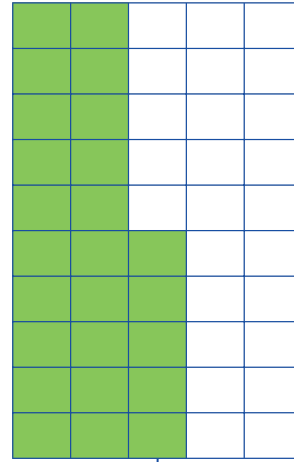
!צוגי




ג



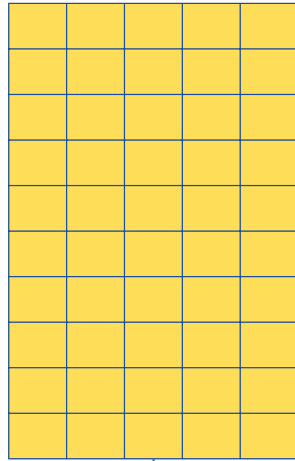
ב



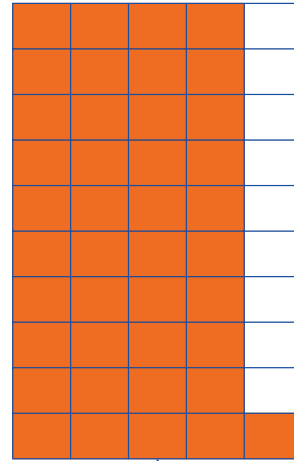
א



ו




ה



ד

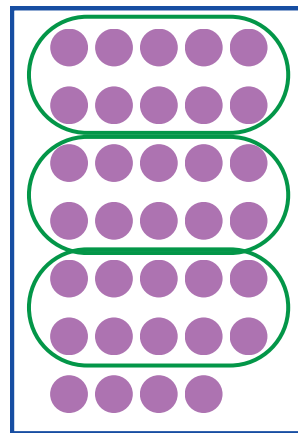
3 צירו עגולים לפי המספר (בנו קבוצות של 10) והשלימו, לפי הדגמה.

!צוגי



ב

$25 = \underline{\quad} + \underline{\quad}$



א

$34 = 30 + 4$



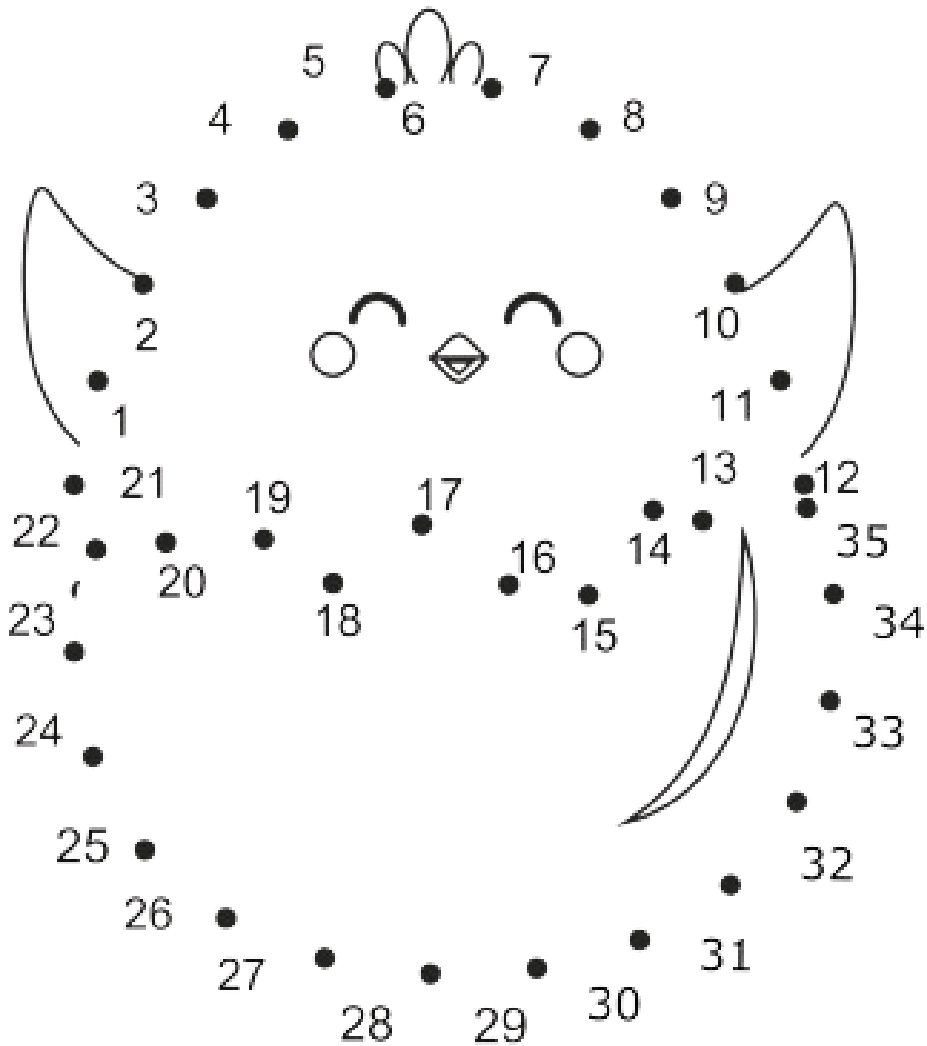
ד

44 = \_\_\_ + \_\_\_


ג

40 = \_\_\_ + \_\_\_

4 חברו את הנקודות, מהמספר הקטן לגדול (מתחיל מ 0)




5 כתבו את מספר העטים והשלימו, לפי הדגמה.




ב

+  =




א

$20+3=23$



ד

+  =



ג

+  =

6 השלימו, לפי הדגמה.

$50 = \underline{\quad} + \underline{\quad}$  **ד**    $27 = \underline{\quad} + \underline{\quad}$  **ג**    $49 = \underline{\quad} + \underline{\quad}$  **ב**    $37 = \underline{30} + \underline{7}$  **א**



6 השלימו, לפי הדגמה.

$40+8 = \underline{\quad}$  **ד**    $30+7 = \underline{\quad}$  **ג**    $10+9 = \underline{\quad}$  **ב**    $20+5 = \underline{25}$  **א**



$9+30 = \underline{\quad}$  **ו**    $5+20 = \underline{\quad}$  **ה**

$\underline{\quad} + \underline{\quad} = 40$  **ז**    $\underline{\quad} + \underline{\quad} = 34$  **ט**    $\underline{\quad} + 7 = 27$  **ח**    $40 + \underline{\quad} = 45$  **י**

