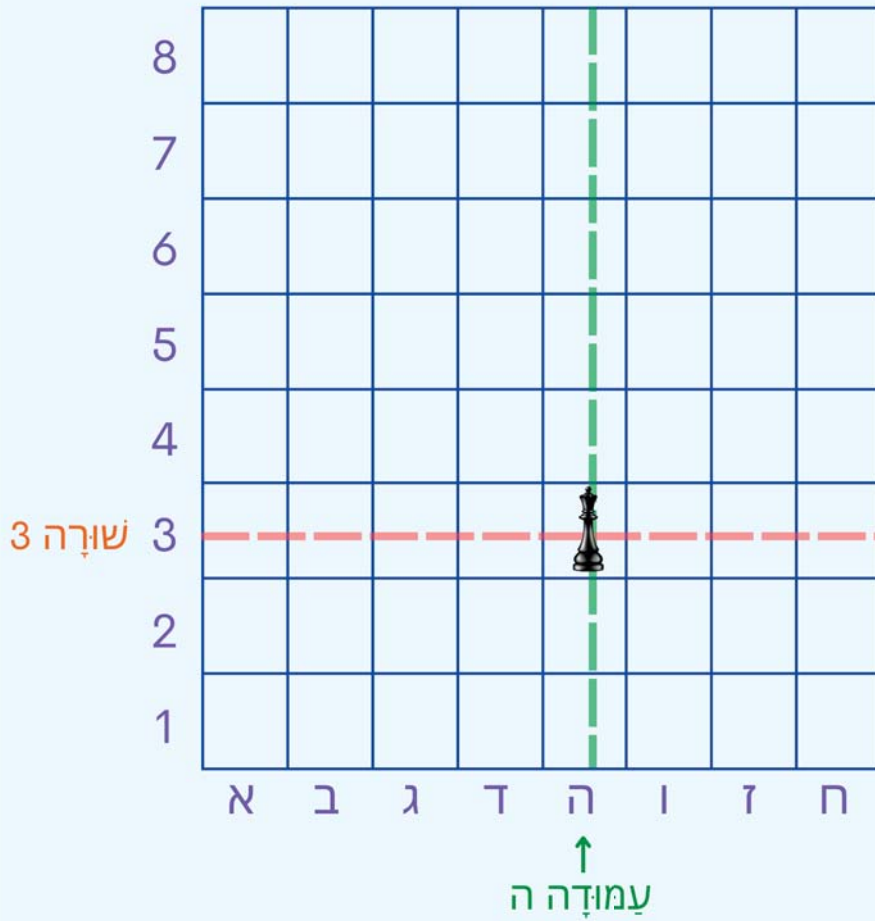


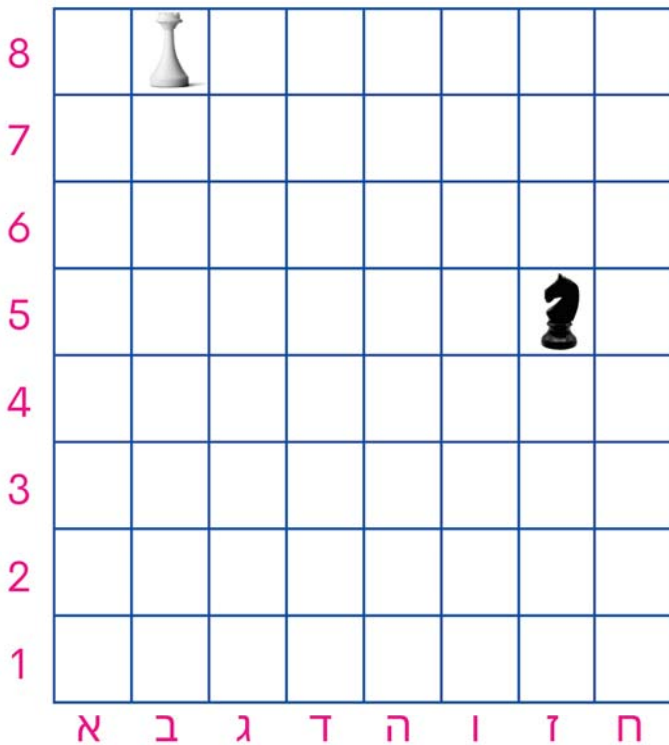
רשתות – משבצות

לומדים



המלכה נמצאת בהצטלבות של עמודה ה ושל שורה 3. כותבים שהיא נמצאת במשבצת (ה, 3). קוראים משמאל לימין: ה ואחר כך 3.

מתרגלים

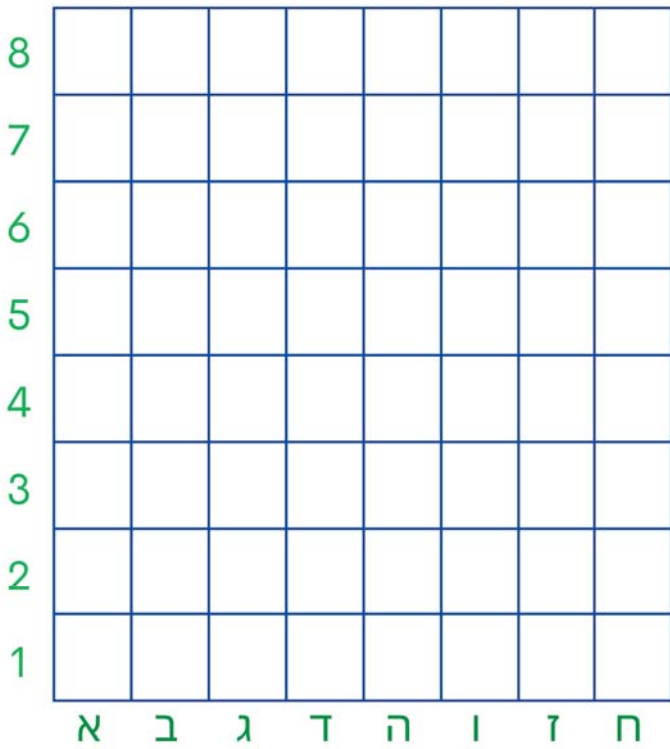


1 כתבו באיזו משבצת נמצא

הצריח () והסוס ()

הצריח: (__ , __)
הסוס: (__ , __)





2 צִירוּ אֶת הַרְגְלִי () וְאֶת

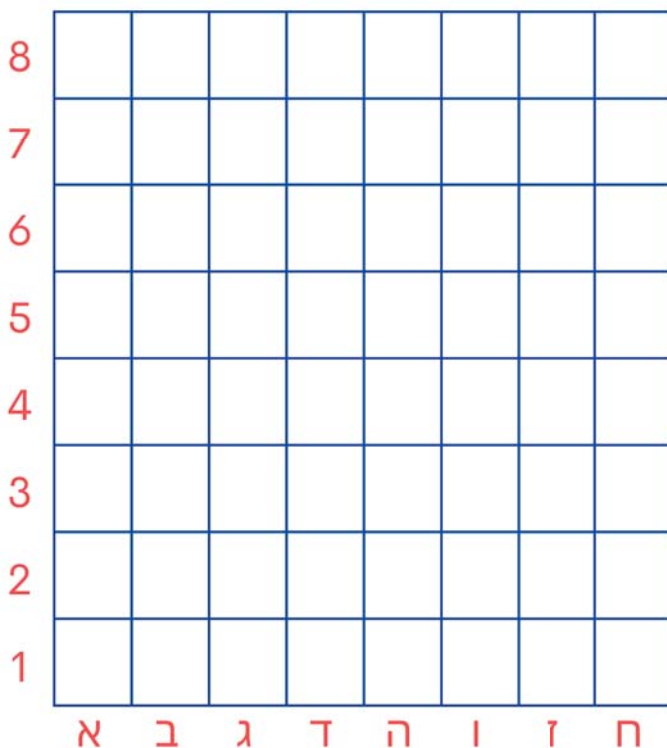
הַמְלָכָה () בַּמְשֻׁבָּצֵת שֶׁלָּהֶם.

רְגְלִי (2, ח)
מְלָכָה (6, ג)

מוחשי 



3 צִירוּ אֶת הַסּוּס בַּמְשֻׁבָּצֵת שְׁלוֹ וְאֶת הַמְלָכָה שְׁתֵּי
מְשֻׁבָּצוֹת מֵעַל הַסּוּס.
כְּתוּבוּ אֶת הַמְשֻׁבָּצֵת שֶׁל הַמְלָכָה.



הַסּוּס (5, ד)
הַמְלָכָה (____, ____)

מוחשי 



פיתוח וכתביה

דפי הלימדה ע"ש קלוד קדוש ז"ל מחולקים לכולם ללא עלות ע"י עמותת נגבה.
נגבה מפעילה מועדוניות ומועדוני נוער לצעירים מהפריפריה החברתית.

לפרטים נוספים ותמיכה: negba.org

© כל הזכויות שמורות לעמותת אבינה ולעמותת נגבה.



4 צבעו את המשבצות לפי הנתונים:

יצוגי

8								
7								
6								
5								
4								
3								
2								
1								
	א	ב	ג	ד	ה	ו	ז	ח

אדם (א, 4)

ירק (ו, 2)

כחל (ב, 7)

שחר (ח, 8)