


חסור עד 17

לומדים

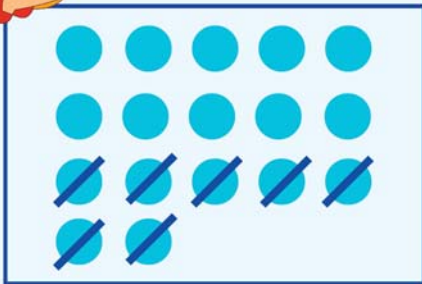


לכרמית היו 17 עוגיות.
היא אכלה 7 מהן.
כמה עוגיות נשארו לה?
הנתונים:

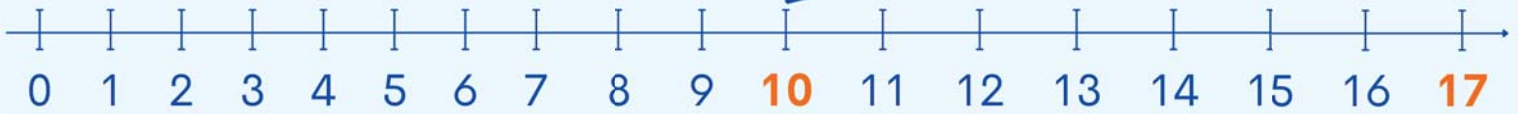
היו: 17 עוגיות. כרמית אכלה: 7 עוגיות.
החשוב: $17 - 7 = 10$
התשובה: נשארו 10 עוגיות.




יצוג:



$$17 - 7 = 10$$



מתרגלים



לאביב היו 17 עוגיות. הוא אכל 8 מהן.
כמה עוגיות נשארו לו?
הנתונים:

1 א




היו _____ עוגיות.
אביב אכל: _____ עוגיות.
החשוב:

התשובה: נשארו _____ עוגיות.



יצוג:





יצוג:

1 לרחלי היו 17 עוגיות. היא אכלה 9 מהן.

כמה עוגיות נשארו?

הנתונים:

היו _____ עוגיות.

רחלי אכלה: _____ עוגיות.

החשוב:

התשובה: נשארו _____ עוגיות.

2 פתרו לפי הדגמה.

יצוגי

1

$$\square - \square = \square$$

א

$$16 - 6 = 10$$

ב

$$\square + \square = \square$$

ג

$$\square + \square = \square$$

3 פתרו (אפשר להעזר בציר המספרים).

מפגש

$17 - 8 = \square$ ד

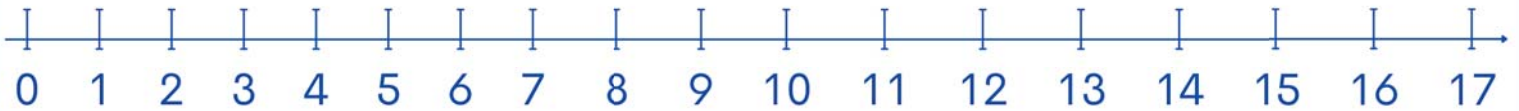
$16 - 9 = \square$ א

$17 - 3 = \square$ ה

$17 - 9 = \square$ ב

$17 - 17 = \square$ ו

$15 - 6 = \square$ ג



זכרים

$17 - 8 = 9$

$17 - 9 = 8$



פיתוח וכתיבה

דפי הלמידה ע"ש קלוד קדוש ז"ל מחולקים לכולם ללא עלות ע"י עמותת נגבה.
נגבה מפעילה מועדוניות ומועדוני נוער לצעירים מהפריפריה החברתית.

לפרטים נוספים ותמיכה: [negba.org](https://www.negba.org)

© כל הזכויות שמורות לעמותת אבינה ולעמותת נגבה.

