

חבור עד 17

לומדים



סער וגולן קטפו תפוחים.
 סער קטף 9 תפוחים אדמים.
 גולן קטף 8 תפוחים ירקים.
 כמה תפוחים הם קטפו בסך הכל?
 הנתונים:

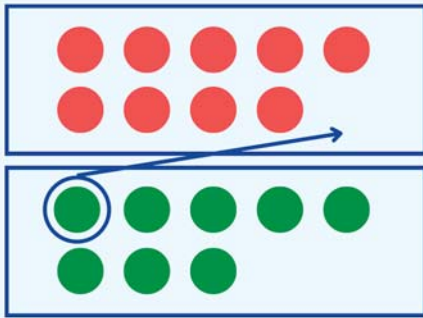
סער: 9 תפוחים.

גולן: 8 תפוחים.

החשוב: $9 + 8 = 17$

התשובה: בסך הכל, הם קטפו 17 תפוחים.

יצוג:



מתרגלים

1



יצוג:

דביר קטף 8 אגסים צהבים.
 חן קטפה 9 אגסים ירקים.
 כמה אגסים הם קטפו בסך הכל?
 הנתונים:

דביר: _____ אגסים.

חן: _____ אגסים.

החשוב:

בסך הכל, הם קטפו _____ אגסים.

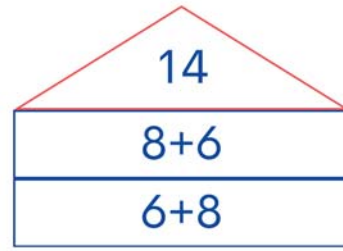
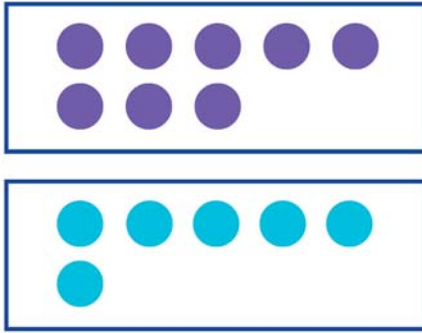


2 א

השלימו את הבתים, לפי הדגמה.

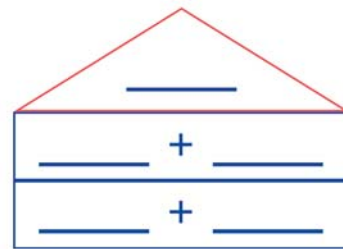
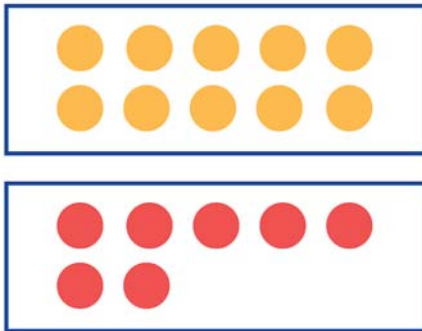
יצוגי

יצוגי:



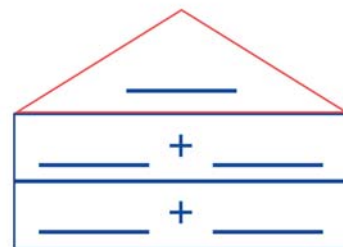
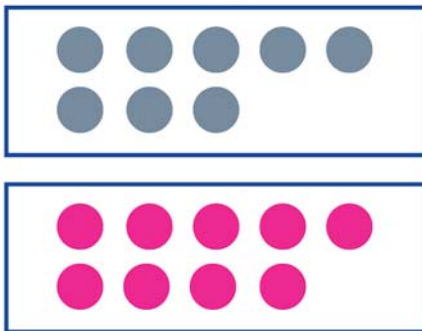
ב

יצוגי:



ג

יצוגי:



3 חשבו את הסכומים.

מפשט

$6 + 10 = \square$ א

$7 + 9 = \square$ ב

$8 + 9 = \square$ ג

$2 + 15 = \square$ ד

$5 + 8 = \square$ ה

$7 + 10 = \square$ ו





4 חשבו את הסכומים, וכתבו את הסימן המתאים, לפי הדגמה.

\square
 $\overbrace{7+9}$ ○ $\overbrace{6+10}$ **ב**

$\overset{12}{\overbrace{5+7}}$ < $\overset{13}{\overbrace{4+9}}$ **א**




\square
 $\overbrace{10+17}$ ○ $\overbrace{6+11}$ **ד**

\square
 $\overbrace{8+9}$ ○ $\overbrace{10+5}$ **ג**




5 צירו את הגלות שמאחורי הילון, והשלימו את החבור, לפי הדגמה.


יצוגי



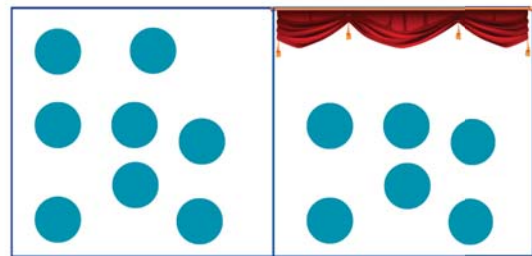
$10 + ? = 17$



$10 + \square = 17$




$8 + ? = 14$




$8 + 6 = 14$







$$12 + ? = 17$$



$$12 + \square = 17$$



$$8 + ? = 17$$



$$8 + \square = 17$$



אלוף

6 כתבו שלשה תרגילי חבור שונים, לפי הדגמה.

ב

$$\begin{array}{r} _ + _ + _ = 15 \\ _ + _ + _ = 15 \\ _ + _ + _ = 15 \end{array}$$

א

$$\begin{array}{r} 4 + 1 + 5 = 10 \\ 3 + 4 + 3 = 10 \\ 6 + 3 + 1 = 10 \end{array}$$



ד

$$\begin{array}{r} _ + _ + _ = 16 \\ _ + _ + _ = 16 \\ _ + _ + _ = 16 \end{array}$$

ג

$$\begin{array}{r} _ + _ + _ = 17 \\ _ + _ + _ = 17 \\ _ + _ + _ = 17 \end{array}$$

זוכרים

$$9 + 8 = 17 \quad 8 + 9 = 17$$

