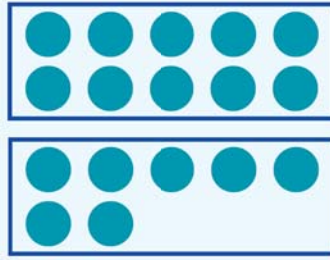


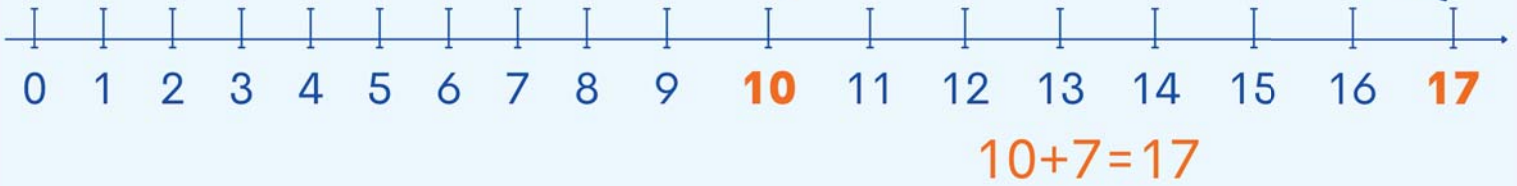
המספר 17

לומדים

עשרות	יחידות
1	7



17
שבע עשרה
+7



מתרגלים

1 הקיפו כל קבוצה של 10 כובעים, ואז כתבו כמה כובעים יש בסך הכל, לפי הדגמה.

1

2 מוחשי


16

3


4

2 צבעו את מספר הגלות המתאים לכל מספר.


יצוגי




ב



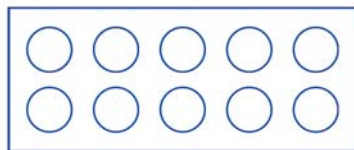
א



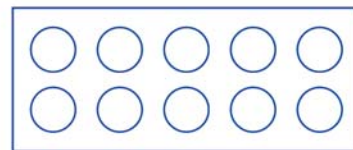
14




17



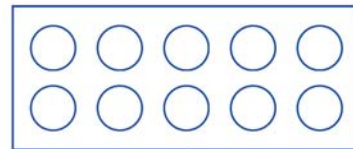
ד



ג



15



16

3 השלימו עם הסימן המתאים ($<$, $=$, $>$)
גדול מ, שווה, קטן מ

מפשט

17 ○ 15 ^ב

13 ○ 15 ^א

14 ○ 14 ^ד

16 ○ 17 ^ג

4 העתיקו את המספרים מהקטן לגדול, משמאל לימין.

17, 0, 15, 9, 13, 16, 14

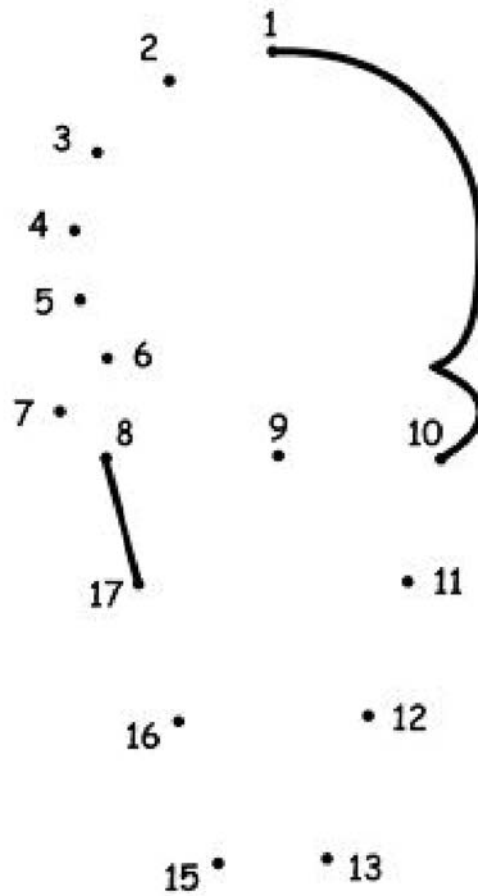
מפשט

□ □ □ □ □ □ □



5 חֲבְרוּ אֶת הַנְּקֻדּוֹת לְפִי הַסֵּדֵר הָעוֹלָה שֶׁל הַמְּסַפְּרִים.

מפְשֵׁט



6 הַשְּׁלִימוּ עִם שְׁלוֹשָׁה מְסַפְּרִים שׁוֹנִים.

> 14

> 14

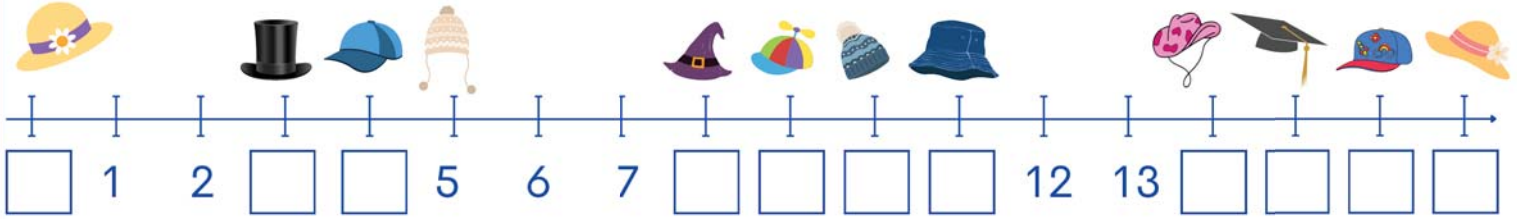
> 14

מפְשֵׁט





7 השלימו את ציר המספרים.



6 חברו לפי נתוני תרגיל 7, לפי הדגמה.

