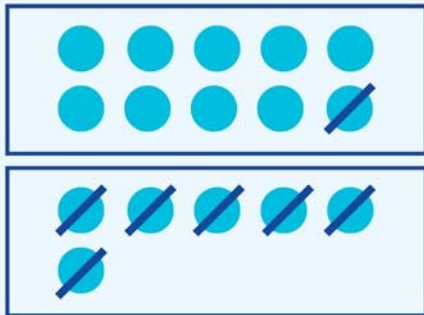


חסור עד 16

לומדים



יצוג:



$$16 - 7 = 9$$



תשובה: נשארו 9 נרות דלוקים.

חן נסתה לכבות את כל 16 הנרות.
היא הצליחה לכבות 7 מהם.
כמה נרות נשארו דלוקים?

הנתונים:

סך הכל: 16 נרות.

נרות שכבו: 7 נרות.

$$16 - 7 = 9$$

בדיקה:

מתרגלים



יצוג:

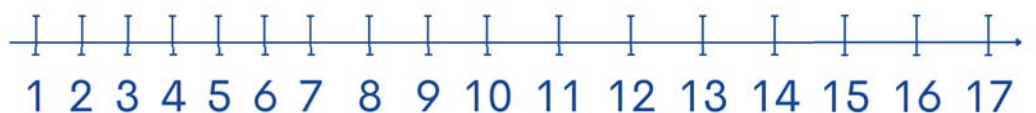
רוני נסה לכבות את כל 16 הנרות.
הוא הצליח לכבות 8 מהם.
כמה נרות נשארו דלוקים?

הנתונים:

סך הכל נרות: _____ נרות שכבו: _____

החשוב:

בדיקה:



התשובה: נשארו _____ נרות דלוקים.

1



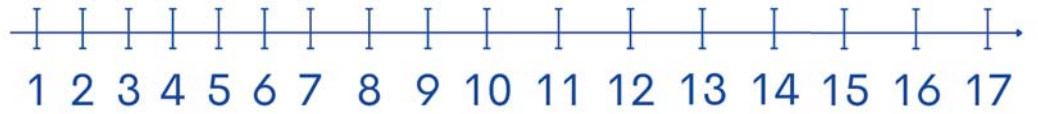


ב יונית נסתה לכבות את כל 15 הנרות.
 היא הצליחה לכבות 9 מהם.
 כמה נרות נשארו דלוקים?
 הנתונים:

סך הכל נרות: _____
 נרות שכבו: _____
 החשוב: _____

יצוג:

בדיקה:



התשובה: נשארו _____ נרות דלוקים.

2 פתרו לפי הדגמה.

יצוגי

ב

- =

א

15 - 6 = 9

ד

+ =

ג

+ =

3 חשבו (אפשר להעזר בציר המספרים).

$16 - 7 = \square$ ט

$15 - 8 = \square$ א

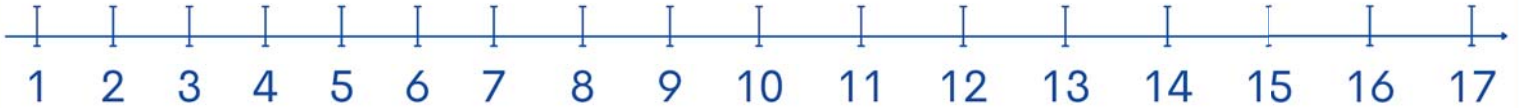
$16 - 9 = \square$ ה

$15 - 5 = \square$ ב

$16 - 5 = \square$ ו

$16 - 8 = \square$ ג

מפשט



$16 - 7 = 9$

$16 - 9 = 7$

$16 - 8 = 8$

זכרים