

# חבור עַד 16

לומדים

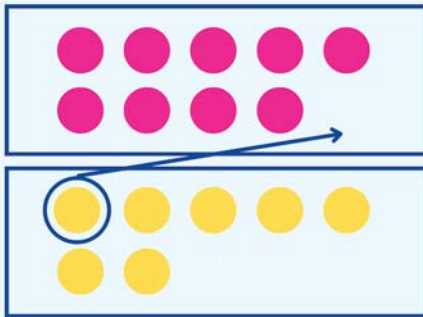


בִּזְרֵן שֶׁל מֵרֵב 9 פְּרָחִים.  
 בִּזְרֵן שֶׁל שָׁרִית 7 פְּרָחִים.  
 כַּמָּה פְּרָחִים יֵשׁ לָהֶן בְּסֶךְ הַכֹּל?  
 הַנְּתוּנִים:

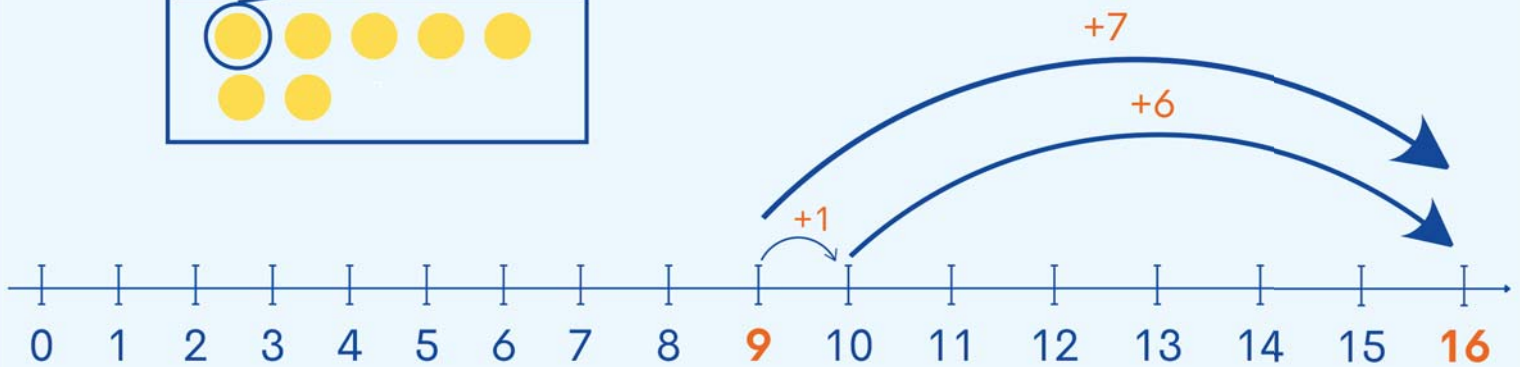
לְמֵרֵב 9 פְּרָחִים.  
 לְשָׁרִית 7 פְּרָחִים.

הַחֲשׂוֹב:  $9 + 7 = 16$

יְצוּג:



תְּשׁוּבָה: בְּסֶךְ הַכֹּל, יֵשׁ לָהֶן 16 פְּרָחִים.



מתרגלים



יְצוּג:

לְנִטֵּעַ זֵר שֶׁל 8 פְּרָחִים.

לְדוֹד זֵר שֶׁל 8 פְּרָחִים.

כַּמָּה פְּרָחִים יֵשׁ לָהֶם בְּסֶךְ הַכֹּל?

הַנְּתוּנִים:

לְנִטֵּעַ \_\_\_\_\_ פְּרָחִים.

לְדוֹד \_\_\_\_\_ פְּרָחִים.

הַחֲשׂוֹב:

הַתְּשׁוּבָה: בְּסֶךְ הַכֹּל, יֵשׁ לָהֶם \_\_\_\_\_ פְּרָחִים.

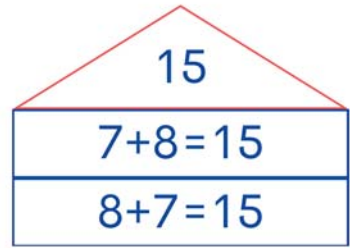
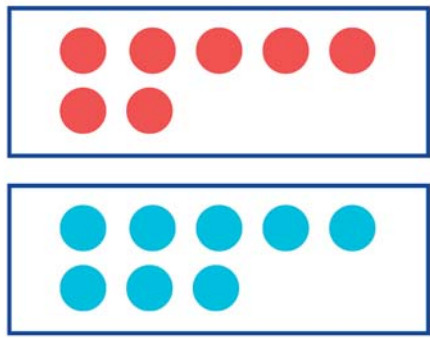
1



השלימו את הבתים, לפי הדגמה.

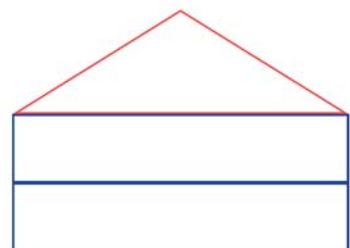
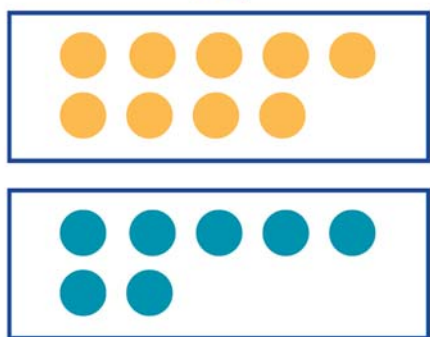


יצוגי:



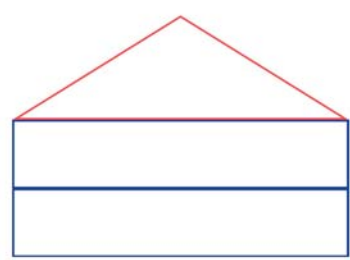
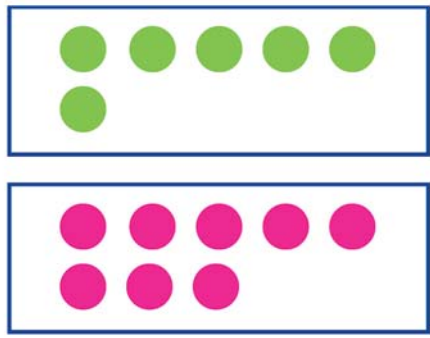
ב

יצוגי:



ג

יצוגי:



3 חשבו את הסכומים.



$5 + 7 = \square$

$6 + 9 = \square$

$7 + 8 = \square$

$6 + 5 = \square$

$7 + 9 = \square$

$6 + 10 = \square$

## 4 גזרו את הקלפים ושחקו "מלחמה".



13

14

15

 $7+9$  $6+9$  $15-8$  $14-6$  $14-5$  $4+10$  $3+8$  $6+6$  $5+9$  $5+8$ 

זוכרים

$$9 + 7 = 16 \quad 7 + 9 = 16$$

$$8 + 8 = 16$$