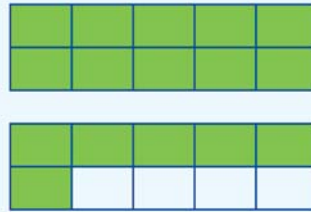


# המספר 16

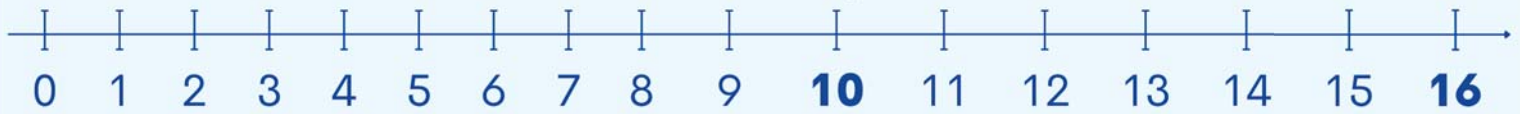
לומדים

עשרות	יחידות
1	6



16  
שש עשרה


+6



$$10 + 6 = 16$$

מתרגלים

1 הקיפו קבוצה של 10 כדורים, אחר כך כתבו כמה כדורים יש בסך הכל, לפי הדגמה.



1



2

מוחשי

13



3



4

2 צבעו את מספר הגלות המתאים לכל מספר.

יצוגי

ב

16

א

15

ד

14

ג

13

3 בכל קבוצה, הקיפו את המספר הגדול יותר.

מפשט

ג

ב

א

ו

ה

ד

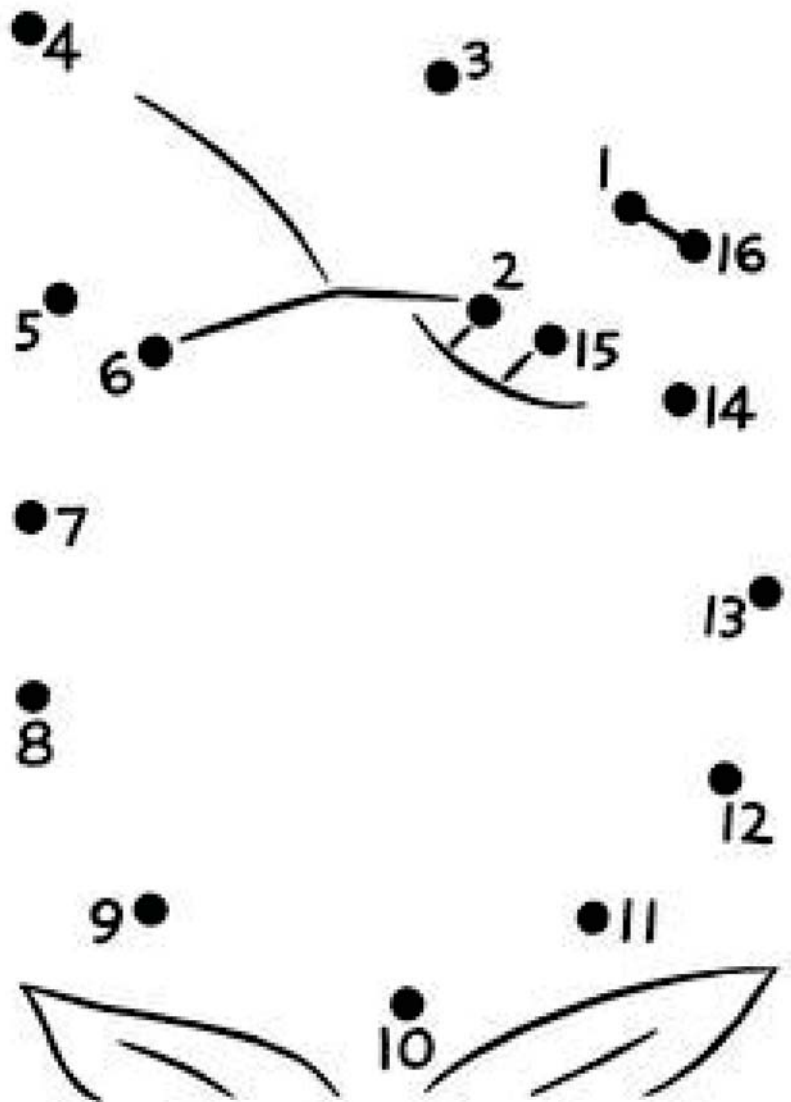
4 העתיקו את המספרים מהקטן לגדול, משמאל לימין.

12 9 14 13 16 15



□ □ □ □ □ □

5 חברו את הנקודות לפי הסדר העולה, מ-1 עד 16.



6 כתבו את הסימן המתאים ( $<$ ,  $=$ ,  $>$ ).

12 ○ 14 <sup>ג</sup>

13 ○ 16 <sup>ב</sup>

16 ○ 9 <sup>א</sup>



14 ○ 14 <sup>ו</sup>

8 ○ 11 <sup>ה</sup>

16 ○ 16 <sup>ד</sup>

6 השלימו עם שלושה מספרים שונים.

16 > □

16 > □

16 > □

