


חסור עד 15

לומדים



היו 15 עלים על הענף.
6 נשרו.

כמה עלים נותרו על הענף?

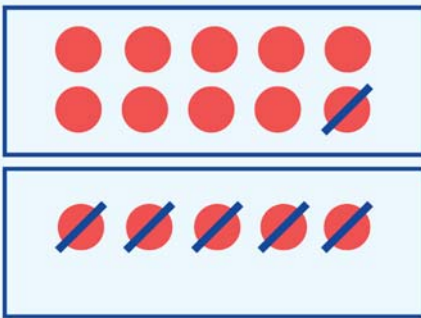
הנתונים:

עלים שהיו על הענף: 15

עלים שנשרו: 6

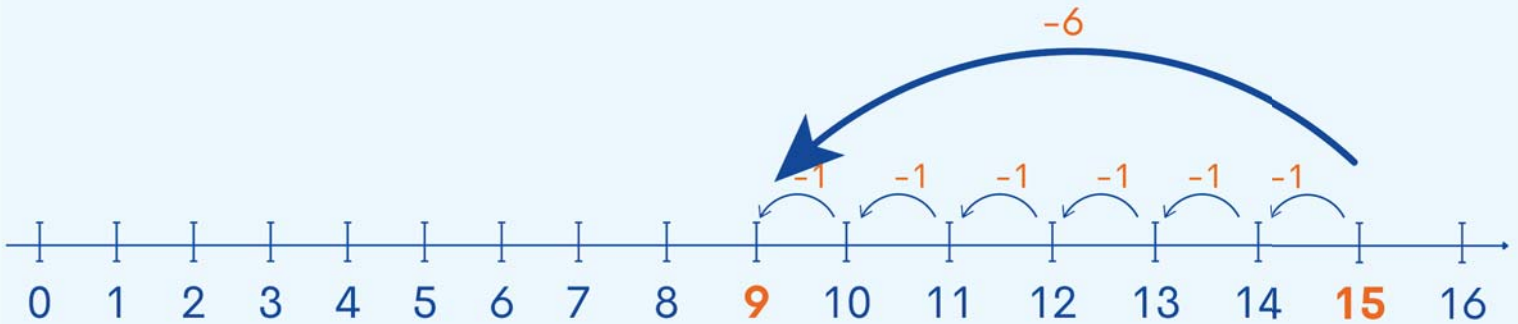
החשוב: $15 - 6 = 9$

יצוג: אפשר לציג כל עלה על ידי עגול:




$$15 - 6 = 9$$

התשובה: נותרו 9 עלים על הענף.



מתרגלים



1 היו 15 עלים על הענף.

8 נשרו.

כמה עלים נותרו על הענף?

הנתונים:

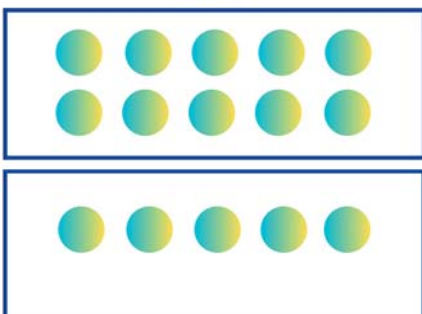
עלים שהיו על הענף: _____


עלים שנשרו: _____

החשוב: _____

התשובה: נותרו _____ עלים על הענף.

יצוג:





יצוג:



ב היו 14 עלים על הענף.

7 נשרו.

כמה עלים נותרו על הענף?


הנתונים:

עלים שהיו על הענף: _____



עלים שנשרו: _____

החשוב:

התשובה: נותרו _____ עלים על הענף.



יצוג:



ג היו 15 עלים על הענף.

6 נשרו.

כמה עלים נותרו על הענף?

הנתונים:

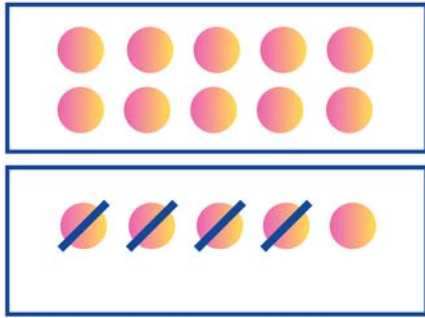
עלים שהיו על הענף: _____

עלים שנשרו: _____

החשוב:

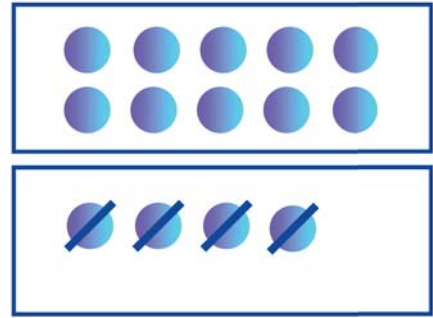
התשובה: נותרו _____ עלים על הענף.

2 פתרו לפי הדגמה.



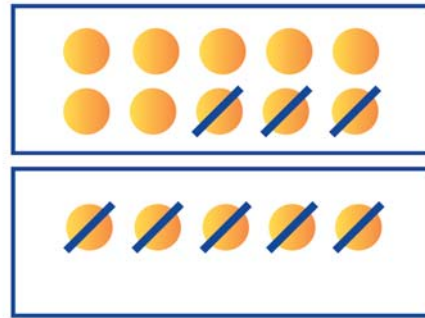
ב

$$\square - \square = \square$$



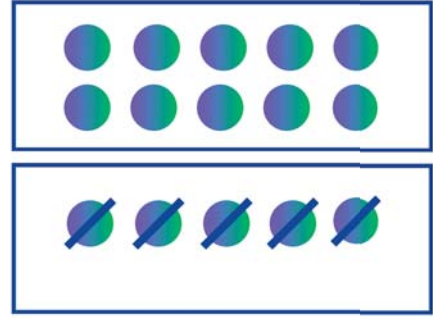
א

$$14 - 4 = 10$$



ד

$$\square + \square = \square$$



ג

$$\square + \square = \square$$

3 חשבו (אפשר להעזר בציר המספרים).

$$14 - 8 = \square \quad \text{ב}$$

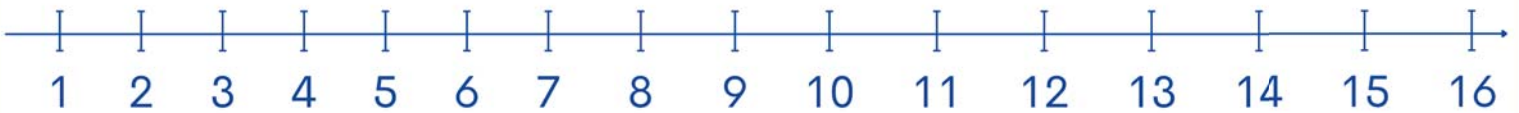
$$15 - 3 = \square \quad \text{א}$$

$$13 - 6 = \square \quad \text{ד}$$

$$15 - 7 = \square \quad \text{ג}$$

$$15 - 8 = \square \quad \text{ו}$$

$$15 - 9 = \square \quad \text{ה}$$



$$15 - 9 = 6$$

$$15 - 6 = 9$$

$$15 - 8 = 7$$

$$15 - 7 = 8$$

זכרים

