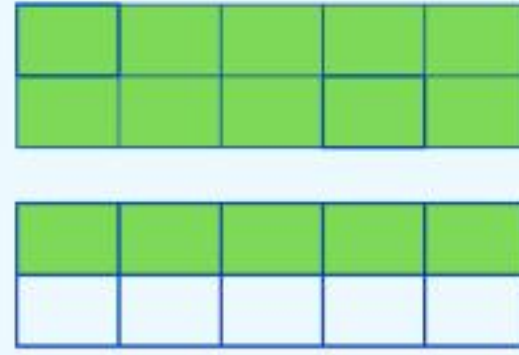


# המספר 15

לומדים

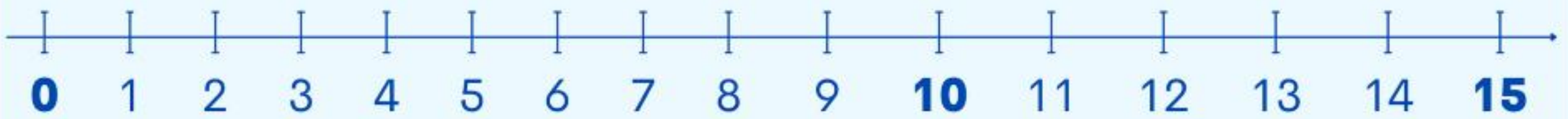
עשרות	יחידות
1	5



15

חמש עשרה

המספר 15 פרושו: עשרת אחת וחמש יחידות



$$10+5=15$$

מתרגלים

1 כתבו את מספר הבבות בכל קבוצה.

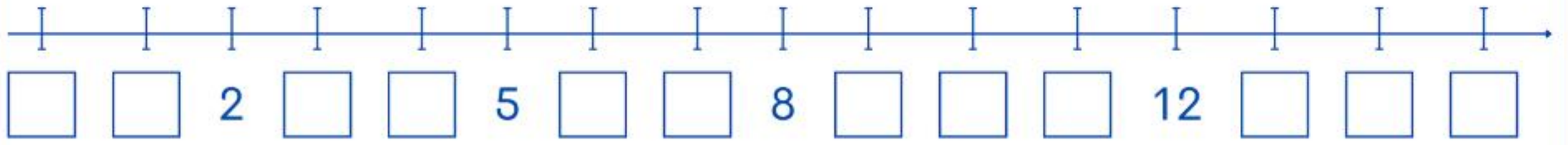




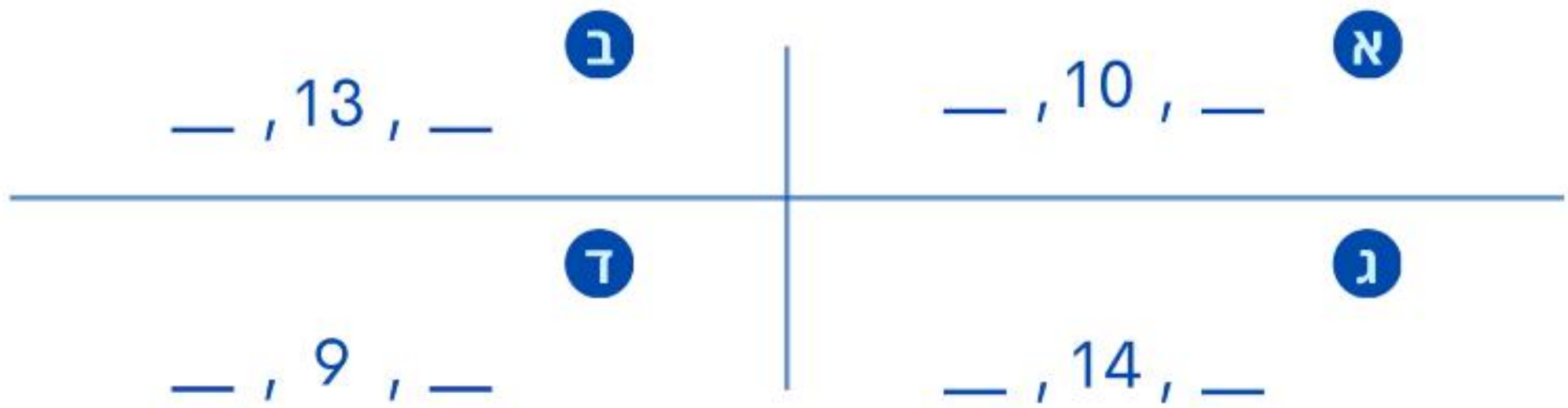




2 השלימו את המספרים החסרים על ציר המספרים.



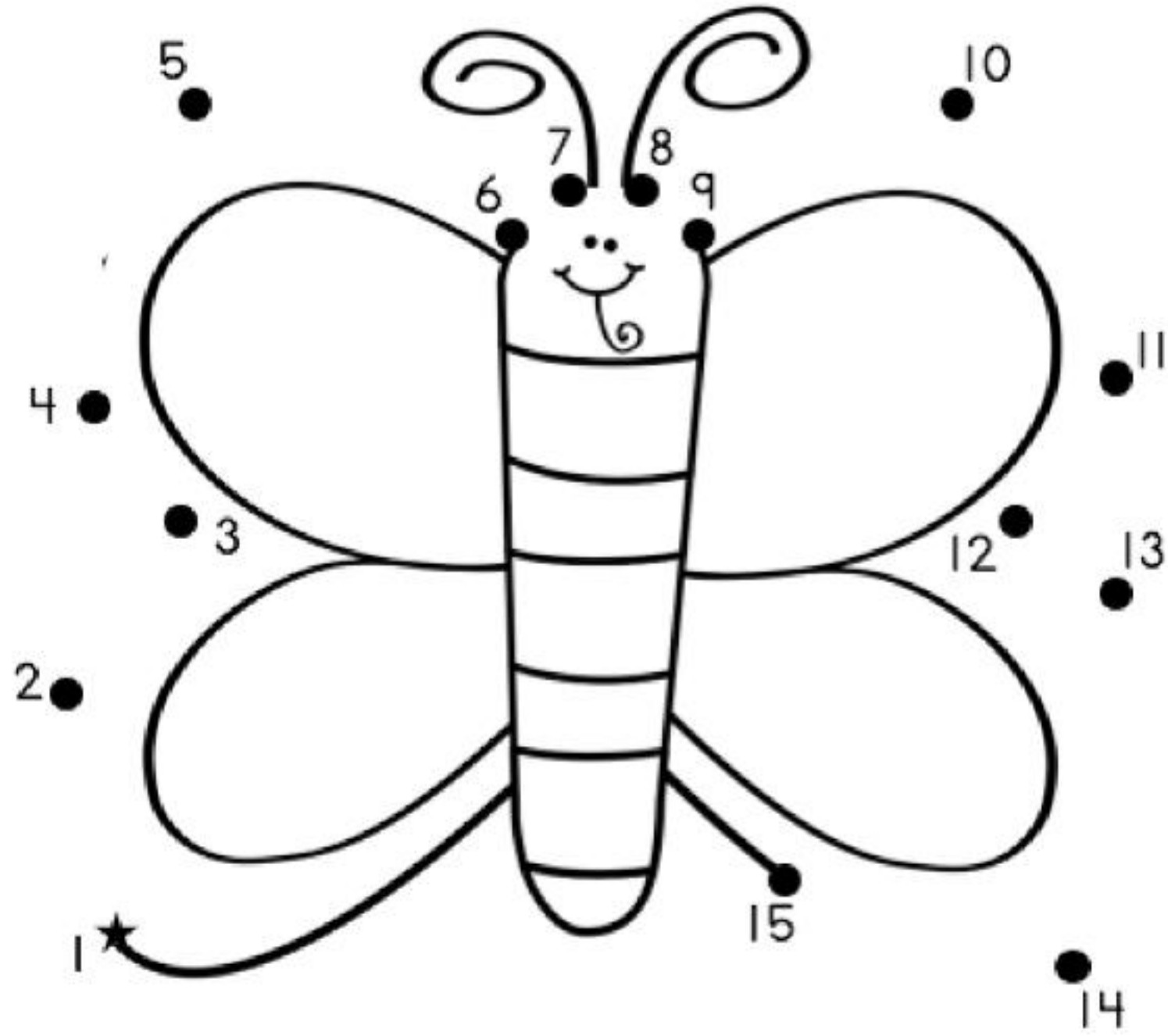
3 כתבו את המספר הקודם ואת המספר העוקב של כל אחד מהמספרים.



4 צבעו את מספר הגלגות המתאים לכל מספר.

<p>א</p> <p>13</p>	<p>ב</p> <p>12</p>	<p>א</p> <p>14</p>
<p>ו</p> <p>15</p>	<p>ה</p> <p>11</p>	<p>ד</p> <p>15</p>

5 חברו את הנקודות, מהמספר הקטן לגדול.



6 השלימו עם הסימן המתאים.

<p>15 ○ 13 <b>א</b></p>	<p>13 ○ 13 <b>ב</b></p>	<p>14 ○ 12 <b>ג</b></p>
<p>15 ○ 15 <b>ד</b></p>	<p>11 ○ 15 <b>ה</b></p>	<p>9 ○ 11 <b>ו</b></p>