


# חסור עד 13

לומדים



עמדו 13 חילי משחק

נפלו 4 חילי משחק

כמה חילים נשארו עומדים?

תשובה: נשארו 9 חילים עומדים.

$$13 - 4 = 9$$

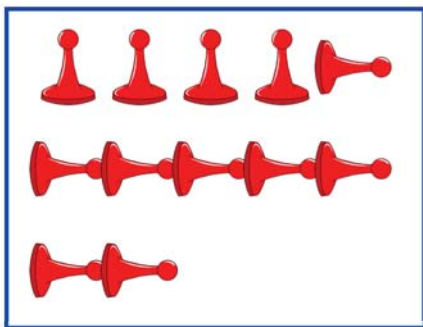
עמדו פחות נפלו נשארו



מתרגלים


חשבו כמה חילים נשארו עומדים.

1




$$\square - \square = \square$$

א

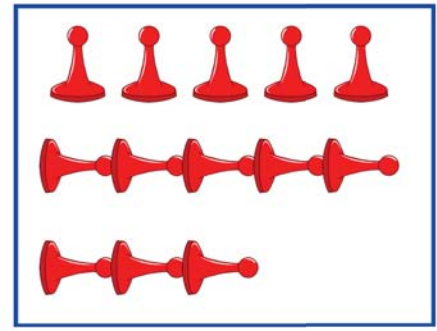


$$\square - \square = \square$$



7

$$\square - \square = \square$$



ג

$$\square - \square = \square$$


2 פתרו לפי הדגמה.



ב



$$\square - \square = \square$$



א



$$13 - 3 = 10$$



ד



$$\square + \square = \square$$

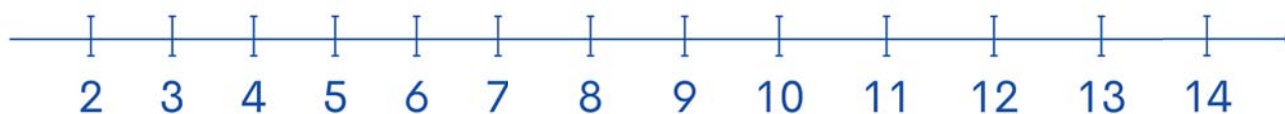


ג



$$\square + \square = \square$$

## 3 חשבו (אפשר להעזר בציר המספרים).



$13 - 4 = \square$

$13 - 6 = \square$

$12 - 2 = \square$

$13 - 3 = \square$

$11 - 7 = \square$

$13 - 7 = \square$

$12 - 6 = \square$

$13 - 10 = \square$

$13 - 9 = \square$