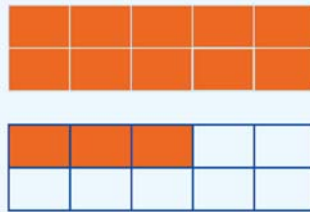


המספר 13

לומדים

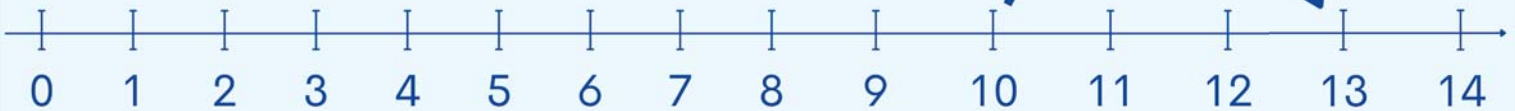
ע	י
1	3



13

שלוש עשרה


+3



$10+3=13$


מתרגלים

1 כתבו את מספר הדגים בכל אקווריום, לפי הדגמה.




ב


10



א

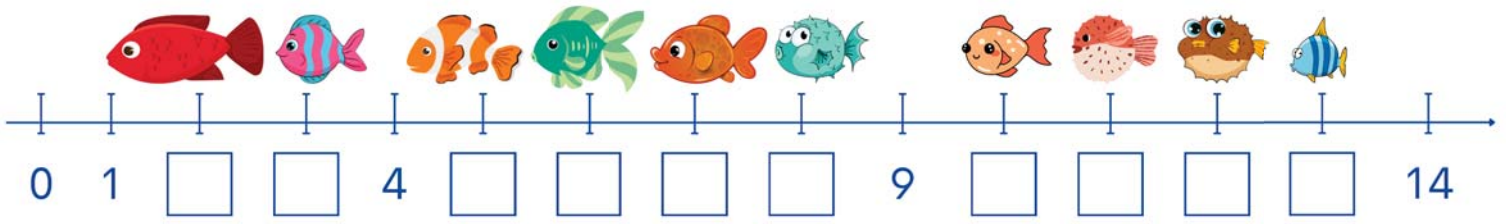


ד



ג

2 השלימו את ציר המספרים.



3 חברו לפי נתוני תרגיל 2, לפי הדגמה.

4 כתבו את המספר הקודם ואת המספר העוקב של כל אחד מהמספרים (נתן להעזר בציר המספרים).

ג

— , 8 , —
— , 1 , —

ב

— , 12 , —
— , 9 , —

א

— , 10 , —
— , 11 , —

5 השלימו עם המספרים והסימן המתאימים, לפי הדגמה.

ב

11 > 8

א

□ ○ □

ד

□ ○ □

ג

□ ○ □