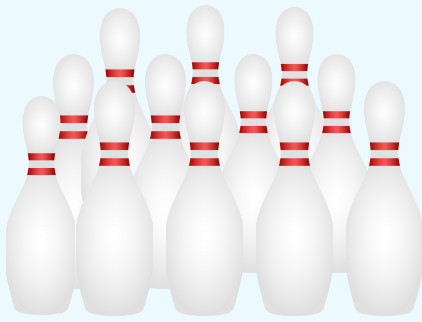
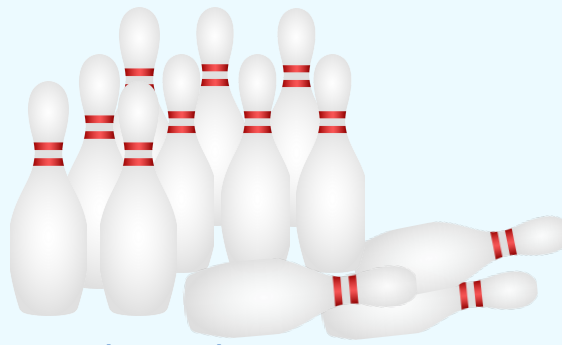


חסור עד 12

לומדים



עמדו 12 חילים



נפלו 3 חילים



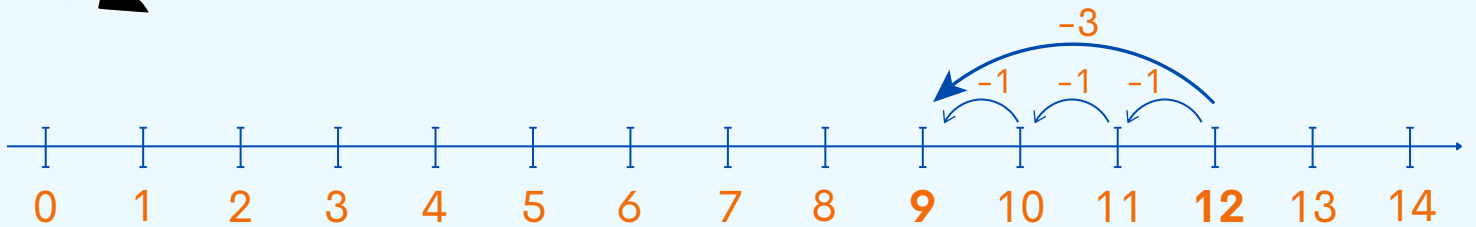
שתיים עשרה פחות שלוש שווה תשע.

כמה חילים נשארו עומדים?

	פחות	שווה	הפרש	
12	-	3	=	9
עמדו		נפלו		נשארו

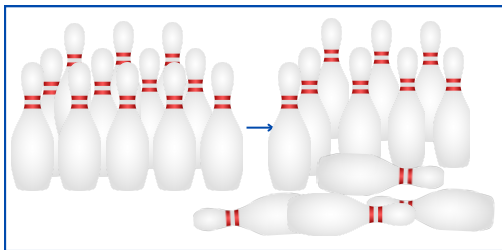
תשובה: נשארו 9 חילים עומדים.

בדיקה בעזרת ציר המספרים:



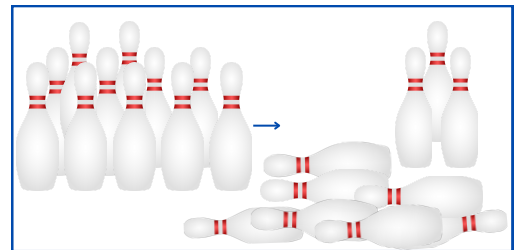
מתרגלים

1 חשבו כמה חילים נשארו עומדים.



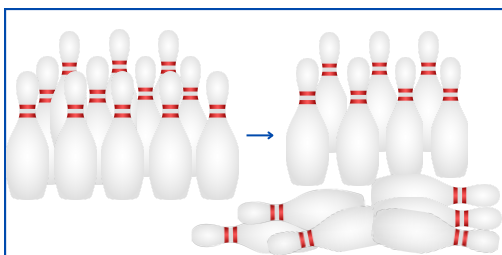
1

$$\square - \square = \square$$



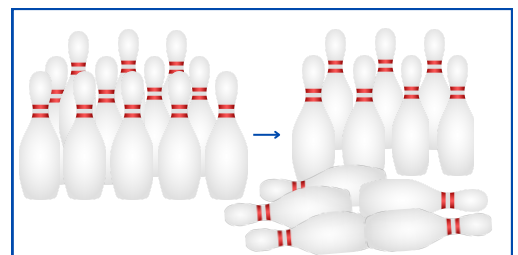
2

$$\square - \square = \square$$



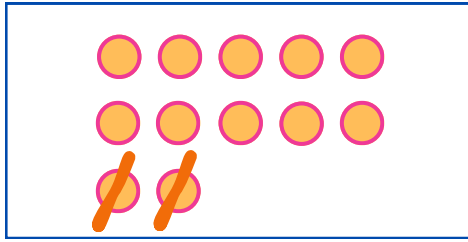
3

$$\square - \square = \square$$

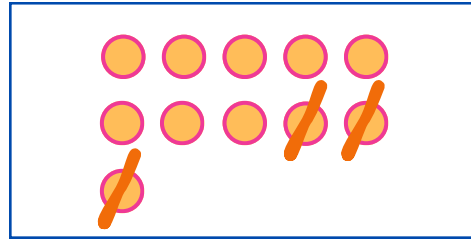


4

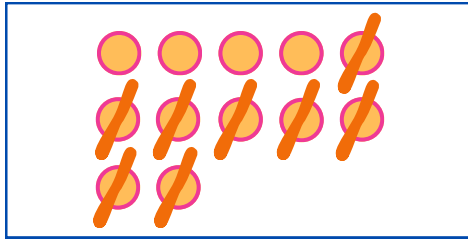
$$\square - \square = \square$$



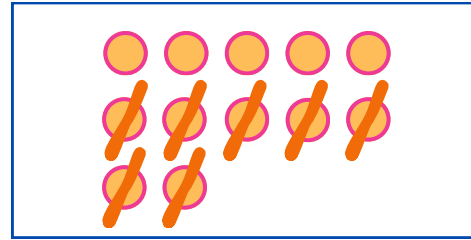
$$\square - \square = \square$$



$$\square - \square = \square$$



$$\square - \square = \square$$



$$\square - \square = \square$$

3 חשבו (אפשר לציר עגולים, כמו בתרגיל הקודם)

$$10 - 7 = \square$$

$$12 - 9 = \square$$

$$11 - 5 = \square$$

$$12 - 4 = \square$$

4 כתבו 3 תרגילי חסור שונים, שהתוצאה שלהם היא 9.

$$\square - \square = 9 \quad | \quad \square - \square = 9 \quad | \quad \square - \square = 9$$

5 חשבו.

$$11 - 3 = \square$$

$$12 - 10 = \square$$

$$10 - 5 = \square$$

$$12 - 3 = \square$$

$$12 - 7 = \square$$

$$12 - 5 = \square$$

זוכרים

$$12 - 3 = 9$$

$$12 - 9 = 3$$

$$12 - 4 = 8$$

$$12 - 8 = 4$$

$$12 - 5 = 7$$

$$12 - 7 = 5$$

$$12 - 6 = 6$$