

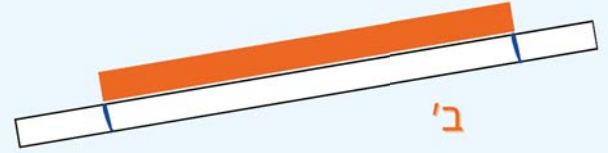
מדידת ארך בעזרת מתוך

לומדים

איזה מקל ארך יותר: א' או ב'?



מניחים את רצועת הנר עם הסמון ליד מקל א', כך שסמון הקצה הראשון יהיה בדיוק בקצה מקל א'.




על רצועת נר, נסמן את הקצוות של המקל ב'.


רואים שהקצה השני של ארך המקל ב' עובר את הקצה של מקל א'.

מתרגלים

1 השתמשו ברצועות נר כדי לקבע איזה מקל ארך יותר. השלימו את המשפטים.



מקל ___ ארך יותר.



מקל ___ ארך יותר.



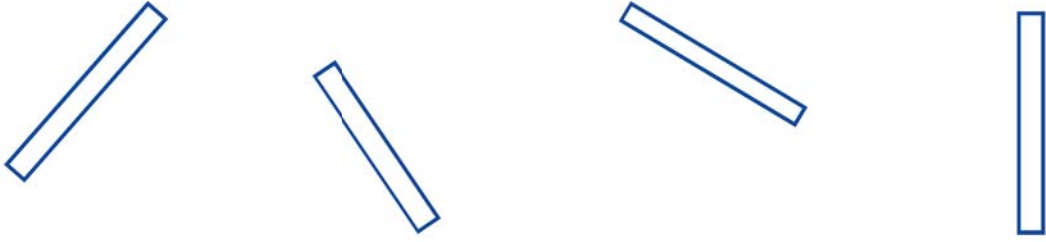
מקל ___ ארך יותר.



מקל ___ ארך יותר.



2 צבעו את המקל הקצר ביותר.



3 בכל משבצת, ציירו מקל ארוך יותר מהמקל השחר.

