


# השוואה ישירה של ארכים

לומדים

איזה עפרון ארוך יותר?

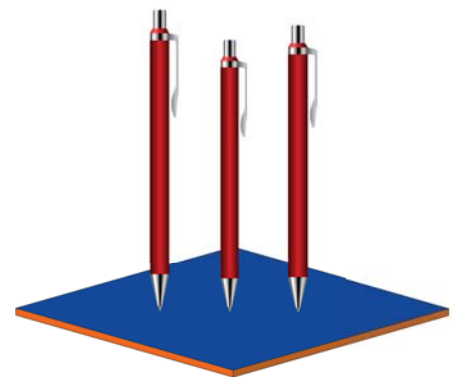
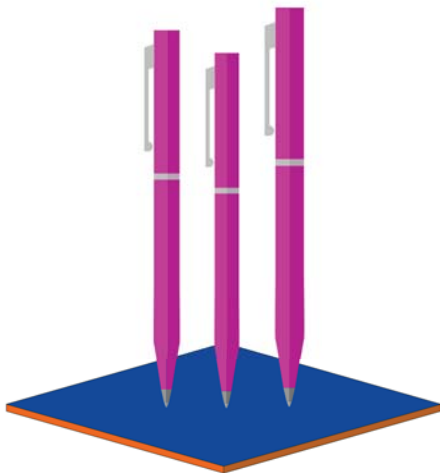
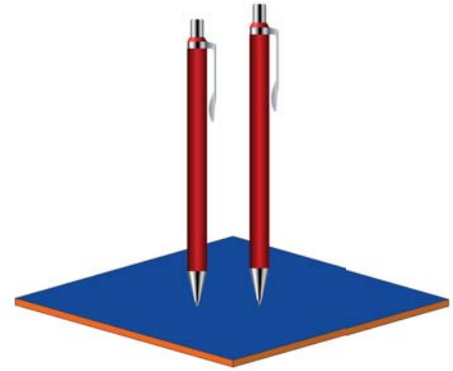
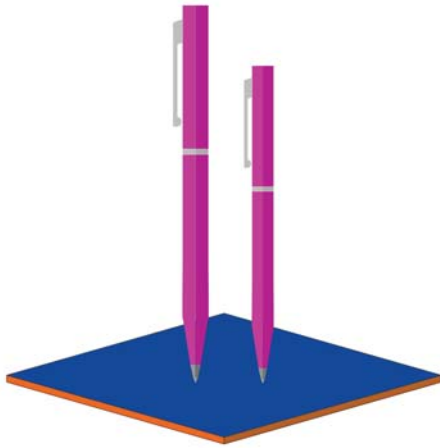
נניח את שניהם על אותו בסיס, אחד ליד השני.

הארוך יותר




מתרגלים

1 בכל קבוצה, צבעו את העט הארוך יותר.



## 2 ליד כל עפרון, צירו עפרון ארך יותר.



3 בכל קבוצה, צבעו בכחול את הפס הארך ביותר, ובירוק את הפס הקצר ביותר (אפשר לגזור עם מספרים את הפסים, כדי להשוות ביניהם).

