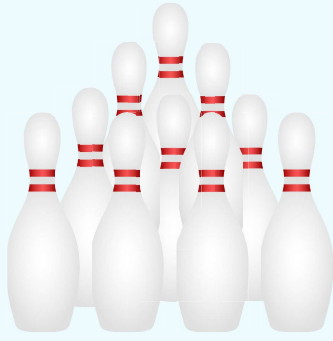



חסור עד 10

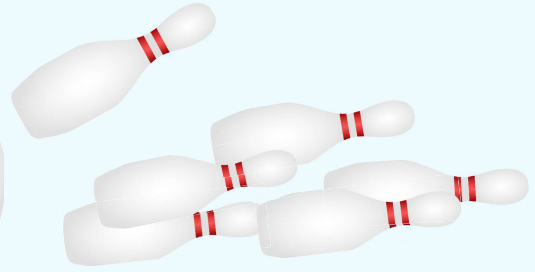
לומדים



היו 10 חילים



נפלו 6 חילים



כמה חילים נשארו עומדים?

עשר פחות שש שווה ארבע

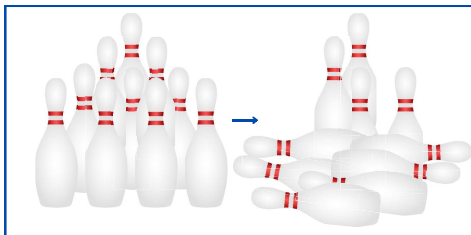
$$\begin{array}{r}
 \text{הפרש} \\
 10 - 6 = 4 \\
 \text{עמדו} \quad \text{נפלו} \quad \text{נשארו}
 \end{array}$$

תשובה: נשארו 4 חילים עומדים.



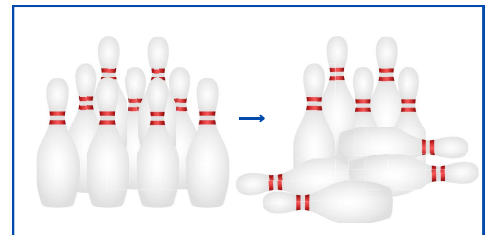
מתרגלים

1 חשבו כמה חילים נשארו עומדים.

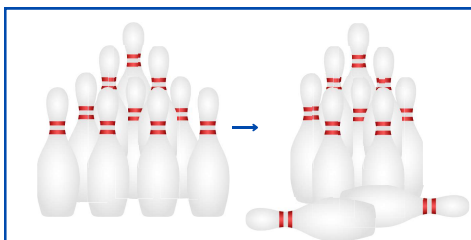


$$\square - \square = \square$$

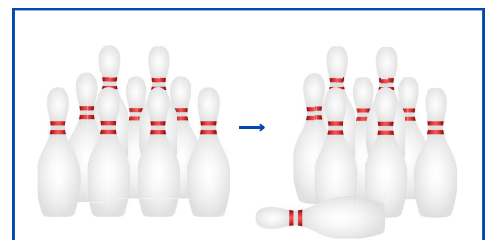
נשארו נפלו עמדו



$$\square - \square = \square$$




$$\square - \square = \square$$




$$\square - \square = \square$$

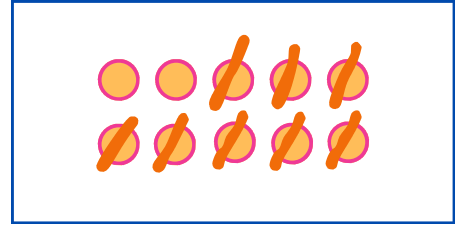
2 פתרו לפי הדגמה.




$9 - 3 = 6$




$\square - \square = \square$




$\square - \square = \square$



$\square - \square = \square$



$\square - \square = \square$



$\square - \square = \square$

3 חשבו (אפשר לציר עגולים, כמו בתרגיל הקודם)

$10 - 4 = 6$



$9 - 4 = \square$



$10 - 9 = \square$



$8 - 6 = \square$



$10 - 10 = \square$



$10 - 4 = \square$



4 חשבו:

$10 - 5 = \square$

$9 - 4 = \square$

$10 - 3 = \square$

$8 - 6 = \square$

$9 - 4 = \square$

$10 - 10 = \square$

5 צירו את הגלות שמאחורי הוילון, והשלמו את החבור לפי הדגמה

7

$4 + ? = 7$

7

$4 + 3 = 7$

10

$5 + ? = 10$

10

$5 + \square = 10$

9

$2 + ? = 9$

9

$2 + \square = 9$

10

$3 + ? = 10$

10

$3 + \square = 10$