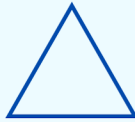
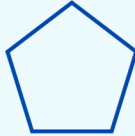
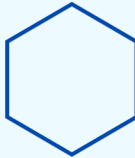


גאומטריה, הכרת המצלעים

לומדים

שמות המצלעים לפי מספר הצלעות והקדקודים שלהם

מספר הקדקודים	מספר הצלעות	הצורה
3	3	 משולש
4	4	 מרובע
5	5	 מרבץ
6	6	 משש

מתרגלים

1 צבעו את המצלעים לפי הוראות הטבלה




הצורה	הצבע
משולש	ירוק
מרובע	כחול
מרבץ	חום
משש	ורד

בְּעֶזְרַת עֶפְרוֹן וְסַרְגֵּל, סֶרְטָטוּ מְצַלְעִים שׁוֹנִים לְפִי הוֹרְאוֹת הַטְּבֵּלָה

המספר	הצורה
1	משולש
3	מרבע
2	מרבע
2	משושה

מתרגלים

השלימו את הטבלה לפי מספר המצלעים המופיעים בצויר



המספר	הצורה