

# עבוד נתונים טבלאות דו-ממדיות

לומדים

הצבע הרכב	צהוב	כחול
		
		

שורת המכוניות ←

שורת המשאיות ←



המשאית הכחולה  
נמצאת  
בהצטלבות שורת  
המשאיות ועמודת  
הרכבים הכחולים

↑ עמודת  
הרכבים  
הצהובים

↑ עמודת  
הרכבים  
הכחולים





מתרגלים



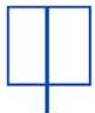



1 צבעו צורה בכל משבצת לפי הוראות הטבלה

הצבע הצורה	אדום	שחור
		
		

הצבע הצורה	ירוק	כחול
		
		



2 השלימו את הטבלה לפי מה שמציר במשבצת

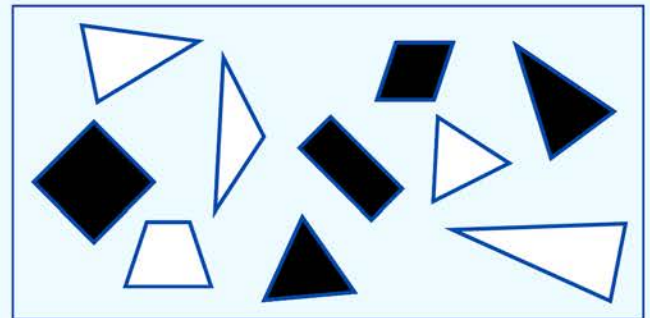
מספר הנקודות הצורה		
		
		

המִפְרָשׁ			
הגוף			
			
			
			

לומדים

אֶפְשָׁר לְהִשְׁתַּמֵּשׁ בְּטִבְלָה דוּ-מִמְדִית כְּדֵי לִסְכֵּם נְתוּנִים

הצבע	לבן	שחור
הצורה		
	4	2
	1	3



יש 3 מרובעים שחורים

כותבים 3 בהצטלבות של שורת המרובעים ועמודת הצבע השחור

מתרגלים

4 רשמו בטבלה את המספר המתאים לכל משבצת לפי נתוני הציור

הצבע	לבן	אפור	שחור
האניה			
