

המספרים עד 10

לומדים


0 אפס	1 אחת	2 שניים	3 שלוש	4 ארבע	5 חמש
	6 שש	7 שבע	7 שבע	9 תשע	10 עשר
		10			


מתרגלים





1 כתבו


2 כתבו את מספר הפדורים בכל קבוצה











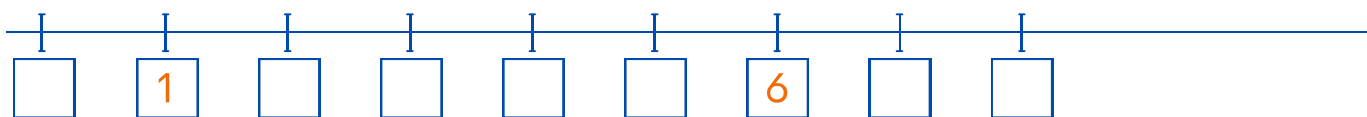


3 השלימו עם מספר מתאים (לפעמים יש יותר מתשובה אפשרית

(אחת)

$$\begin{array}{|c|c|c|c|}
 \hline
 5 < _ & 8 = _ & 9 > _ & _ > 3 \\
 \hline
 _ > 7 & _ < 9 & 6 = _ & _ = 9 \\
 \hline
 \end{array}$$

4 השלימו את המספרים החסרים על ציר המספרים



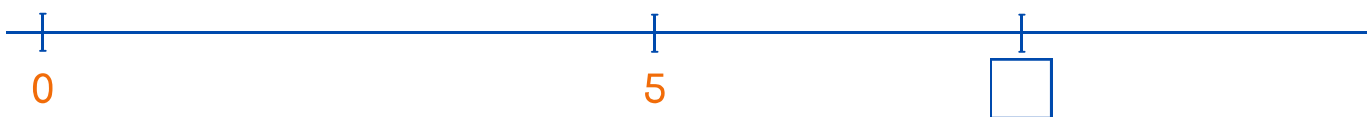
אלוף

5 סמנו בערך את מקום המספר 7 על ציר המספרים



אלוף

6 כתבו מספר מתאים למקום המסמן על ציר המספרים



7 כתבו את המספר הקודם ואת המספר העוקב של כל אחד

מהמספרים הנתונים

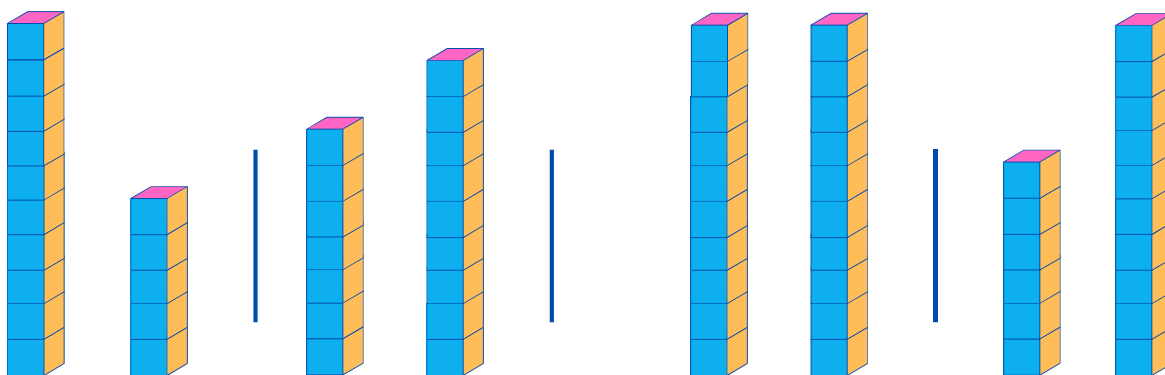
$$\begin{array}{|c|c|c|}
 \hline
 \underline{6}, 7, \underline{8} & _, 9, _ & _, 8, _ \\
 \hline
 _, 1, _ & _, 3, _ & _, 4, _ \\
 \hline
 _, 5, _ & _, 6, _ & _, 2, _ \\
 \hline
 \end{array}$$

8 השלימו את הטבלה על פי נתוני הציור

המספר	כלי התחבורה
	
	
	
	



9 השלימו את המספרים ואת הסימן המתאימים



10 > 5



○

○

○

10 השלימו עם הסימן המתאים

10 ○ 10

6 ○ 10

10 ○ 4

9 ○ 6

10 ○ 8

9 ○ 5

7 ○ 10

8 ○ 8