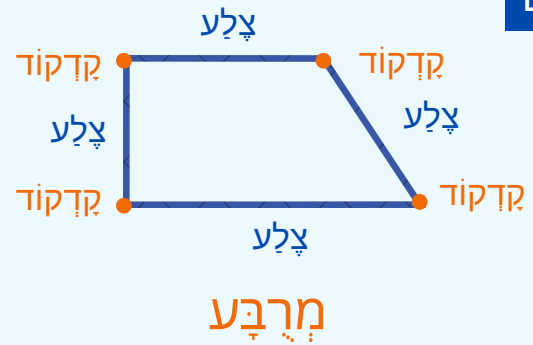
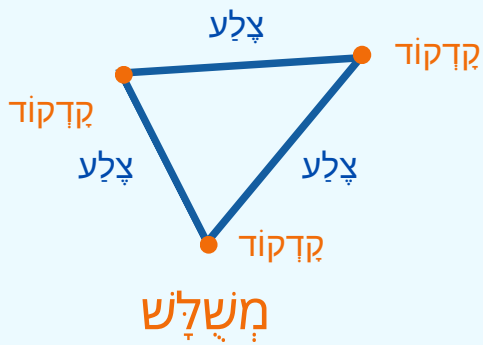


הַפְּרַת הַמְּצַלְעִים

לומדים






מְצַלְע בֵּעַל 3 צְלָעוֹת נִקְרָא מְשֻׁלָּשׁ

מְצַלְע בֵּעַל 4 צְלָעוֹת נִקְרָא מְרֻבֵּעַ

מתרגלים

1 מְנוּ אֶת מְסַפֵּר הַמְּשֻׁלָּשִׁים וּמְסַפֵּר הַמְּרֻבָּעִים שֶׁבְּצִיּוֹר, וְהַשְּׁלִימוּ אֶת הַטְּבֵלָה

הצורה	המספר
משולש 	
מרובע 	



2 צִיְרוּ מְשֻׁלָּשׁ וּמְרֻבֵּעַ (הַעֲזֵרוּ בְּסֵרֶגֶל)

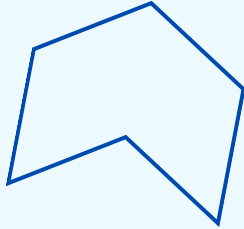
3 צִיְרוּ מְשֻׁלָּשׁ בְּתוֹךְ מְרֻבֵּעַ



4 השלימו את המשפטים

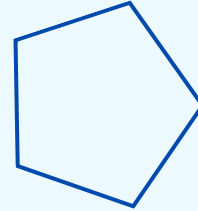
למשלש יש _____ צלעות ו _____ קדקודים
 למרבע יש _____ צלעות ו _____ קדקודים

לומדים



מששה

6 קדקודים
6 צלעות

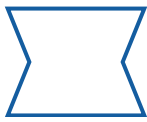


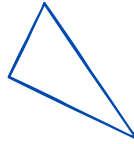
מחמש

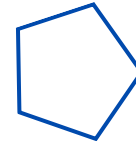
5 קדקודים
5 צלעות

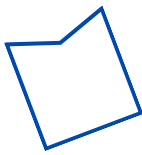
מתרגלים

5 כתבו את השם של כל מצלע





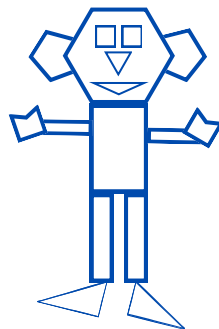








5 מנו את מספר המצלעים השונים בציור והשלימו את הטבלה



המספר	הצורה