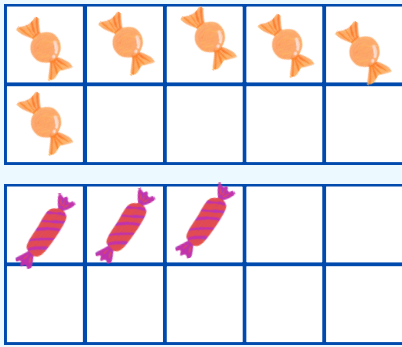


# החבור, סכום עד 9

לומדים




כמה ספריות יש בסך הכל?

נתונים: 6  
3

החשוב:  $6 + 3 = 9$

תשובה: בסך הכל, יש 9 ספריות

מתרגלים




1 כמה ספריות על מקל יש בסך הכל?

נתונים:

החשוב:  +  =

תשובה: בסך הכל, יש  ספריות על מקל




2 כמה מכוניות יש בסך הכל?

נתונים:

החשוב:  +  =

תשובה: בסך הכל, יש  ספריות על מקל



3 כמה מכוניות יש בסך הכל?

נתונים:

החשוב:  +  =

תשובה: בסך הכל, יש  ספריות על מקל

2 השלימו את בית החבור של המספר 9

	$0 + 9$	$9 + 0$
	$1 + \square$	$8 + \square$
	$2 + \square$	$7 + \square$
	$3 + \square$	$6 + \square$
	$4 + \square$	$5 + \square$

3 השלימו

$3 + 6 = \square$	$5 + 3 = \square$	$5 + 4 = \square$
$1 + 8 = \square$	$2 + 6 = \square$	$2 + 7 = \square$
$9 + 0 = \square$	$4 + 5 = \square$	$7 + 1 = \square$

4 חשבו בשתי צורות שונות כמה בלונים בסך הכל הביאו הילדים

$\square + \square + \square = \square$				
$\square + \square + \square = \square$ או				

אנחנו זוכרים

$0+9=9$	$1+8=9$	$2+7=9$	$3+6=9$	$4+5=9$
$9+0=9$	$8+1=9$	$7+2=9$	$6+3=9$	$5+4=9$