
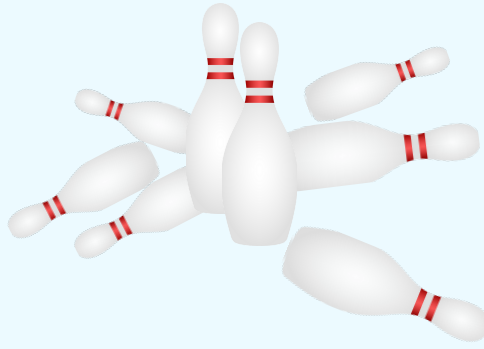


החסור, הפירוש עד 8

לומדים



עמדו 8 חילים



נפלו 6

כמה חילים נשארו עומדים?



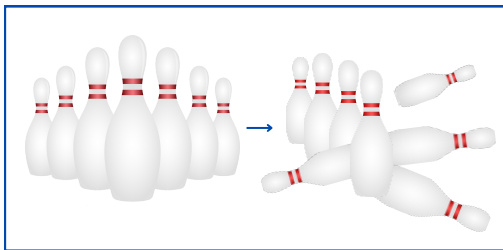
שמונה פחות שש שווה שתיים

	פחות	שנה	=	הפרש
8	-	6	=	2
היו		נפלו		נשארו

תשובה: נשארו 2 חילים עומדים.

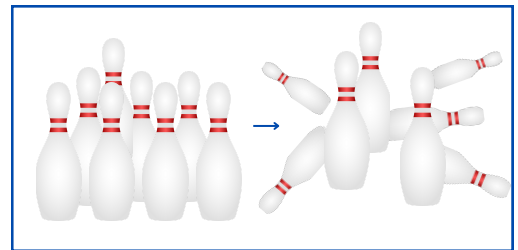
מתרגלים

1 חשבו כמה חילים נשארו עומדים

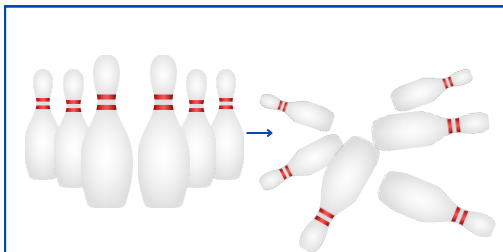


$$\square - \square = \square$$

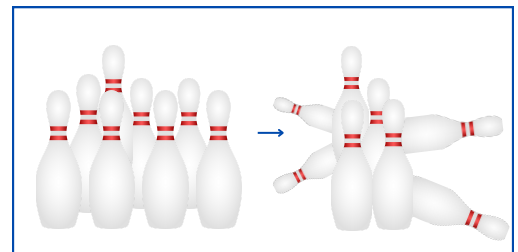
עמדו נפלו נשארו



$$\square - \square = \square$$



$$\square - \square = \square$$



$$\square - \square = \square$$

2 פתרו לפי הדגמה

$8 - 2 = 6$

$\square - \square = \square$

$\square - \square = \square$

$\square - \square = \square$

$\square - \square = \square$

$\square - \square = \square$

3 חשבו (אפשר לציר עגולים כמו בתרגיל הקודם)

$8 - 2 = 6$

$7 - 4 = \square$

$8 - 5 = \square$

$8 - 4 = \square$

$7 - 2 = \square$

$8 - 6 = \square$

4 כתבו שלושה תרגילי חסור שונים, שהתוצאה שלהם (ההפרש) היא 5

$\square - \square = 5$

$\square - \square = 5$

$\square - \square = 5$

אנחנו זוכרים

$8 - 0 = 8$

$8 - 8 = 0$

$0 + 8 = 8$

$8 + 0 = 8$

$8 - 1 = 7$

$8 - 7 = 1$

$1 + 7 = 8$

$7 + 1 = 8$

$8 - 2 = 6$

$8 - 6 = 2$

$2 + 6 = 8$

$6 + 2 = 8$

$8 - 5 = 3$

$8 - 3 = 5$

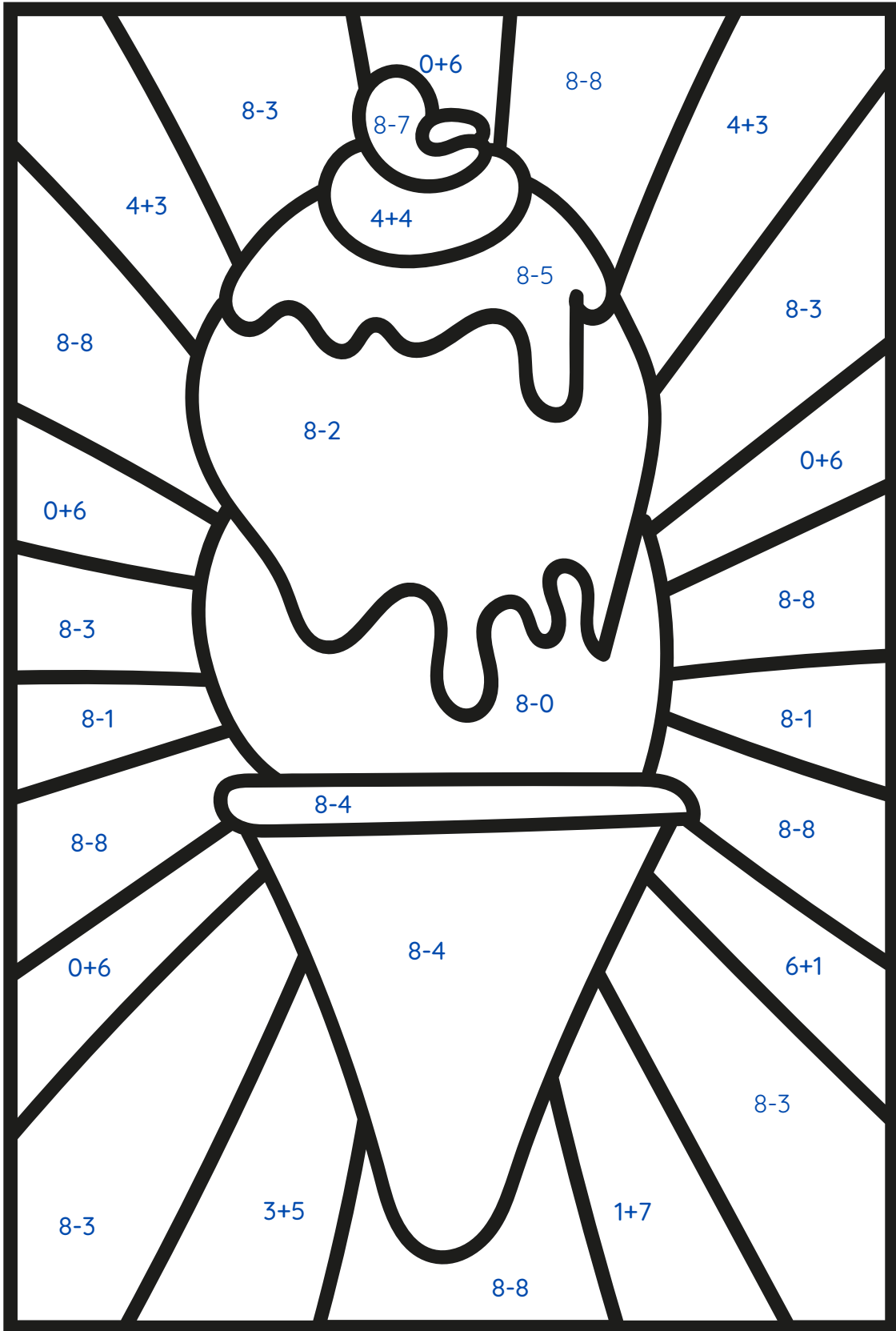
$3 + 5 = 8$

$5 + 3 = 8$

$8 - 4 = 4$

$4 + 4 = 8$

5 צבעו לפי הצבע המתאים לתוצאה של כל תרגיל (שימו לב לסימן)



- | | | | | | |
|---|--|------|---|--|-------|
| 0 | | כחול | 5 | | תורפז |
| 1 | | סגל | 6 | | אדום |
| 2 | | חום | 7 | | כתום |
| 3 | | ירוק | 8 | | ורד |
| 4 | | צהב | | | |

