









# החבור, סכום עד 8

## לומדים

כמה מכוניות יש בסך הכל?








נתונים:  5

 3

החשוב:  $5 + 3 = 8$

תשובה: בסך הכל, יש 8 מכוניות

## מתרגלים








				
				

1 כמה מכוניות יש בסך הכל?

נתונים:   

החשוב:  $\square + \square = \square$

תשובה: בסך הכל, יש  מכוניות









				
				

2 כמה מכוניות יש בסך הכל?

נתונים:   

החשוב:  $\square + \square = \square$

תשובה: בסך הכל, יש  מכוניות

3 כמה מכוניות יש בסך הכל?

נתונים:   

החשוב:  $\square + \square = \square$

תשובה: בסך הכל, יש  מכוניות

4 השלימו את בית החבור של המספר 8

	$0 + 8$ $8 + 0$	
	$1 + \square$ $7 + \square$	
	$2 + \square$ $6 + \square$	
	$3 + \square$ $5 + \square$	
	$4 + \square$ $4 + \square$	

5 השלימו

$1 + 6 = \square$	$4 + 4 = \square$	$5 + 3 = \square$
$2 + 6 = \square$	$1 + 5 = \square$	$2 + 5 = \square$
$3 + 3 = \square$	$0 + 8 = \square$	$1 + 7 = \square$

6 חברו את החבורים שהסכום שלהם שווה, והשלימו לפי הדגמה

$2 + 2$	$4 + 4 = \square$
$6 + 2$	$0 + 7 = \square$
$1 + 5$	$3 + 5 = \square$
$3 + 4$	$1 + 3 = 4$

*(An orange arrow points from the first box to the last box, and a hand is shown writing the number 4 in the last box.)*