

בחן מס' 4 – דפי העבודה 61 עד 80

1 הקיפו את שמות המצלעים המופיעים בציור.



- משולש
- רבוע
- מלבן
- מחמש
- משש

דף עבודה 61: גאומטריה, זהוי צורות גאומטריות בסביבה.

2 בכל קבוצה, הקיפו את המספר היור קטן.

13 16 **ג**
8 14 **ב**
14 12 **א**

דף עבודה 62: הפרת המספרים עד 20 – המספר 16.

3 חשבו את הסכומים.

$9+7=$ **ג**
 $6+9=$ **ב**
 $8+8=$ **א**

דף עבודה 63: פעולות חשבון במספרים הטבעיים, חבור, סכום עד 16.

4 כתבו את החסור המתאים לציור.

ב

- =

א

- =

דף עבודה 64: פעולות חשבון במספרים הטבעיים, חסור, הפרש עד 16.

5 חֲבְרוּ כָּל מְסָפֵר לַתְּאוּר הַמִּתְאִים.

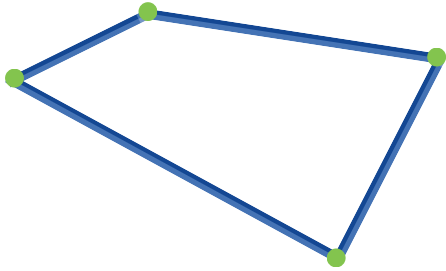


- 12
- 15
- 16
- 11



דף עבודה 65: הכרת המספרים עד 20 – זוגי ואי-זוגי עד 16.

6 חֲשְׁבוּ אֶת הַקֵּף הַמְצֻלֵעַ וְהַשְׁלִימוּ.



הַחֲשׁוּב: _____
הַתְּשׁוּבָה: הַקֵּף הַמְצֻלֵעַ הוּא _____ ס"מ.

דף עבודה 66: מדידות – הקף מצלעים.

7 הַעֲתִיקוּ אֶת הַמְסָפְרִים, מֵהַקְטָן מֵהַקְטָן לְגָדוֹל וּמִשְׂמָאל לְיָמִין.

15, 8, 17, 3, 16, 12

_____ / _____ / _____ / _____ / _____ / _____



דף עבודה 67: הכרת המספרים עד 20, המספר 17.

8 כָּתְבוּ אֶת הַסִּימָן הַמִּתְאִים. (<, =, >).

5+5 _____ 10+2 **ג** | 17 _____ 10+4 **ב** | 7+3 _____ 15 **א**



דף עבודה 68: פעולות חשבון במספרים הטבעיים, חבור, סכום עד 17.

9 פְּתוּרוּ

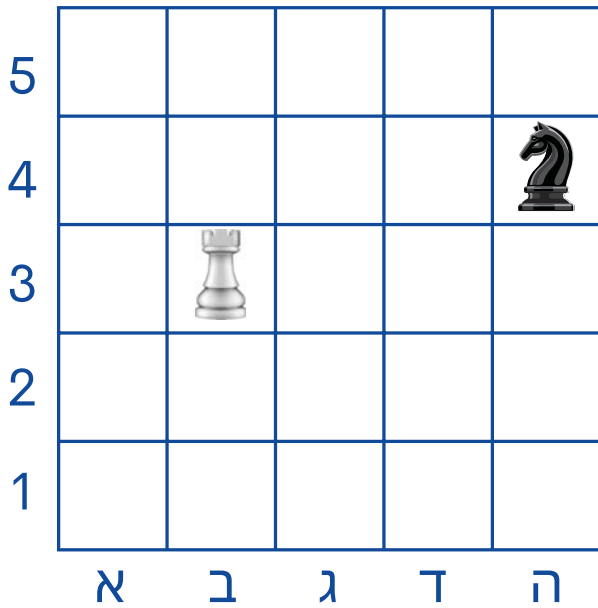
15-6= _____ **ג** | 17-9= _____ **ב** | 16-10= _____ **א**



דף עבודה 69: פעולות חשבון במספרים הטבעיים, חסור עד 17.



10 כתבו באיזו משבצת נמצא הצריח (♖), והסוס (♘).

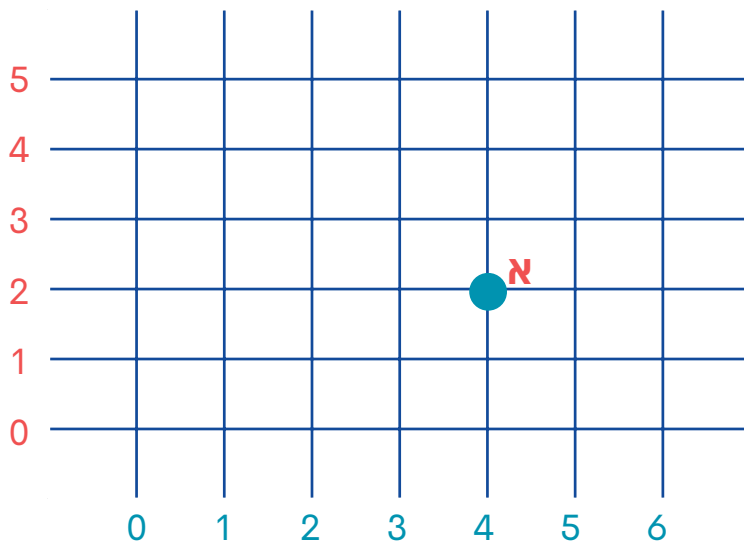


הצריח (_____ , _____)
מספר אות

הסוס (_____ , _____)
מספר אות

דף עבודה 70: עבוד נתונים - רשתות, משבצות.

11 ציירו את העגולים ברשת, לפי הדגמה.



א (4 , 2)

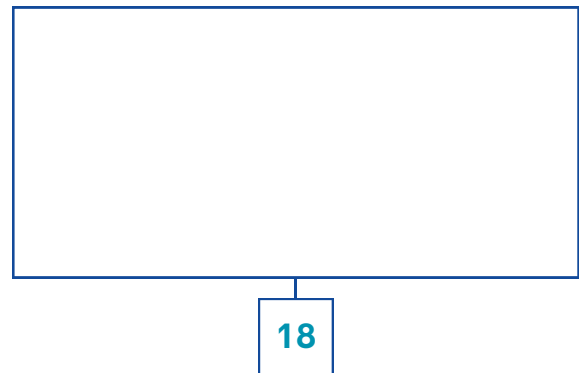
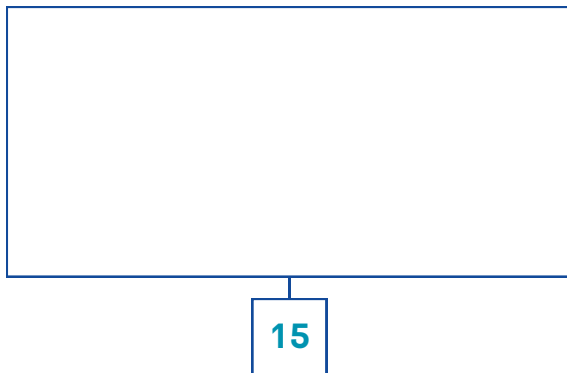
ב (5 , 3)

ג (6 , 0)



דף עבודה 71: עבוד נתונים - משבצות - צמתים.

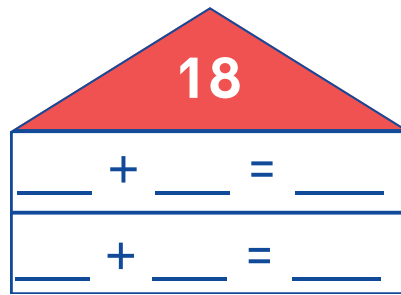
12 ציירו עגולים, לפי המספר.



דף עבודה 72: הכרת המספרים עד 20, המספר 18.



13 השלימו את הבית עם שני חבורים שונים, כשהסכום שווה למספר שבג הבית.



דף עבודה 73: פעולות חיבור במספרים הטבעיים, חבור עד 18.

14 חשבו.

18-4= ___ ב


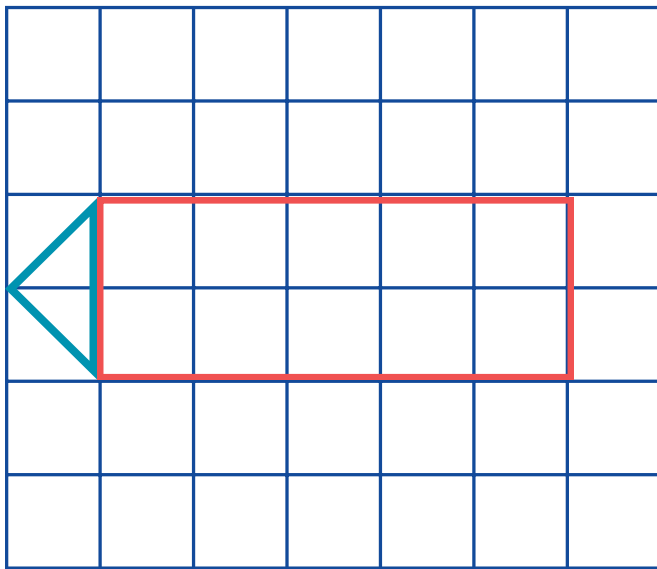
18-9= ___ ב

15-5= ___ א



דף עבודה 74: פעולות חיבור במספרים הטבעיים, חסור עד 18.

15 העתיקו ברשת הימנית את הצורה המצוירת ברשת השמאלית.



דף עבודה 75: גיאומטריה – העתקת צורות.



16 לתמר 10 מכוניות קטנות ולהדס 8 מכוניות קטנות.

כמה מכוניות קטנות יש להם בסך הכל?

הנתונים:

תמר: ___ מכוניות.

הדס: ___ מכוניות.

החשוב:

התשובה: ביחד, יש להם בסך הכל ___ מכוניות קטנות.

דף עבודה 76: פתרון בעיות, בעיות חבר עד 18.



17

לשרון 18 קלפים. בהפסקה הוא הפסיד 9

קלפים. כמה קלפים נותרו לו אחרי ההפסקה?

הנתונים:


היו לשרון: ___ קלפים.

הוא הפסיד: ___ קלפים.

החשוב:

התשובה: לשרון נותרו ___ קלפים אחרי ההפסקה.

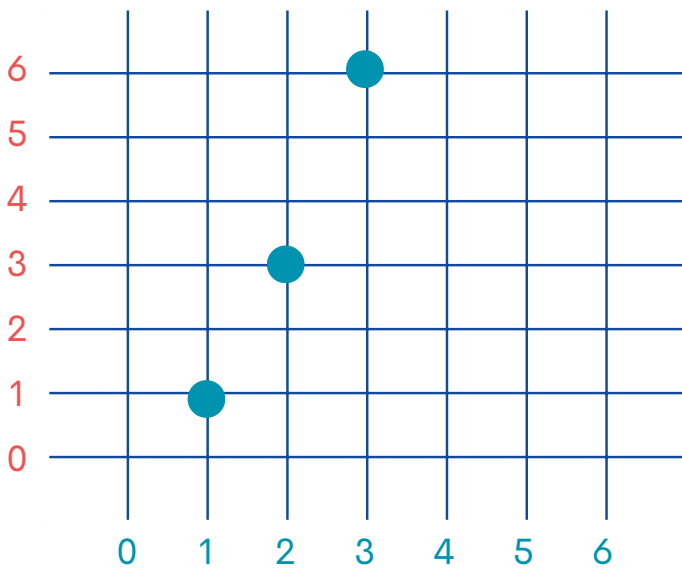
דף עבודה 77: פתרון בעיות, בעיות חסור עד 18.



18

הזיזו כל נקודה 3

משבצות ימינה.



דף עבודה 78: גאומטריה, הזזה.

19 להודיה 10 עפיונים. היא קנתה עוד עפיונים.

עכשו יש לה 18 עפיונים.

כמה עפיונים קנתה הודיה?

יצוג:

היה לה

יש לה

הנתונים:

היו לה: ___ עפיונים.

עכשו יש לה: ___ עפיונים.

החשוב:

התשובה: הודיה קנתה ___ עפיונים.



דף עבודה 79: פתרון בעיות, משואות פשוטות.

20 בכל קבוצה הקיפו את המספר היותר גדול.

9

13

ג

19

16

ב

15

18

א

דף עבודה 80: הכרת המספרים עד 20 – המספר 19.



הערה: יש להדפיס את הדף בגודל 100% בהגדרות ההדפסה, על מנת לשמר את האורך המקורי של האובייקטים

פיתוח וכתובה



דפי הלמידה ע"ש קלוד קדוש ז"ל מחולקים לכולם ללא עלות ע"י עמותת נגבה. עמותת נגבה מפעילה מסגרות אחר הצהריים לילדים ונערים בדרום ובמרכז הארץ.

לפרטים נוספים: negba.org



© כל הזכויות שמורות לעמותת אבינה ולעמותת נגבה.

