

## בחן מס' 2 – דפי העבודה 21 עד 40



## 1 כְּתֹבוּ אֶת הַסְּכּוּם

$0+9= \underline{\quad} \text{ א}$

$4+4= \underline{\quad} \text{ ב}$

$3+6= \underline{\quad} \text{ ג}$

דף עבודה 21: פעולות חשבון במספרים הטבעיים, חבור, סכום עד 9.



## 2 כְּתֹבוּ אֶת הַהֶפְרָשׁ

$8-0= \underline{\quad} \text{ א}$

$9-4= \underline{\quad} \text{ ב}$

$7-2= \underline{\quad} \text{ ג}$

דף עבודה 22: פעולות חשבון במספרים הטבעיים, חסור, הפרש עד 9.



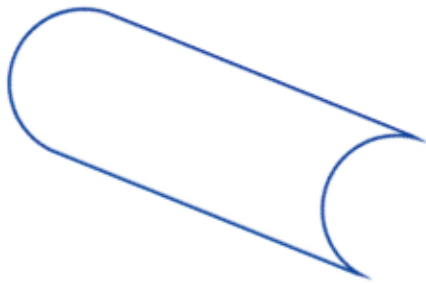
## 3 הַשְּׁלִימוּ

$\underline{\quad} +5=9 \text{ א}$

$7+ \underline{\quad} =7 \text{ ב}$

$2+ \underline{\quad} =5 \text{ ג}$

דף עבודה 23: פעולות חשבון במספרים הטבעיים, משוואות פשוטות.



## 4 הַקִּיפוּ אֶת הַמְּצַלְעִים

דף עבודה 24: צורות גאומטריות – מצלעים.

מְרַבֵּעַ

מְשַׁלֵּשׁ



## 5 צִירוּ לְפִי הַכּוֹתֶרֶת

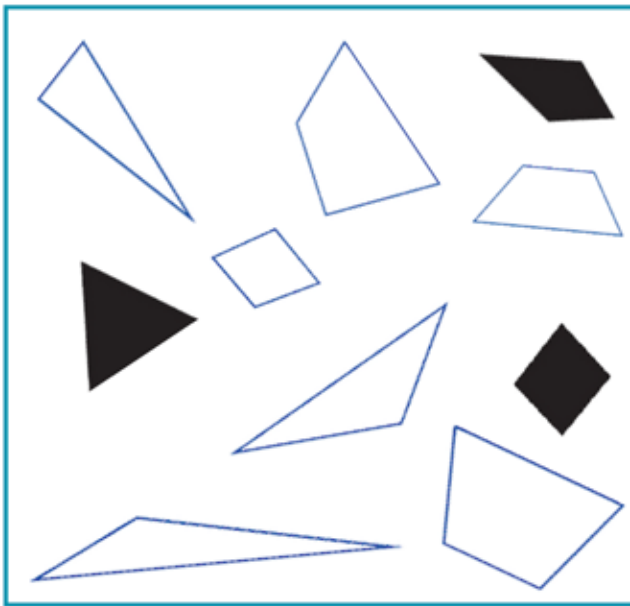
דף עבודה 25: צורות גאומטריות – הכרת המצלעים.

6 סמנו בערך את המקום של המספר 8 על ציר המספרים.



דף עבודה 26: הכרת המספרים עד 20 – המספרים 0 עד 10.

7 כתבו בכל משבצת בטבלה את מספר המצלעים המתאים, לפי הציור



 שֶׁחַר	 לָבֵן	הצבע / הצורה
		משלשים 
		מרבועים 

דף עבודה 27: עבוד נתונים – טבלאות דו-ממדיות.



8 חשבו את הסכום.

$5+5 = \underline{\quad}$  א

$2+7 = \underline{\quad}$  ב

$4+6 = \underline{\quad}$  ג

דף עבודה 28: פעולות חשבון במספרים הטבעיים, חבור, סכום עד 10.



9 כתבו את הערך של כל אות בגמטריה.

$\underline{\quad} = \text{א}$

$\underline{\quad} = \text{ב}$

$\underline{\quad} = \text{ג}$

דף עבודה 29: הכרת המספרים עד 20, ערכי האותיות מ-א עד י.

## 10 צִירוּ לְפִי הַכּוֹתֶרֶת.

ג **מְרַבֵּעַ**

ב **מְשַׁשָּׁה**

א **מְחַמֵּשׁ**

דף עבודה 30 – הכרת המצלעים, המחמש והמששה.



## 11 חֲשְׁבוּ אֶת הַהֶפְרָשׁ

ג  $10 - 0 = \underline{\quad}$

ב  $10 - 1 = \underline{\quad}$

א  $10 - 4 = \underline{\quad}$

דף עבודה 31: פעולות חשבון במספרים הטבעיים, הפרש עד 10.

## 12 כְּתֹבוּ כַּמָּה כֶּסֶף יֵשׁ בְּסֵךְ הַכֵּל.

ג

ב

א

דף עבודה 32: פעולות חשבון במספרים הטבעיים, הכסף עד 10 ש"ח.

## 13 אֵילָנָה קִנְתָּה בָּלוֹן בְּ 3 ש"ח וְכִדּוּר בְּ 7 ש"ח. כַּמָּה שְׁלָמָה אֵילָנָה

בְּסֵךְ הַכֵּל?

הַנְּתוּנִים: בָּלוֹן: \_\_\_ ש"ח ; כִּדּוּר: \_\_\_ ש"ח.

הַחֲשׁוּב:

הַתְּשׁוּבָה: בְּסֵךְ הַכֵּל, שְׁלָמָה אֵילָנָה \_\_\_ ש"ח

דף עבודה 33: פתרון בעיות, בעיות חבור עם כסף, סכום עד 10 ש"ח.

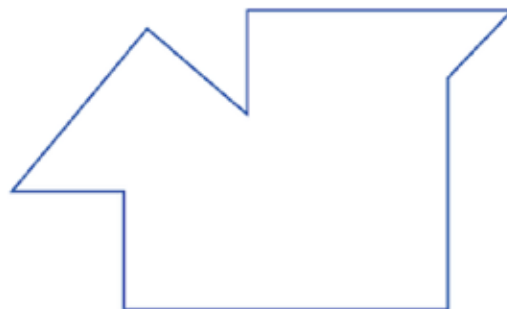
**14** דְּבִיר קָנָה סִכְרִיָּה עַל מִקְל שְׁמַחִירָה 4 ש"ח. הוּא שָׁלַם עִם מַטְבֵּעַ  
 שֶׁל 10 ש"ח. כִּמָּה עֹדֵף יִקְבֵּל דְּבִיר?  
 הַנְּתוּנִים: סִכְרִיָּה עַל מִקְל: \_\_\_\_ ש"ח. הַמַּטְבֵּעַ אֲתָה שָׁלַם: \_\_\_\_  
 ש"ח.



הַחֲשׂוּב: \_\_\_\_\_  
 הַתְּשׁוּבָה: דְּבִיר יִקְבֵּל \_\_\_\_ ש"ח עוֹדֵף.

דף עבודה 34: פתרון בעיות, בעיות חיסור עם כסף, הפרש עד 10 ש"ח.

**15** בְּצוּרָה הַמְצִיֶּרֶת, סַמְנוּ אֶת הַזְּוִיזוֹת הַיְשָׁרוֹת.



דף עבודה 35: גאומטריה, הזווית הישרה.

**16** מְנוּ אֶת הָעֵגוּלִים וְהַשְּׁלִימוּ.

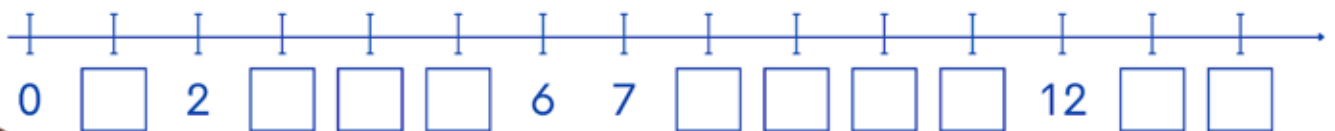


יְחִידוֹת	עֶשְׂרוֹת

בְּסֵךְ הַכֹּל, יֵשׁ \_\_\_\_ עֵגוּלִים.

דף עבודה 36: הכרת המספרים עד 20, המספרים 11 עד 14.

**17** הַשְּׁלִימוּ אֶת הַמַּסְפָּרִים הַחֲסָרִים עַל צִיר הַמַּסְפָּרִים.



דף עבודה 37: הכרת המספרים עד 20, ציר המספרים עד 14.

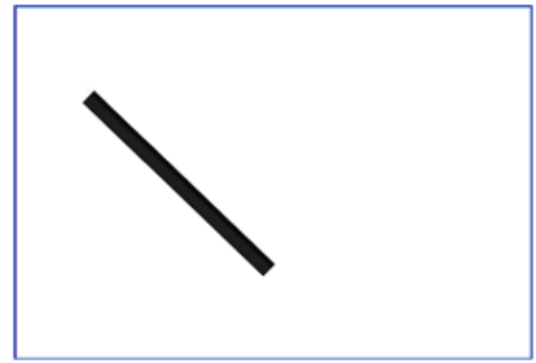
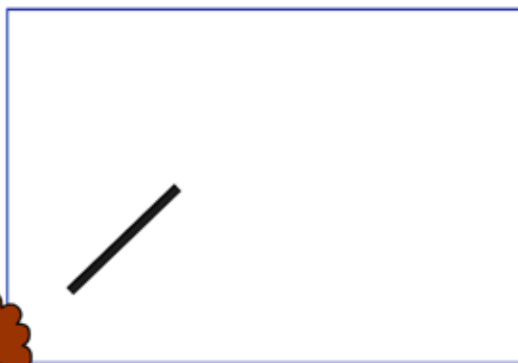


# 18 בכל קבוצה הקיפו את העפרון הקצר יותר.



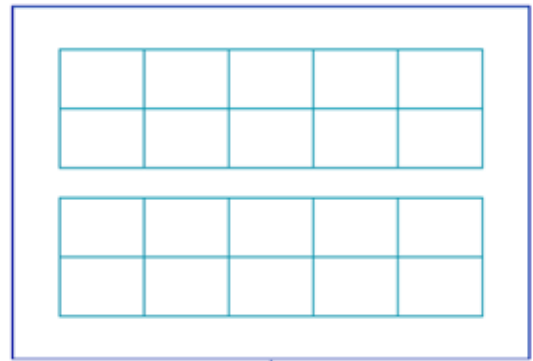
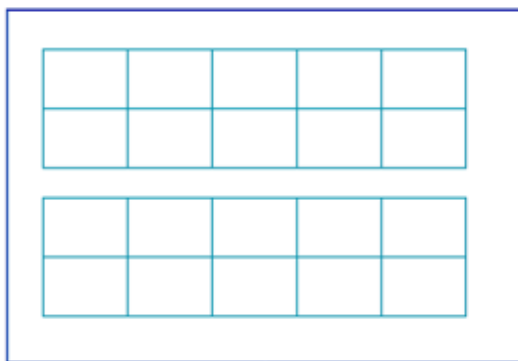
דף עבודה 38: מדידות, השוואה ישירה של ארכים.

# 19 בכל משבצת צירו מקל ארוך יותר מהמקל השחר.



דף עבודה 39: מדידות, מדידת אורך בעזרת מתוך.

# 20 צבעו משבצות בהתאם למספר המבקש.



10

11

דף עבודה 40: הכרת המספרים עד 20, המספר 11.

