

בִּחֹן מַס' 1 – דְּפִי הָעֲבוּדָה 1 עַד 20

1 צִירוּ עֲגוּלִים לְפִי הַמְסָפֵר.

ג

3

ב


1





א

2

דְּפִי עֲבוּדָה 1: הַכֶּרֶת הַמְסָפְרִים עַד 20 – הַמְסָפְרִים 1 עַד 3.

2 הַשְּׁלִימוּ אֶת הַנְּתוּנִים בְּטִבְלָה, לְפִי הַצִּיּוֹר.




הַמְסָפֵר	הַפְּרִי
	
	
	
	


דְּפִי עֲבוּדָה 2: עֲבוֹדַת נְתוּנִים – טִבְלַאות חֵד-מִמְדִּיּוֹת.

3 מְנוּ אֶת הַבְּקָבוּקִים וְכָתְבוּ אֶת הַמְסָפֵר הַמְּתָאִים.


ג



ב



א



דְּפִי עֲבוּדָה 3: הַכֶּרֶת הַמְסָפְרִים עַד 20 – הַמְסָפְרִים 1 עַד 4.

4 כתבו את מספר העוגיות בכל קבוצה.



ג



ב



א

דף עבודה 4: הכרת המספרים עד 20 – המספרים 1 עד 5.

5 הקיפו לפי ההוראות.

ב המכונית שממימין לתמרור.



א המכונית שממשמאל לתמרור.



דף עבודה 5: התמצאות במרחב, מקום יחסי ימין-שמאל.

6 השלימו את הסדרות.

5, __, __, 2, 1, __

ב

__, 1, 2, __, __, __

א

דף עבודה 6: הכרת המספרים עד 20 – המספר 0.

7 השלימו עם הסימן המתאים (<, =, >).

3 ___ 0

ג

4 ___ 4

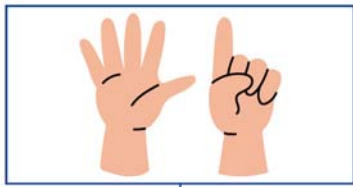
ב

5 ___ 3

א

דף עבודה 7: הכרת המספרים עד 20 – סימני שוין ואי-שוין.

8 כְּתֹבוּ אֶת מִסְפֵּר הָאֲצָבָעוֹת הַמּוֹרָמוֹת בְּכָל צִיּוֹר.



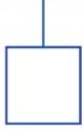
ג



ב



א



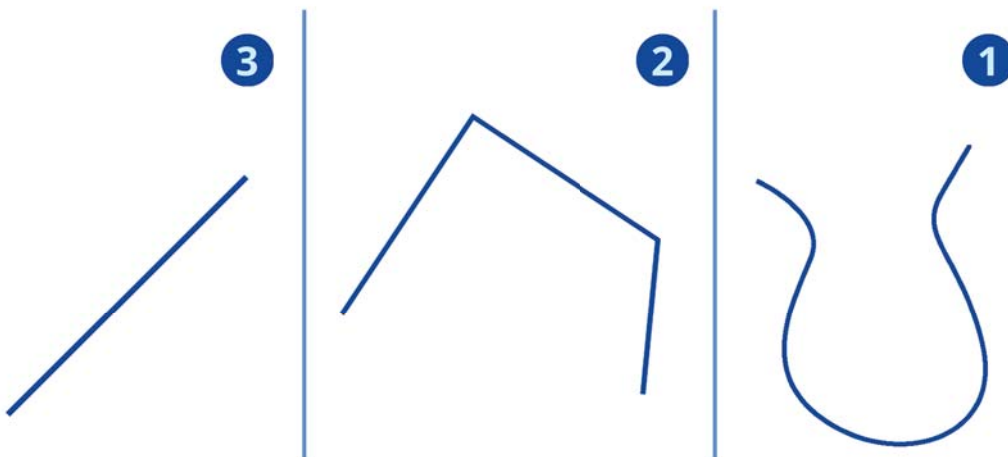
דף עבודה 8: הכרת המספרים עד 20 – המספרים עד 6.

9 כְּתֹבוּ אֶת הַסְּכּוּם.

א $1+4 = \underline{\quad}$ | ב $3+3 = \underline{\quad}$ | ג $0+6 = \underline{\quad}$

דף עבודה 9: פעולות חשבון במספרים הטבעיים, חבור וחסור, סכום עד 6.

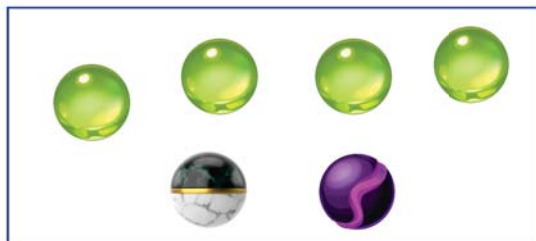
10 הַשְּׁלִימוּ אֶת הַטְּבֵּלָה לְפִי הַמִּסְפָּר הַמֵּתָאִים.



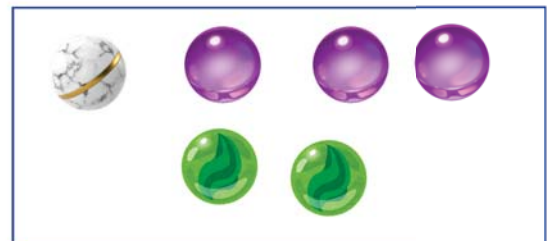
המספר	הקו
	ישר
	שבור
	עקום

דף עבודה 10 – צורות גאומטריות – קוים.

11 כְּתֹבוּ חֲבוּר מֵתָאִים לְצִיּוֹר וְחֲשְׁבוּ אֶת סְכּוּם הַגְּלוֹת.



ב



א

+ + =


+ + =

דף עבודה 11: פעולות חשבון במספרים הטבעיים, חבור, סכום עד 6.

12 השלימו: כמה נרות יש בסך הכל על העוגה?



החשוב: _____
 התשובה: בסך הכל יש _____ נרות
 על העוגה.



דף עבודה 12: פתרון בעיות - בעיות חבר, סכום עד 6.

13 השלימו עם מספר מתאים.

א $6 < \underline{\quad}$ ב $0 = \underline{\quad}$ ג $7 > \underline{\quad}$

דף עבודה 13: הכרת המספרים עד 20 - המספרים 0 עד 7.

14 השלימו לפי הציור.

ג

$\square - \square = \square$

ב


$\square - \square = \square$

א

$\square - \square = \square$

דף עבודה 14: פעולת חשבון במספרים הטבעיים, חסור, הפרש עד 7.

15 בכל קבוצה הקיפו 8 פריטים.



דף עבודה 15: הכרת המספרים עד 20 - המספרים 0 עד 8.



16 כתבו את הסכום.

$$0+8= \underline{\quad} \text{ א} \quad | \quad 1+6= \underline{\quad} \text{ ב} \quad | \quad 4+4= \underline{\quad} \text{ ג}$$

דף עבודה 16: פעולות חיבור במספרים הטבעיים, חבור, סכום עד 8.

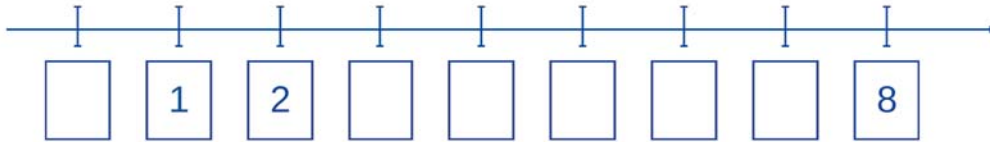
17 כתבו שלושה תרגילי חיסור שונים, שהתוצאה שלהם (ההפרש) היא 3.



$$\underline{\quad} - \underline{\quad} = \underline{\quad} \text{ א} \quad | \quad \underline{\quad} - \underline{\quad} = \underline{\quad} \text{ ב} \quad | \quad \underline{\quad} - \underline{\quad} = \underline{\quad} \text{ ג}$$

דף עבודה 17: פעולות חיבור במספרים הטבעיים, חסור, הפרש עד 8.

18 כתבו במקומם על ציר המספרים את המספרים: 7, 4, 0.



דף עבודה 18: הכרת המספרים עד 20, ציר המספרים עד 8.




19 כתבו את המספר הקודם ואת המספר העוקב של כל אחד מהמספרים.



$$\underline{\quad}, 7, \underline{\quad} \text{ א} \quad | \quad \underline{\quad}, 1, \underline{\quad} \text{ ב} \quad | \quad \underline{\quad}, 5, \underline{\quad} \text{ ג}$$

דף עבודה 19: הכרת המספרים עד 20, המספר הקודם והמספר העוקב, עד 8.

20 הקיפו את הקבוצות שבהן יש 9 צפורים בדייק.



דף עבודה 20: הכרת המספרים עד 20 – המספרים 0 עד 9.