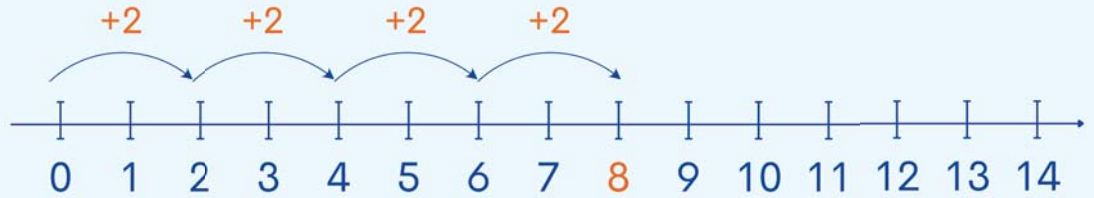


הַכָּנָה לַכֶּפֶל

לומדים

בֶּאָרוֹן הַנְּעָלִים יש 4 זוגות נְעָלִים. כִּמָּה נְעָלִים יש בְּסֵךְ הַכֹּל בְּאָרוֹן?
דָּרָךְ א': $2+2+2+2=8$



דָּרָךְ ב': 2,4,6,8

תְּשׁוּבָה: בְּאָרוֹן, יש בְּסֵךְ הַכֹּל 8 נְעָלִים

מתרגלים

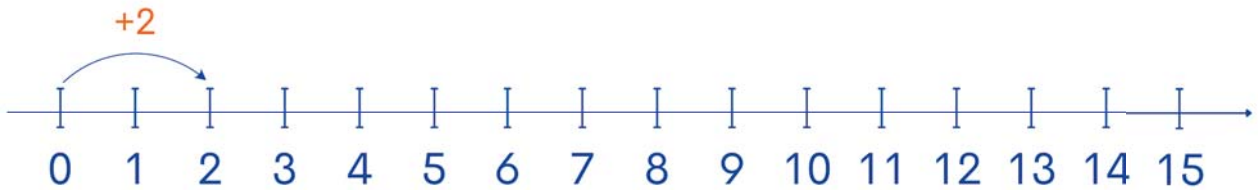


1

עַל הַמָּדָרְךְ סָדְרוּ אֶת הַמְּכוֹנִיּוֹת בְּזוּגוֹת.

חֲשֵבוּ כִּמָּה מְכוֹנִיּוֹת יש בְּסֵךְ הַכֹּל?

הַחֲשׁוּב: ___ + ___ + ___ + ___ + ___ = ___



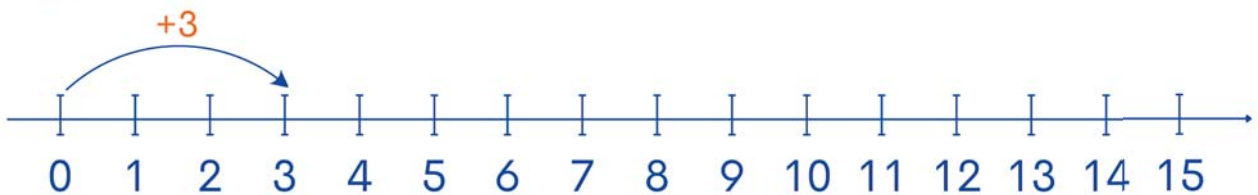
תְּשׁוּבָה: בְּסֵךְ הַכֹּל, יש עַל הַמָּדָרְךְ ___ מְכוֹנִיּוֹת.

2

עַל הַמִּגָּשׁ סָדְרוּ סַכְרִיּוֹת בְּקִבּוּצוֹת שֶׁל 3 סַכְרִיּוֹת

כָּל אַחַת. כִּמָּה סַכְרִיּוֹת יש בְּסֵךְ הַכֹּל עַל הַמִּגָּשׁ?

הַחֲשׁוּב: _____



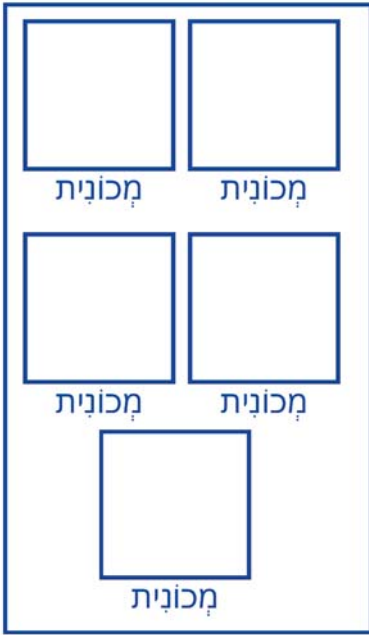
תְּשׁוּבָה: יש בְּסֵךְ הַכֹּל עַל הַמִּגָּשׁ ___ סַכְרִיּוֹת.

3

בְּכֹל מְכוּנֵית יְכוּלִים לְנַסֵּעַ 4 אָנָשִׁים.
 יש 5 מְכוּנֵיות כְּאֵלֶּה.
 כִּמָּה אָנָשִׁים בְּסֵךְ הַכֹּל יוּכְלוּ לְנַסֵּעַ?
 הַחֲשׁוּב:

הַתְּשׁוּבָה: בְּסֵךְ הַכֹּל יוּכְלוּ לְנַסֵּעַ _____ אָנָשִׁים.
 בְּדַקּוּ אֶת תְּשׁוּבַתְכֶם בְּעֶזְרַת צִיר הַמְּסַפְּרִים.

יצאג:



4

לְאוּרְלֵי יש 6 מְטַבְּעוֹת שֶׁל 5 שְׁקֵלִים כָּל אֶחָד.
 כִּמָּה כֶּסֶף יש בְּסֵךְ הַכֹּל לְאוּרְלֵי?
 הַחֲשׁוּב:

הַתְּשׁוּבָה: בְּסֵךְ הַכֹּל, יש לְאוּרְלֵי _____ שְׁקֵלִים.
 בְּדַקּוּ אֶת תְּשׁוּבַתְכֶם בְּעֶזְרַת צִיר הַמְּסַפְּרִים.

יצאג:

