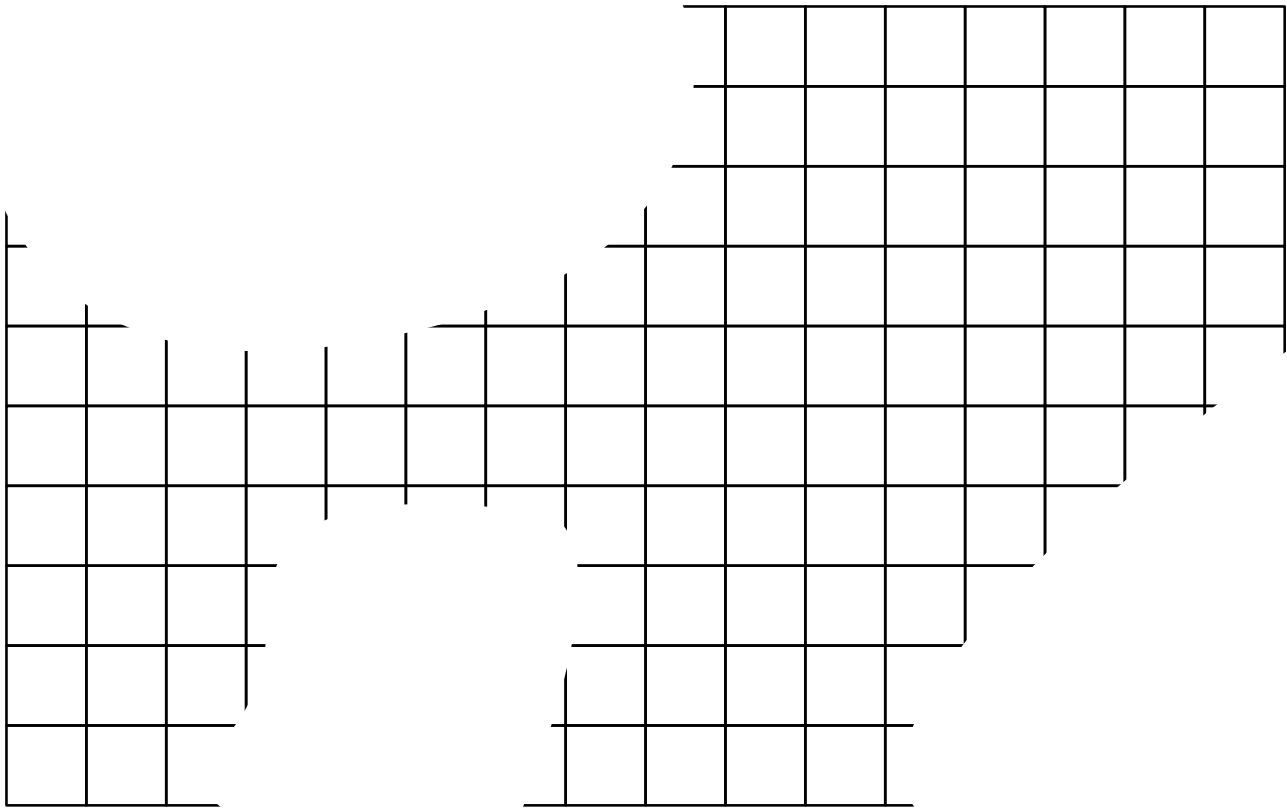


1

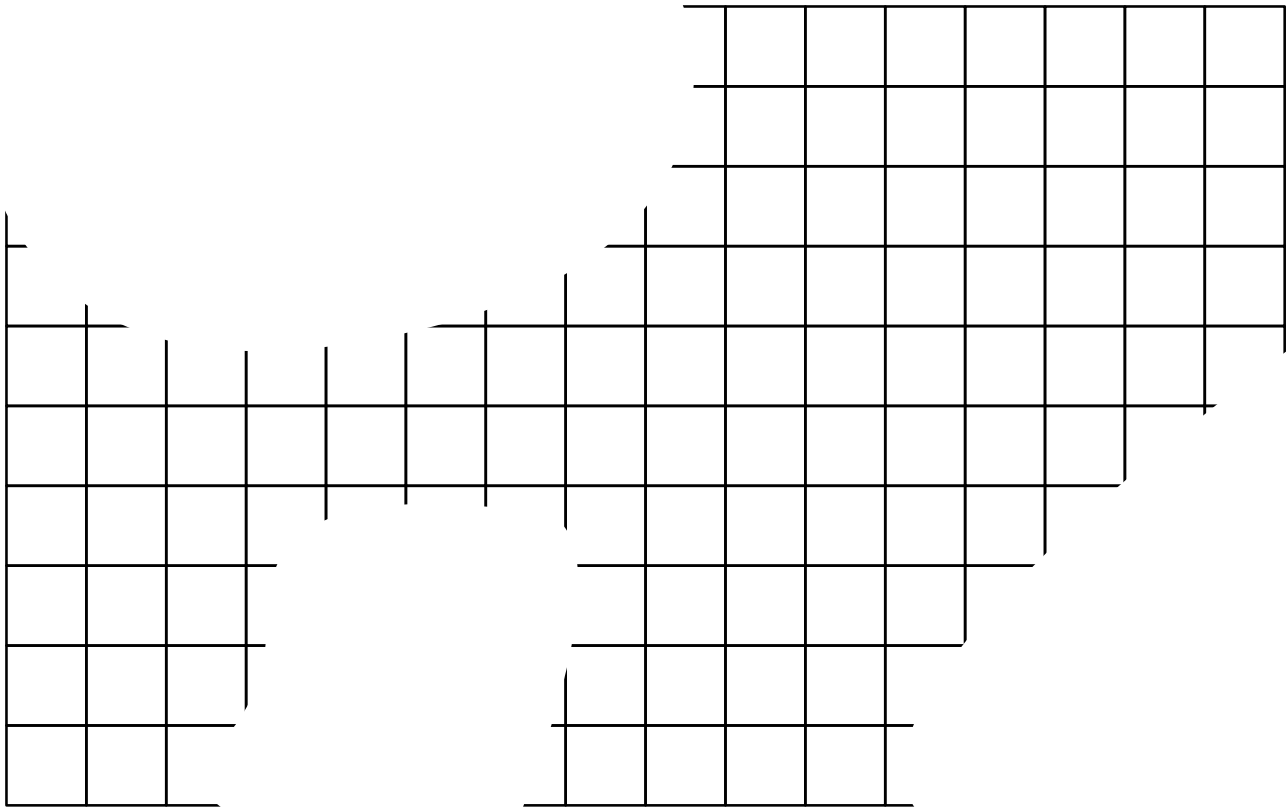
גִּזְרְתִּי מִלְּבֶן שֶׁל נֵיר מְשֻׁבָּץ, אֲבָל אַחֲוֵתִי הַקִּטְנָה שֶׁכָּכָה עָלְיוֹ שׁוֹקוֹ.
שְׂתֵי פָנוֹת נִגְדָּיוֹת לֹא הִכְתַּמּוּ.



כַּמָּה רְבוּעִים הָיוּ לִי בַּמְּלֶבֶן?

1

גזרתי מלבן של ניר משבץ, אבל אחותי הקטנה שפכה עליו שוקו.
שתי פנות נגדיות לא הכתמו.

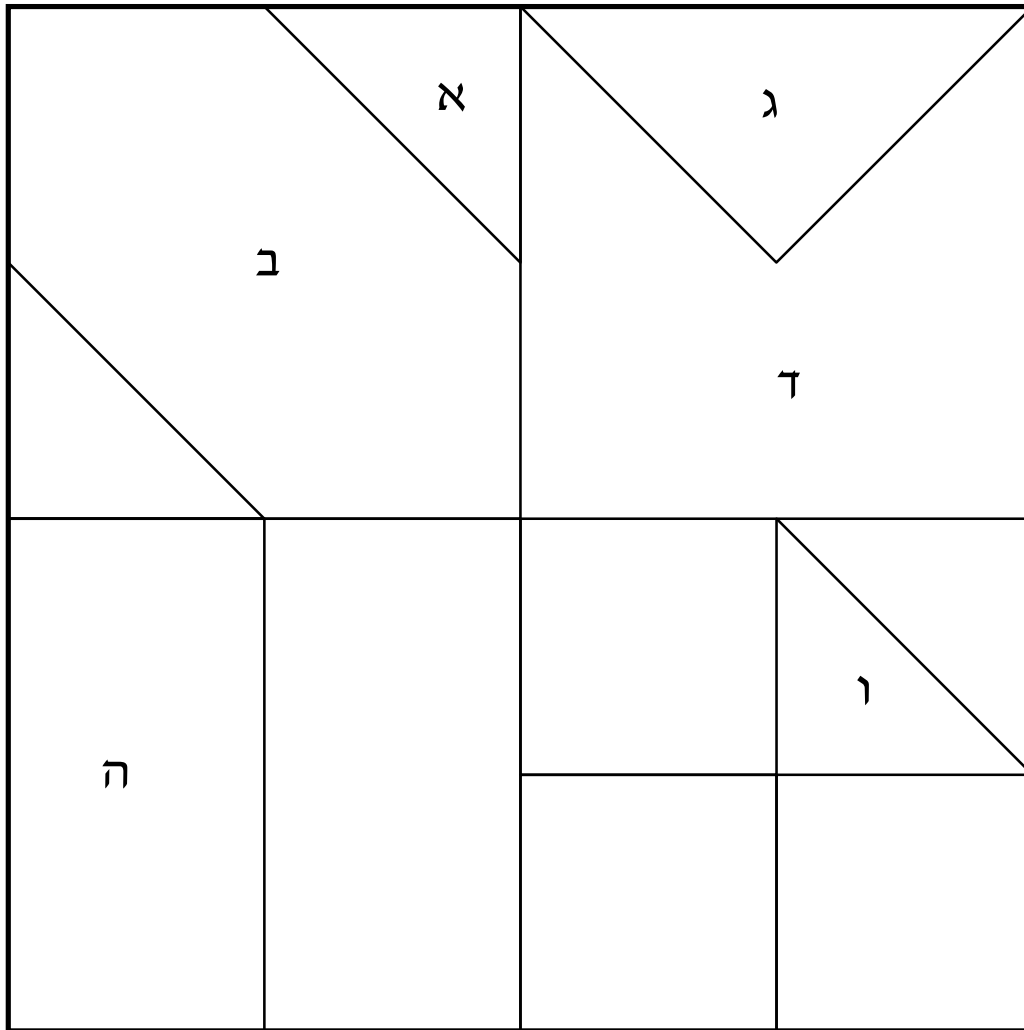


כמה רבועים היו לי במלבן?

היו 160 רבועים.

1

כַּמָּה פְּעָמִים שֵׁטַח כָּל אַחַת מֵהַצּוּרוֹת נִכְנָס בְּרִבּוּעַ הַגָּדוֹל?



שֵׁטַח צוּרָה א נִכְנָס _____ פְּעָמִים בְּרִבּוּעַ הַגָּדוֹל.

שֵׁטַח צוּרָה ב נִכְנָס _____ פְּעָמִים בְּרִבּוּעַ הַגָּדוֹל.

שֵׁטַח צוּרָה ג נִכְנָס _____ פְּעָמִים בְּרִבּוּעַ הַגָּדוֹל.

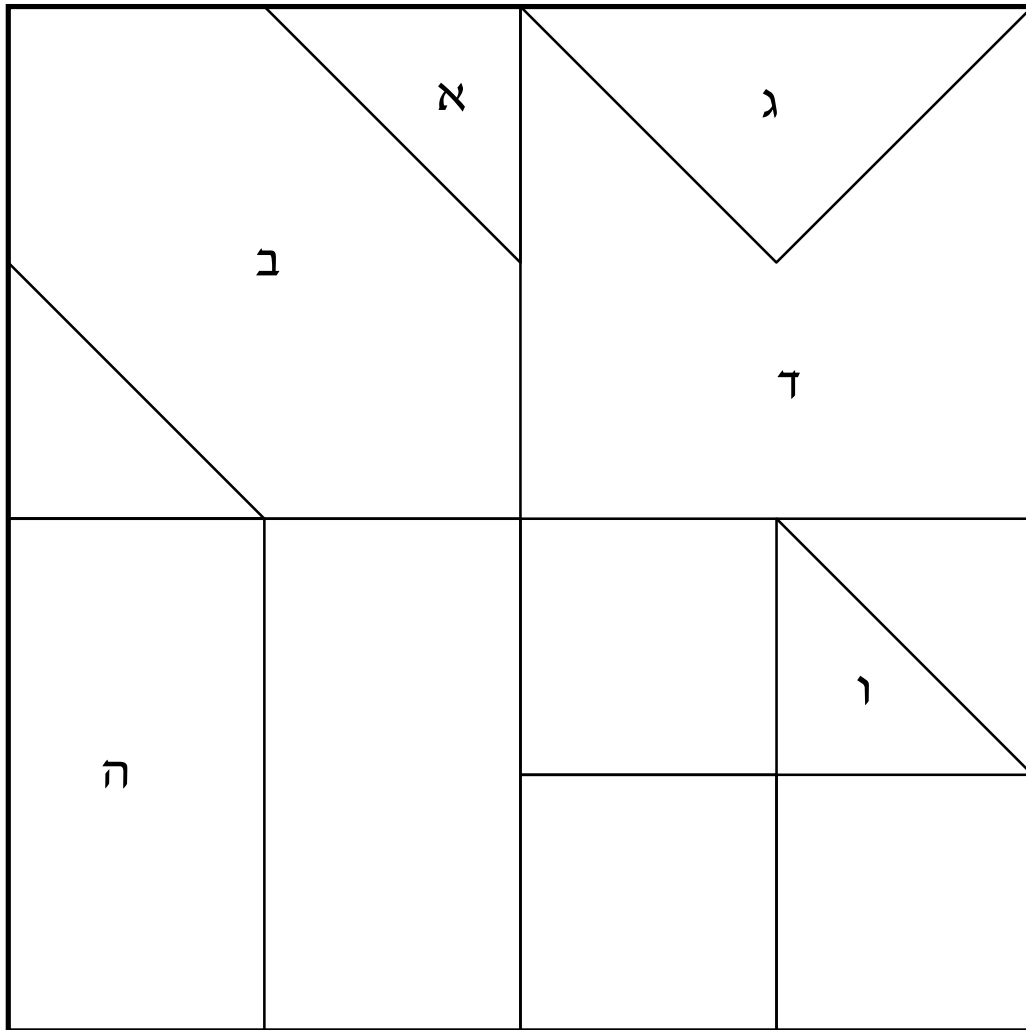
שֵׁטַח צוּרָה ד נִכְנָס _____ פְּעָמִים בְּרִבּוּעַ הַגָּדוֹל.

שֵׁטַח צוּרָה ה נִכְנָס _____ פְּעָמִים בְּרִבּוּעַ הַגָּדוֹל.

שֵׁטַח צוּרָה ו נִכְנָס _____ פְּעָמִים בְּרִבּוּעַ הַגָּדוֹל.

1

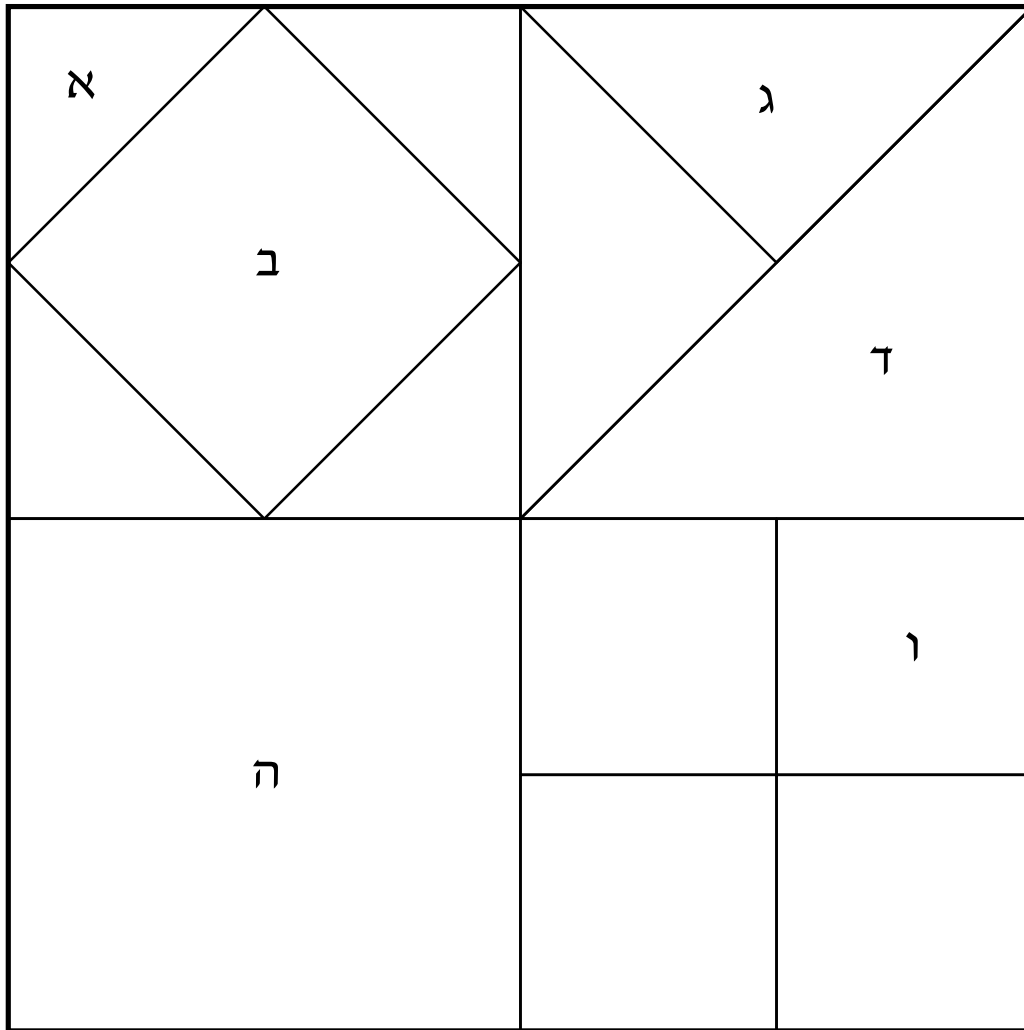
כַּמָּה פְּעָמִים שֵׁטַח כָּל אַחַת מֵהַצּוּרוֹת נִכְנָס בְּרַבּוּעַ הַגָּדוֹל?



- שֵׁטַח צוּרָה א נִכְנָס 32 פְּעָמִים בְּרַבּוּעַ הַגָּדוֹל.
- שֵׁטַח צוּרָה ב נִכְנָס 5 פְּעָמִים בְּרַבּוּעַ הַגָּדוֹל.
- שֵׁטַח צוּרָה ג נִכְנָס 16 פְּעָמִים בְּרַבּוּעַ הַגָּדוֹל.
- שֵׁטַח צוּרָה ד נִכְנָס 5 פְּעָמִים בְּרַבּוּעַ הַגָּדוֹל.
- שֵׁטַח צוּרָה ה נִכְנָס 8 פְּעָמִים בְּרַבּוּעַ הַגָּדוֹל.
- שֵׁטַח צוּרָה ו נִכְנָס 32 פְּעָמִים בְּרַבּוּעַ הַגָּדוֹל.

1

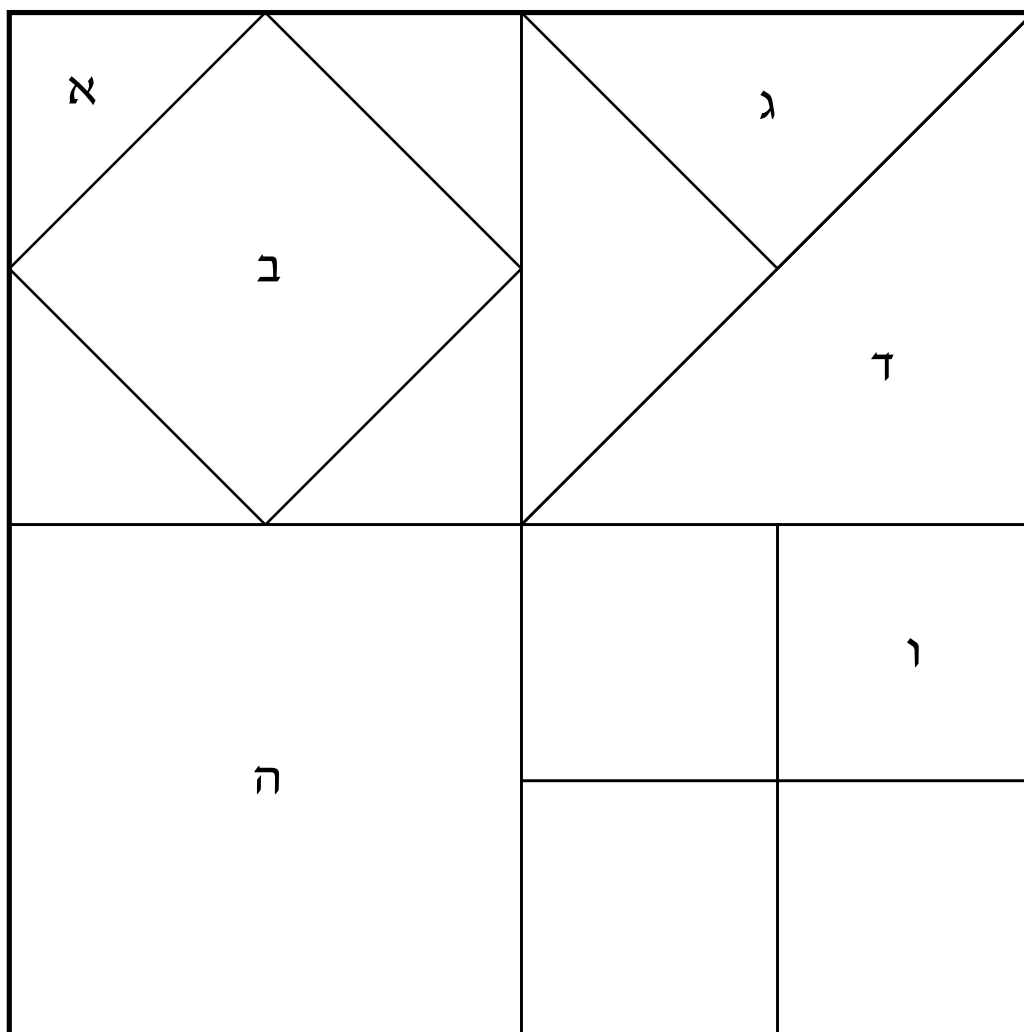
כַּמָּה פְּעָמִים כָּל אַחַת מִהַצּוּרוֹת נִכְנָסֶת בְּרַבּוּעַ הַגָּדוֹל?



- | | | |
|--------------------|-------|----------------------------------|
| צוּרָה א נִכְנָסֶת | _____ | פְּעָמִים בְּרַבּוּעַ הַגָּדוֹל. |
| צוּרָה ב נִכְנָסֶת | _____ | פְּעָמִים בְּרַבּוּעַ הַגָּדוֹל. |
| צוּרָה ג נִכְנָסֶת | _____ | פְּעָמִים בְּרַבּוּעַ הַגָּדוֹל. |
| צוּרָה ד נִכְנָסֶת | _____ | פְּעָמִים בְּרַבּוּעַ הַגָּדוֹל. |
| צוּרָה ה נִכְנָסֶת | _____ | פְּעָמִים בְּרַבּוּעַ הַגָּדוֹל. |
| | _____ | פְּעָמִים בְּרַבּוּעַ הַגָּדוֹל. |

1

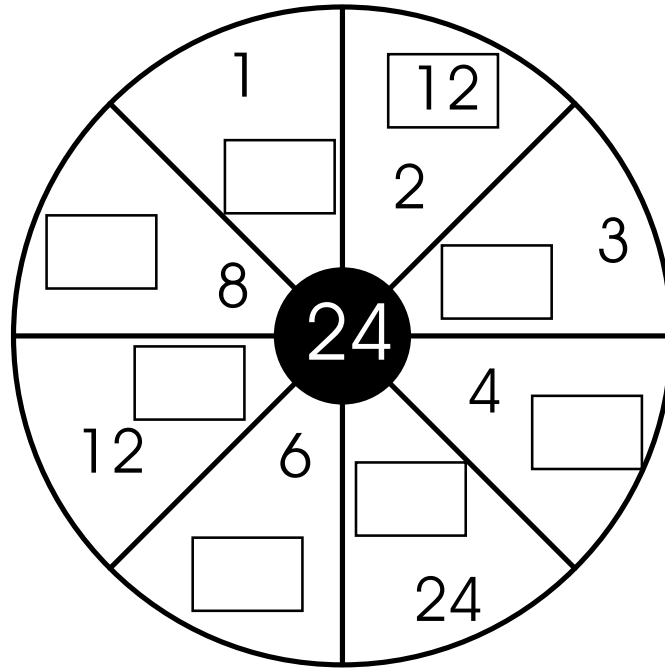
כּמָה פּעָמִים כּל אַחַת מִהצּוּרוֹת נִכְנָסַת בְּרַבּוּעַ הַגָּדוֹל?



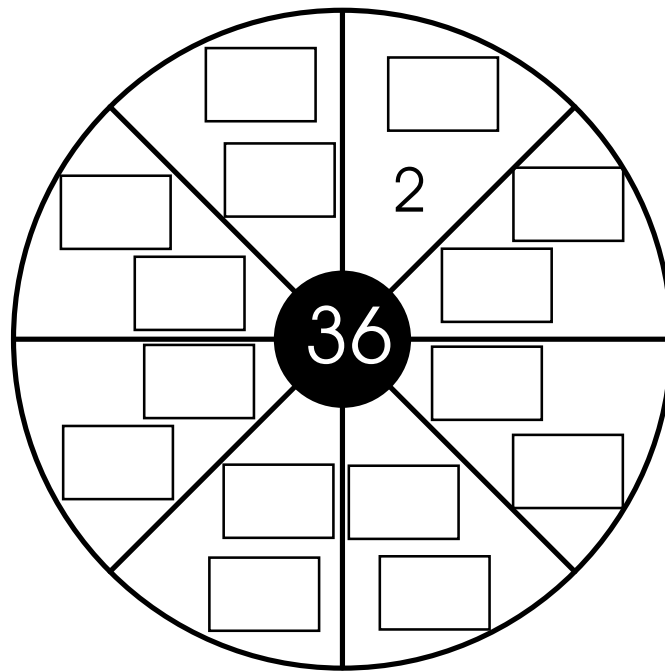
- צוּרָה א נִכְנָסַת 32 פּעָמִים בְּרַבּוּעַ הַגָּדוֹל.
- צוּרָה ב נִכְנָסַת 5 פּעָמִים בְּרַבּוּעַ הַגָּדוֹל.
- צוּרָה ג נִכְנָסַת 16 פּעָמִים בְּרַבּוּעַ הַגָּדוֹל.
- צוּרָה ד נִכְנָסַת 8 פּעָמִים בְּרַבּוּעַ הַגָּדוֹל.
- צוּרָה ה נִכְנָסַת 4 פּעָמִים בְּרַבּוּעַ הַגָּדוֹל.
- צוּרָה ו נִכְנָסַת 16 פּעָמִים בְּרַבּוּעַ הַגָּדוֹל.

1

כאשר מכפילים את שני המספרים באותו פלח מקבלים תמיד 24.
השלימו בהתאם.



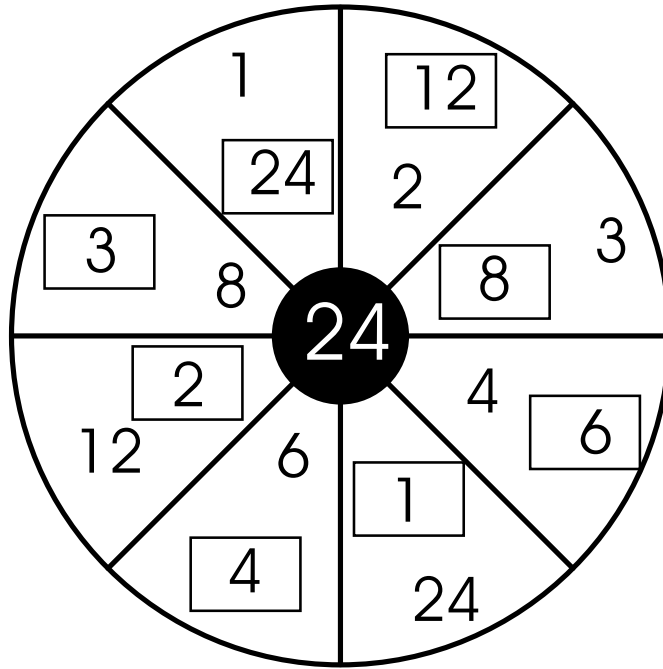
מלאו את המטרה כך שתקבל 36 בכל פלח.



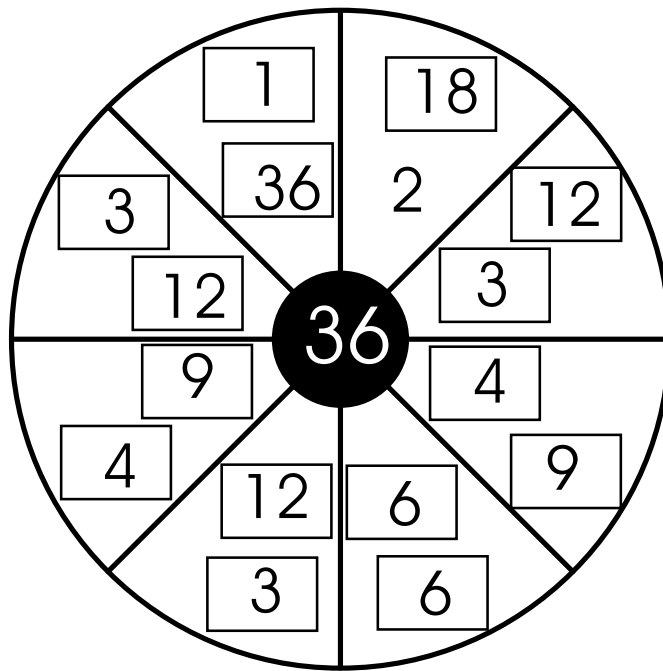
כתבו תרגיל המציג את סכום הפלחים = 288

1

כָּאֲשֶׁר מְכַפְּלִים אֶת שְׁנֵי הַמְסֻפָּרִים בְּאוֹתוֹ פֶּלֶח מְקַבְּלִים תְּמִיד 24.
הַשְּׁלִימוּ בַּהֲתַאֵם.



מִלְּאוּ אֶת הַמְטָרָה כִּד שֶׁתִּקְבַּל 36 בְּכָל פֶּלֶח.



כְּתֹבוּ תַרְגִּיל הַמִּיּוֹצֵג אֶת סְכּוּם הַפְּלָחִים $36 \times 8 = 288$

1

מלאו 5 ארגזים ב' - 60 תפוזים.
כמה תפוזים צריך כדי למלא 9 ארגזים?

כמה ארגזים אפשר למלא ב' - 156 תפוזים?

60		156	מספר התפוזים
5	9		מספר הארגזים

1

מלאו 5 ארגזים ב- 60 תפוזים.

כמה תפוזים צריך כדי למלא 9 ארגזים?

108 תפוזים.

כמה ארגזים אפשר למלא ב- 156 תפוזים?

13 ארגזים.

60	108	156	מספר התפוזים
5	9	13	מספר הארגזים