

1

כל צורה מיצגת ספרה.

מצאו איזו ספרה מיצגת כל צורה

$$\begin{array}{r} 7 \quad 4 \\ - \quad \bullet \quad \blacksquare \\ \hline 5 \quad 4 \end{array}$$

$$\begin{array}{r} 7 \quad 4 \\ + \quad 2 \quad \blacksquare \\ \hline \blacktriangle \quad 4 \end{array}$$

2

כל צורה מיצגת ספרה.

מצאו איזו ספרה מיצגת כל צורה

$$\begin{array}{r} 5 \quad 8 \\ - \quad \blacklozenge \quad \star \\ \hline 3 \quad \star \end{array}$$

$$\begin{array}{r} 3 \quad 6 \\ + \quad 1 \quad \blacklozenge \\ \hline \star \quad 8 \end{array}$$

3

כל צורה מיצגת ספרה.

מצאו איזו ספרה מיצגת כל צורה והשלים

$$\begin{array}{r} 4 \quad 7 \\ - \quad \blacklozenge \quad 2 \\ \hline 2 \quad \blacktriangle \end{array}$$

$$\begin{array}{r} 3 \quad 5 \\ + \quad \blacklozenge \quad \blacktriangle \\ \hline \end{array}$$

1

כל צורה מוצגת ספירה.

מצאו איזו ספירה מוצגת כל צורה

$$\begin{array}{r} 7 \ 4 \\ - \textcircled{2} \ \boxed{0} \\ \hline 5 \ 4 \end{array}$$

$$\begin{array}{r} 7 \ 4 \\ + \ 2 \ \boxed{0} \\ \hline \triangle 9 \ 4 \end{array}$$

2

כל צורה מוצגת ספירה.

מצאו איזו ספירה מוצגת כל צורה

$$\begin{array}{r} 5 \ 8 \\ - \ \diamond 2 \ \star 4 \\ \hline 3 \ \star 4 \end{array}$$

$$\begin{array}{r} 3 \ 6 \\ + \ 1 \ \diamond 2 \\ \hline \star 4 \ 8 \end{array}$$

3

כל צורה מוצגת ספירה.

מצאו איזו ספירה מוצגת כל צורה והשלים

$$\begin{array}{r} 4 \ 7 \\ - \ \diamond 2 \ 2 \\ \hline 2 \ \triangle 5 \end{array}$$

$$\begin{array}{r} 3 \ 5 \\ + \ \diamond 2 \ \triangle 5 \\ \hline 6 \ 0 \end{array}$$

1

יש לכם 4 קפסאות אדמות, 6 קפסאות כחולות, ו- 56 גליות.
אתם צריכים לשים בכל הקפסאות האדמות אותה כמות של גליות,
ובכל הקפסאות הכחולות אותה כמות של גליות.
אתם צריכים להשתמש בכל הגליות.

איך תחלקו את הגליות?

בכל קפסה אדמה יש _____ גליות.

בכל קפסה כחולה יש _____ גליות.

1

יש לכם 4 קפסאות אדמות, 6 קפסאות כחולות, ו- 56 גליות.
אתם צריכים לשים בכל הקפסאות האדמות אותה כמות של גליות,
ובכל הקפסאות הכחולות אותה כמות של גליות.
אתם צריכים להשתמש בכל הגליות.

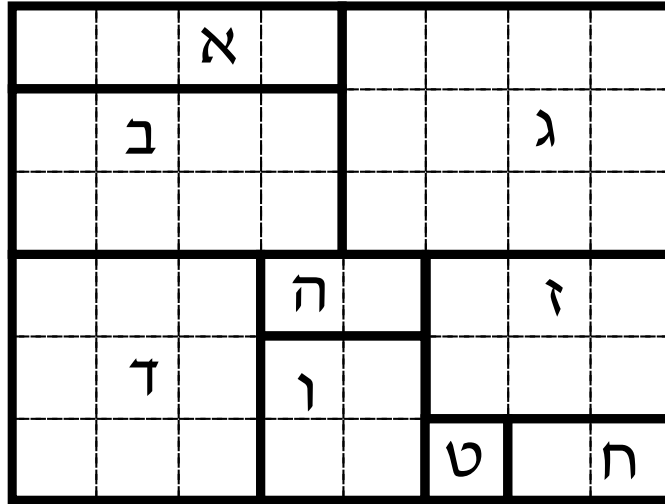
איך תחלקו את הגליות?

בכל קפסה אדמה יש 5 גליות.

בכל קפסה כחולה יש 6 גליות.

1

מְצֵאוּ אֶת הַשֵּׁטָח שֶׁל כָּל אֶחָד מֵהַחֲלָקִים שֶׁל הַפְּזוּל.
גִּזְרוּ אוֹתוֹ וְנִסּוּ לְהִרְכִּיב מִלְּבָן תְּדֵשׁ. צִירוּ אוֹתוֹ



שֵׁטָח א': _____

שֵׁטָח ב': _____

שֵׁטָח ג': _____

שֵׁטָח ד': _____

שֵׁטָח ה': _____

שֵׁטָח ו': _____

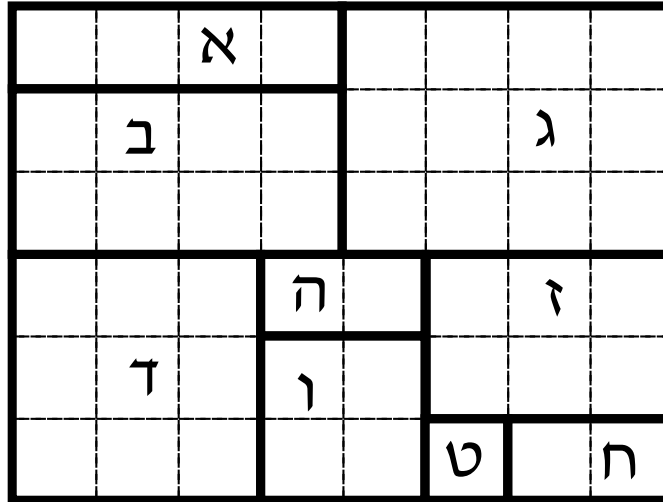
שֵׁטָח ז': _____

שֵׁטָח ח': _____

שֵׁטָח ט': _____

1

מִצְאוּ אֶת הַשֶּׁטַח שֶׁל כָּל אֶחָד מֵהַחֲלָקִים שֶׁל הַפְּזָל.
גִּזְרוּ אוֹתוֹ וְנִסּוּ לְהִרְכִּיב מִלְּבָן תְּדֵשׁ. צִירוּ אוֹתוֹ



שֶׁטַח א': 4 ריבועים

שֶׁטַח ב': 8 ריבועים

שֶׁטַח ג': 12 ריבועים

שֶׁטַח ד': 9 ריבועים

שֶׁטַח ה': 2 ריבועים

שֶׁטַח ו': 4 ריבועים

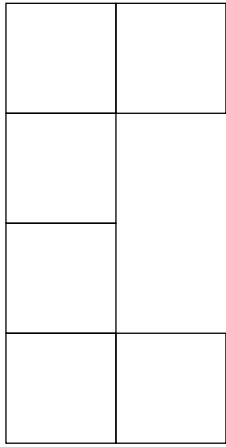
שֶׁטַח ז': 6 ריבועים

שֶׁטַח ח': 2 ריבועים

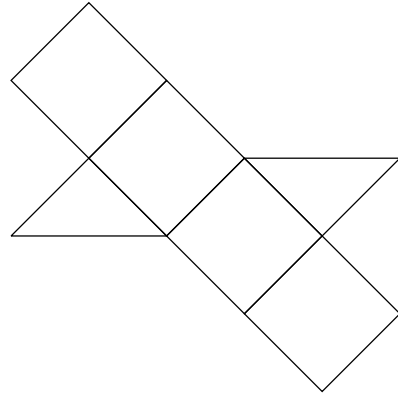
שֶׁטַח ט': ריבוע אחד

1

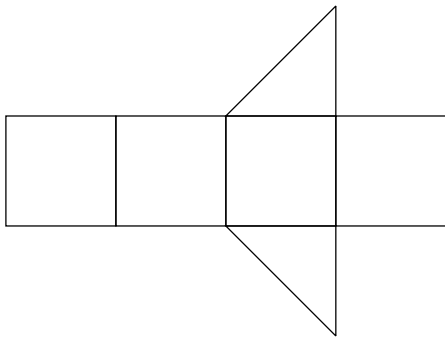
לְאִילוֹ צוּרוֹת יֵשׁ אוֹתוֹ הַשֵּׁטַח?



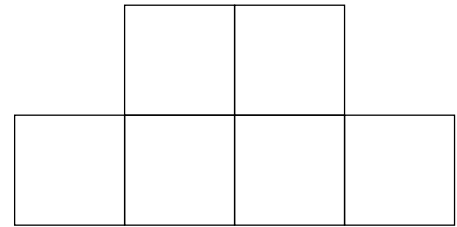
א



ב




ג



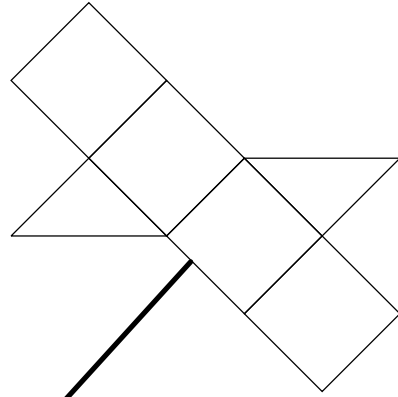
ד

1

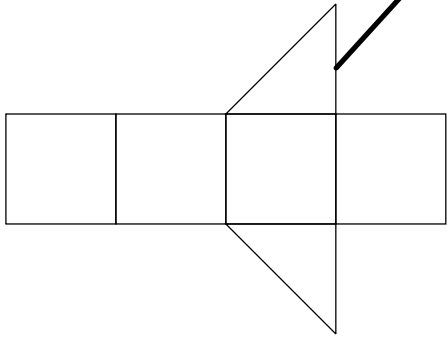
לְאִילוֹ צוּרוֹת יֵשׁ אוֹתוֹ הַשֵּׁטַח?



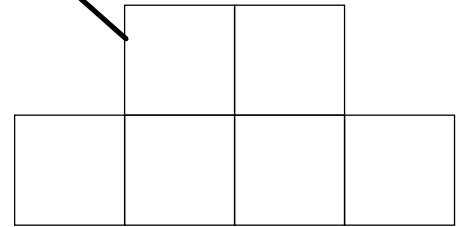
א



ב




ג



ד

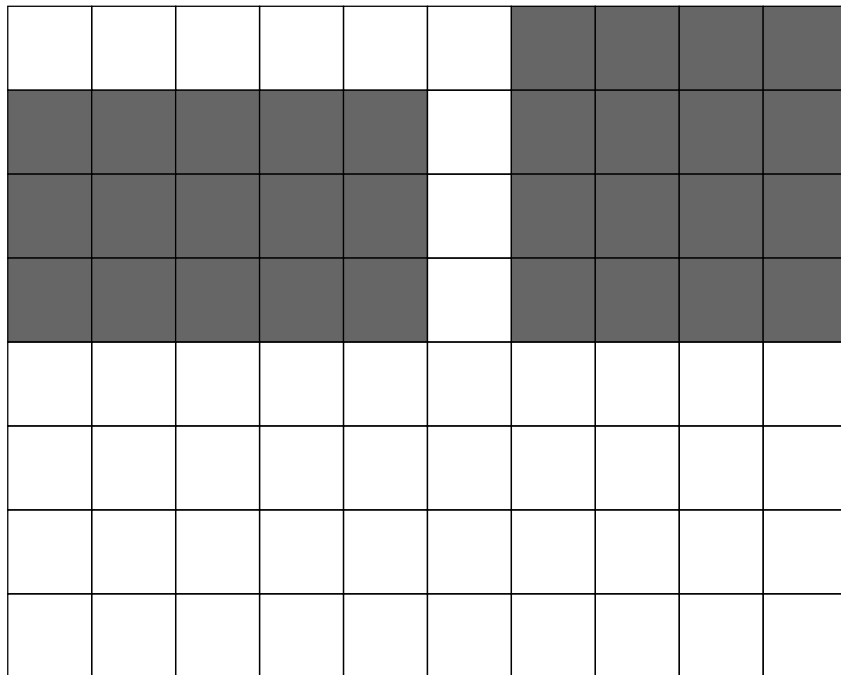
מִלְאוּ שֵׁטַח גָּדוֹל מֵהַמְלֵבָן וְקָטָן מֵהַרְבּוּעַ

1




מִלְאוּ שֵׁטַח גָּדוֹל מֵהַמְלֵבָן וְקָטָן מֵהַרְבּוּעַ

2




1

מלאו שֵׁטַח גָּדוֹל מֵהַמְּלִבּוֹ וְקָטָן מֵהַרְבּוּעַ



2

מלאו שֵׁטַח גָּדוֹל מֵהַמְּלִבּוֹ וְקָטָן מֵהַרְבּוּעַ



מאפיינים : שטחים.
בעיות עקיפות.